

Задание
теоретического и практического тура
Муниципального этапа всероссийской олимпиады школьников по ОБЖ
2020 – 2021 учебный год
10-11 класс


Решение заданий теоретического тура



Время на выполнение задания теоретического тура – **90 минут**.



Максимальное количество баллов за решение заданий теоретического тура – **100 баллов**.

(тестовое задание – **40 баллов**, теоретическое задание – **60 баллов**)

I. Тестовые задания

№	Тестовые задания	Максимальный балл
1	2	3
1.	<p>Из приведенного перечня, выберите только обязанности дневального по роте, предусмотренные уставом Внутренней службы Вооруженных Сил:</p> <p>а) не допускать выноса из казармы оружия, имущества;</p> <p>б) после развода принять по описи документацию, оборудование, инвентарь;</p> <p>в) немедленно докладывать о нарушении установленных уставами правил взаимоотношений между солдатами или сержантами, не пропускать в помещение посторонних лиц;</p> <p>г) следить за точным выполнением распорядка дня в роте;</p>	4
2.	<p>Каковы основные приоритеты национальной безопасности?</p> <p>А) усиление охраны государственной границы, внутренних войск и преобразование милиции в полицию;</p> <p>Б) суверенитет и территориальная целостность;</p> <p>В) развитие системы управления и инфраструктуры Вооруженных Сил;</p> <p>Г) переход Вооруженных Сил на контрактную систему;</p> <p>Д) национальная оборона, государственная и общественная безопасность.</p>	1
3.	<p>Какое безопасное место в 5-ти этажном доме лучше занять при аварии с выбросом хлора?</p> <p>А) в подвале;</p> <p>Б) на 3-м этаже;</p> <p>В) на верхнем этаже</p>	1
4.	<p>Что обозначает знак? </p> <p>А) движение запрещено;</p> <p>Б) проезд без остановки запрещен;</p> <p>В) въезд запрещен</p>	1
5.	<p>Какой из сигналов светофора имеет запрещающее значение?</p> <p>а) жёлтый;</p> <p>б) жёлтый мигающий;</p> <p>в) зелёный;</p> <p>г) красный.</p>	4
6.	<p>24 декабря 1790 года был днем?</p> <p>А) Днем первой в истории России морской победы;</p> <p>Б) Днем взятия турецкой крепости Измаил;</p> <p>В) Днем победы под Полтавой;</p> <p>Г) Днем морской победы у мыса Тендра.</p>	1
7.	<p>Какие действия будут правильными, если человек попал в водоворот?</p> <p>А) Надо резко поплыть к берегу;</p>	1

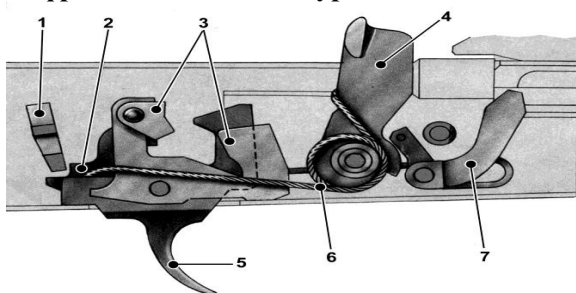
	<p>Б) Надо набрать больше воздуха в легкие, нырнуть вниз, достать дна и, резко оттолкнувшись в сторону течения, всплыть на поверхность;</p> <p>В) Надо набрать побольше воздуха в легкие, погрузиться в воду, и сделав сильный рывок в сторону по течению, всплыть на поверхность</p>	
8.	<p>Какой радиус разлета осколков у гранаты, изображенной на рисунке?</p>  <p>А) 25 метров; Б) 50 метров; В) 200 метров.</p>	1
9.	<p>Гражданин имеет право на замену военной службы по призыву альтернативной гражданской службой в случаях, если:</p> <p>а) он учится в высшем учебном заведении по специальностям в области государственного, муниципального и корпоративного управления;</p> <p>б) несение военной службы противоречит его убеждениям или вероисповеданию;</p> <p>в) он относится к коренному малочисленному народу, ведет традиционный образ жизни, осуществляет традиционное хозяйство и занимается традиционными промыслами;</p> <p>г) его профессия связана с социальной и благотворительной деятельностью.</p>	4
10.	<p>Какие виды из перечисленного оружия запрещено применять согласно международной конвенции?</p> <p>А) реактивные системы залпового огня; Б) ядерное оружие; В) химическое оружие; Г) бактериологическое оружие</p>	4
11.	<p>Что обозначает этот знак?</p>  <p>А) объект, находящийся под охраной; Б) персонал и объекты гражданской обороны; В) демилитаризованная зона</p>	1
12.	<p>Принцип войскового товарищества «Сам погибай, а товарища выручай» сформулировал русский полководец:</p> <p>а) Михаил Кутузов; б) Александр Невский; в) Дмитрий Донской; г) Александр Суворов.</p>	1
13.	<p>Как увековечивали кавалеров Императорского ордена Св. великомученика и Победоносца Георгия?</p> <p>А) устанавливали на родине бронзовый бюст; Б) заносили фамилию на стену в Большом зале Кремля; В) устанавливали табличку с фамилией в Храме Христа Спасителя</p>	1
14.	<p>Граждане Российской Федерации, достигшие 18-летнего возраста, после получения лицензии имеют право на приобретение следующих видов оружия:</p> <p>а) оружия самообороны; б) охотничьего оружия; в) холодного клинкового оружия, предназначенного для ношения с национальными костюмами народов Российской Федерации; г) служебного оружия; д) автоматического оружия.</p>	3

15.	Для тушения возгорания (пожара) класса D – возгорание металлов, применяется огнетушитель: а) ОП; б) ОВП; в) ОУ.	1
16.	Для чего предназначены индивидуальные противохимические пакеты? а) для снятия боли при ранениях и ожогах; б) для обеззараживания капельно-жидких боевых токсичных химических веществ; в) для обеззараживания некоторых аварийно химически опасных веществ, попавших на тело и одежду человека, на средства индивидуальной защиты и на инструмент; г) для предупреждения инфекционных заболеваний.	4
17.	В каком звании военнослужащий, имеющий такие знаки различия?  А) старший прапорщик; Б) капитан-лейтенант; В) старшина; Г) капитан морской авиации	1
18.	Кому часовому разрешается передавать оружие? А) начальнику караула, помощнику начальника караула и своему разводящему; Б) только своему командиру роты; В) никому; Г) командиру полка	1
19.	 Что обозначает знак, подаваемый с земли? 1. Нет возможности к передвижению. 2. Требуется помощь. 3. Пришло в негодность снаряжение.	1
20.	Какие ограничения накладываются на военнослужащих до приведения их к присяге? А) им не разрешают выполнять упражнения стрельб из оружия; Б) за ними не может быть закреплено оружие; В) им не отдают воинское приветствие; Г) их не допускают к несению службы дневальным по роте; Д) их не допускают к несению службы в карауле и на боевом дежурстве	4
ИТОГО:		40


Примечание: При оценке тестовых заданий 0 баллов выставляется за неправильный ответ, а также, если участником отмечены несколько ответов (в том числе правильный) или все ответы.

II. Решение заданий теоретического тура

Задание 1. На рисунке изображен ударно-спусковой механизм автомата Калашникова. Какими цифрами обозначены курок и шептало одиночного огня? (максимальная оценка – 12 баллов)?



Задание 2. Впишите в таблицу название знаков (максимальная оценка – 12 баллов)?

Задание 3. В годы Великой Отечественной войны многие солдаты и офицеры были награждены боевыми орденами. Определите соответствие воинского звания и должности ордену, которым мог быть награждён данный военнослужащий, поставив знаки «+» в соответствующие клетки (максимальная оценка – 12 баллов).

Воинское звание/должность	Наименование ордена			
	Красной Звезды	Александра Невского	Славы	Суворова II степени
Полковник (начальник штаба дивизии)				
Капитан (командир роты)				
Сержант (командир танка)				
Лейтенант (командир взвода)				
Рядовой (наводчик орудия)				
Генерал-полковник (командир корпуса)				
Младший лейтенант (лётчик-истребитель)				

Задание 4. В 2015 году в Вооруженных Силах появился новый вид - Воздушно-космические силы. Приведите их состав и основные задачи (максимальная оценка – 12 баллов).

Задание 5. Приведите примеры отравляющих веществ (ОВ) в соответствии с принятой классификацией (максимальная оценка – 12 баллов)?

№ п/п	Тип ОВ	Название ОВ	№ п/п	Тип ОВ	Название ОВ
ОВ, смертельно выводящие из строя			ОВ, временно выводящие из строя		
1.	ОВ нервно-паралитического действия		5.	ОВ психо-химического действия	
2.	ОВ общеядовитого действия		6.	ОВ раздражающего действия	
3.	ОВ удушающего действия				
4.	ОВ кожно-нарывного действия				