

ТЕОРЕТИЧЕСКИЙ ТУР

старшая возрастная группа (10-11 классы)

Код участника				
С	Т	ОБЖ		

Уважаемый участник Олимпиады!

При выполнении заданий теоретического тура Вам предстоит выполнить определенную работу, которую лучше организовать следующим образом:

Выполнение теоретических (письменных) заданий целесообразно организовать следующим образом:

- не спеша, внимательно прочитайте задание и определите, наиболее верный и полный ответ;
- отвечая на теоретический вопрос, обдумайте и сформулируйте конкретный ответ только на поставленный вопрос;
- если Вы отвечаете на задание, связанное с заполнением таблицы или схемы, не старайтесь детализировать информацию, вписывайте только те сведения или данные, которые указаны в вопросе;
- особое внимание обратите на задания, в выполнении которых требуется выразить Ваше мнение с учетом анализа ситуации или поставленной проблемы. Внимательно и вдумчиво определите смысл вопроса и логику ответа (последовательность и точность изложения). Отвечая на вопрос, предлагайте свой вариант решения проблемы, при этом ответ должен быть кратким, но содержать необходимую информацию;
- после выполнения всех предложенных заданий еще раз удостоверьтесь в правильности выбранных Вами ответов и решений.

Выполнение тестовых заданий целесообразно организовать следующим образом:

- не спеша, внимательно прочитайте тестовое задание;
- определите, какой из предложенных вариантов ответа наиболее верный и полный;
- обведите кружком букву, соответствующую выбранному Вами ответу;
- продолжайте, таким образом, работу до завершения выполнения тестовых заданий;
- после выполнения всех предложенных заданий еще раз удостоверьтесь в правильности выбранных Вами ответов;
- если потребуется корректировка выбранного Вами варианта ответа, то неправильный вариант ответа зачеркните крестиком, а новый выбранный ответ обведите кружком.

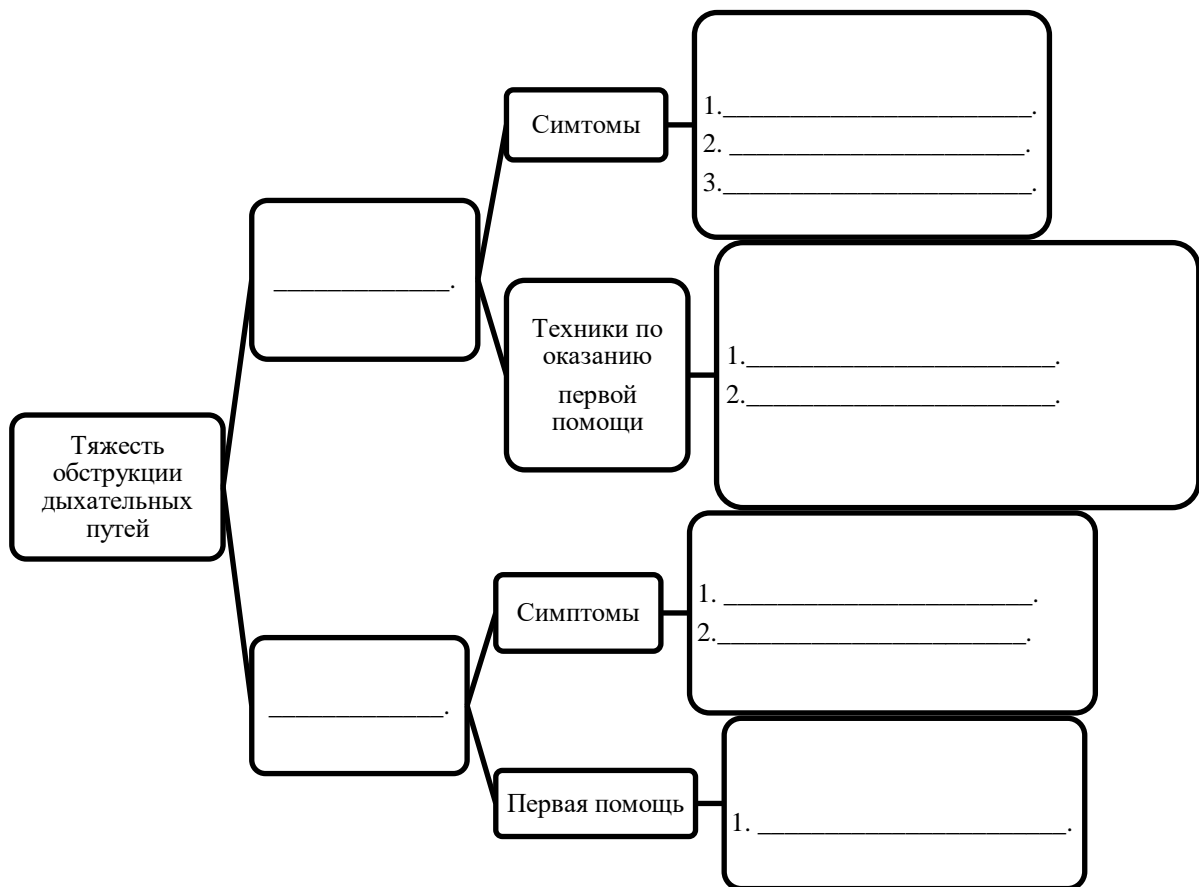
Предупреждаем Вас, что за отмеченные в тесте несколько ответов или все ответы (в том числе правильный), оценка не производится и результат выполнения задания приравнивается к «0 баллов».

Тестовое задание считается выполненным, если Вы вовремя сдаете его членам жюри. **Максимальная оценка - 150 баллов.**

Желаем вам успеха!

Задание 1.

А) Опишите алгоритм диагностики и оказания первой помощи пострадавшему с обструкцией дыхательных путей (заполните пустые ячейки).



Б) Опишите этапы выполнения техники «Удары по спине» при обструкции дыхательных путей.

1. _____

2. _____

3. _____

Оценка задания. Максимальная оценка за правильно выполненное задание **18 баллов**.

- за правильный ответ части А начисляется - 12 баллов (по 2 балла за правильный ответ по каждой из шести позиций);

- за правильный ответ части Б начисляется – 6 баллов (по 2 балла за правильный ответ по каждой из пяти позиций).

Задание 2.

А) Раскройте содержание и требования к выкладыванию знаков согласно международной кодовой системе аварийных знаков:

Сигналы международной кодовой системы

Сигнал	Содержание	Требования при выкладывании аварийных знаков
N		
□		
Δ		
↑		
	Не имеем возможности передвижения	
	Необходима пища и вода	
	Укажите направление следования	
	Все в порядке	

Муниципальный этап всероссийской олимпиады школьников по основам безопасности жизнедеятельности
Ханты-Мансийский автономный округ – Югра
2020-2021 учебный год
10-11 классы

	Да	
	Нужны сигнальная лампа с батареей и радио	

Б) Заполните таблицу.

**Первоочередные действия людей, оказавшихся в условиях автономного
существования в результате аварии, катастрофы, ЧС**

п/п	Описание действий в виде последовательного алгоритма
1.	
2.	
3.	
4.	
5.	
6.	
7.	
8.	
9.	

Оценка задания. Максимальная оценка за правильно выполненное задание **31 балл.**

- за правильный ответ части А начисляется - 13 баллов (по 1 баллу за правильный ответ по каждой из позиций);

- за правильный ответ части Б начисляется – 18 баллов (по 2 балла за правильный ответ по каждой из девяти позиций).

Задание 3.

А) Стрелками укажите соответствие между названиями воинских формирований (левый столбец) и уровнем командования (правый столбец).

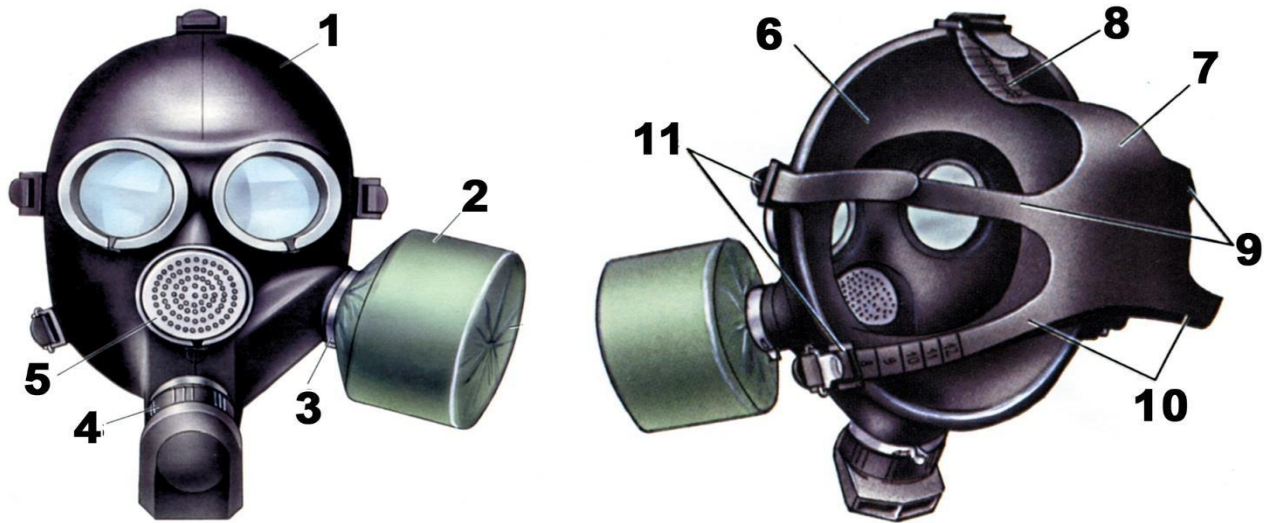
Звено, группа, команда
Полк
Дивизия
Рота
Бригада
Батальон
Армия
Фронт, округ
Отделение
Взвод

Капитан
Майор, подполковник
Ефрейтор
Полковник
Полковник, генерал-майор
Младший сержант
Генерал-майор
Лейтенант
Генерал-лейтенант
Генерал-полковник

Б) Определите соответствие между опасным природным явлением и его сущностью.

Скопление рыхлого ледового материала во время ледостава в сужениях и излуцинах реки, вызывающее подъём воды на некоторых участках выше её русла.		Паводок
Подъём уровня воды, вызванный воздействием ветра на водную поверхность, происходящий обычно в устьях крупных рек, а также на наветренном берегу больших озёр, водохранилищ и морей.		Затор
Нагромождение льдин во время весеннего ледостава в сужениях и излуцинах русла реки, стесняющее течение и вызывающее на некоторых участках выше него подъём уровня воды.		Зажор
Интенсивный периодический и достаточно кратковременный подъём воды в реке, вызываемый сильными дождевыми осадками, а нередко и быстрым таянием снега при зимних оттепелях.		Ветровой нагон

В) Определите тип и марку изображенного на рисунке противогаза. Укажите названия составных частей противогаза, отмеченные цифрами.



-Л

Тип противогаза –
Марка противогаза -

1	
2	
3	
4	
5	
6	
7	
8	
9	
10	
11	

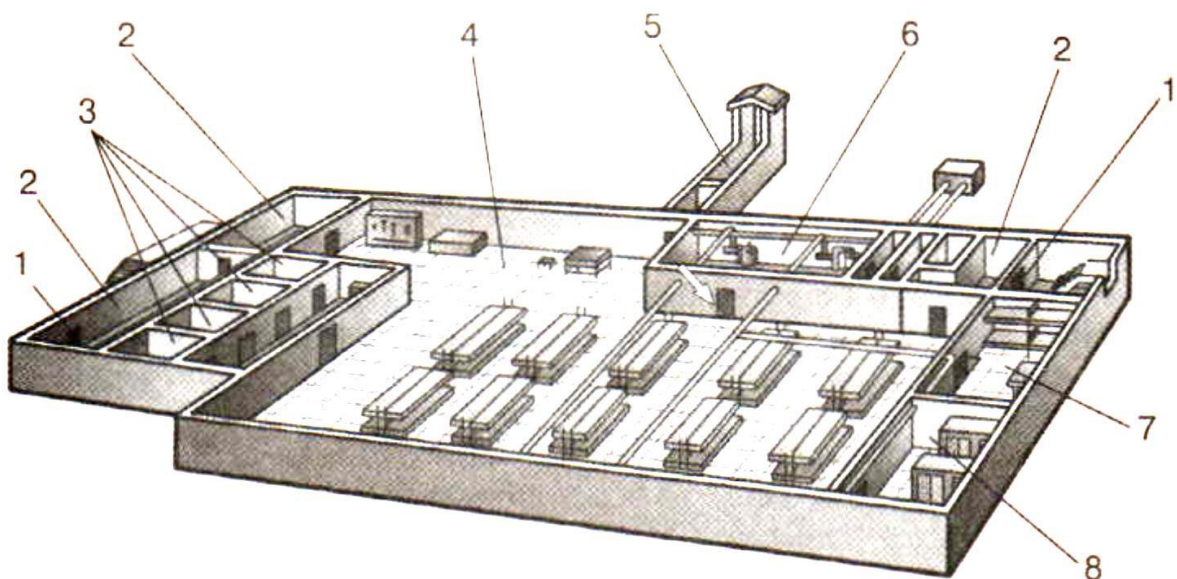
Оценка задания. Максимальная оценка за правильно выполненное задание 39 баллов.

Муниципальный этап всероссийской олимпиады школьников по основам безопасности жизнедеятельности
Ханты-Мансийский автономный округ – Югра
2020-2021 учебный год
10-11 классы

- за правильный ответ части А начисляется - 20 баллов (по 2 балла за правильный ответ по каждой из десяти позиций);
- за правильный ответ части Б начисляется - 8 баллов (по 2 балла за правильный ответ по каждой из четырех позиций);
- за правильный ответ части В начисляется - 11 баллов (по 1 баллу за правильный ответ по каждой из одиннадцати позиций).

Задание 4.

А) На рисунке изображен эскиз защитного сооружения ГО. Назовите тип защитного сооружения и перечислите его элементы, отмеченные цифрами.



Тип защитного сооружения -

1	
2	
3	
4	
5	
6	
7	
8	

Б) Опишите основные источники пищи в условиях выживания.

1. _____;
2. _____;
3. _____;

В) Опишите обязанности граждан по обеспечению воинского учета.

1. _____;
2. _____;
3. _____;
4. _____;
5. _____;
6. _____;

Г) Раскройте классификацию пожаро-взрываоопасных объектов.

1. Категория «А»

_____.

2. Категория «Б»

_____.

3. Категория «В»

_____.

4. Категория «Г»

_____.

5. Категория «Д»

_____.

Оценка задания. Максимальная оценка за правильно выполненное задание **33 балла**.

- за правильный ответ части А начисляется – 8 баллов (по 1 баллу за правильный ответ по каждой из восьми позиций);

- за правильный ответ части Б начисляется – 6 баллов (по 2 балла за правильный ответ по каждой из трех позиций);

Муниципальный этап всероссийской олимпиады школьников по основам безопасности жизнедеятельности
Ханты-Мансийский автономный округ – Югра
2020-2021 учебный год
10-11 классы

- за правильный ответ части В начисляется - 14 баллов (по 2 балла за правильный ответ по каждой из семи позиций);

- за правильный ответ части Г начисляется – 5 баллов (по 1 баллу за правильный ответ по каждой из пяти позиций).

Задание 5. Ответьте на тестовые вопросы.

№ п/п	Тестовые задания	Макс. балл	Кол-во баллов
	2	3	4
Определите один правильный ответ			
1	При организации однодневного турпохода рекомендуется выбирать расстояние до конечной точки маршрута не более: А) 10 км в одну сторону; Б) 15 км в одну сторону; В) 20 км в одну сторону; Г) 25 км в одну сторону.	1	
2	В каком году была официально признана эмблема «Красный крест на белом фоне»: А) 1812; Б) 1863; В) 1876; Г) 1914.	1	
3	Завладение чужим имуществом путем обмана или подлога называется: А) кража; Б) мошенничество; В) грабеж; Г) вымогательство.	1	
4	Определите химическое вещество, имеющее следующую характеристику: Бесцветный газ, в двое легче воздуха, с резким удушающим запахом; при выбросе в атмосферу дымит; конденсируется в жидкость при температуре -34°С; растворим в воде, спирте и эфире. А) аммиак; Б) хлор; В) фосген; Г) сероводород.	1	
5	Под уничтожением грызунов- переносчиков инфекций понимают: А) дезинфекцию; Б) дезинсекцию; В) дератизацию; Г) дегазацию.	1	
6	Временная изоляция и медицинское наблюдение за здоровыми гражданами, имеющими контакт с заболевшими карантинными болезнями - это: А) карантин; Б) обсервация;	1	

Муниципальный этап всероссийской олимпиады школьников по основам безопасности жизнедеятельности
Ханты-Мансийский автономный округ – Югра
2020-2021 учебный год
10-11 классы

	В) изоляция; Г) наблюдение.		
7	Невидимый поток радиоактивных частиц, который характеризуется различной проникающей способностью - это: А) ионизирующее излучение; Б) уровень радиации; В) радиоактивное загрязнение; Г) радиоактивное заражение.	1	
8	Наиболее распространенной причиной гибели пострадавших от тяжелых травм при ДТП является: А) несвоевременное прибытие скорой помощи; Б) безучастность и безграмотность очевидцев; В) отсутствие аптечки; Г) удаленность от больниц или других мед учреждений.	1	
9	Что из перечисленного не относится к боевым традициям Вооруженных сил РФ: А) военная присяга; Б) боевое Братство; В) ротная песня; Г) милосердие к поверженному противнику;	1	
10	В какой статье уголовного кодекса РФ дано разъяснение ответственности граждан в случае умышленного заражения венерическими заболеваниями: А) статья 121 УК РФ; Б) статья 129 УК РФ; В) статья 105 УК РФ; Г) статья 108 УК РФ.	1	
11	Какой буквой обозначается класс горючести металлов: А) А Б) В В) Д Г) Е	1	
12	Укажите несуществующий род войск в составе современных сухопутных войск РФ: А) танковые; Б) мотострелковые; В) армейская авиация; Г) ракетные;	1	
13	До какого возраста возможно использование детской защитной камеры (КЗД-6)? А) до 1,5 лет; Б) до 3 лет; В) до 2 лет; Г) до 5 лет.	1	
Определите несколько правильных ответов			
14	Право на отсрочку от призыва на военную службу имеют граждане: А) обучающиеся по очной форме обучения; Б) граждане, получающие второе высшее образование;	3	

Муниципальный этап всероссийской олимпиады школьников по основам безопасности жизнедеятельности
Ханты-Мансийский автономный округ – Югра
2020-2021 учебный год
10-11 классы

	В) обучающиеся в магистратуре; Г) обучающиеся в аспирантуре; Д) граждане, достигшие 27-летнего возраста Е) граждане, достигшие 25-летнего возраста		
15	В каких статьях уголовного кодекса РФ дано разъяснение ответственности граждан в случае оставления человека в опасности и неоказании первой помощи: А) статья 124 УК РФ; Б) статья 94 УК РФ; В) статья 209 УК РФ; Г) статья 125 УК РФ.	2	
16	Управлять квадроциклом, согласно ПДД, можно: А) с 16 лет; Б) имея права категории А, так как квадроцикл приравнен к мотоциклу; В) с 18 лет; Г) имея удостоверение тракториста-машиниста, так как квадроцикл приравнен к самоходной машине; Д) имея водительское удостоверение любой категории.	2	
17	К запрещающим дорожным знакам относятся: А) таможня; Б) опасность; В) железнодорожный переезд без шлагбаума; Г) уступите дорогу.	2	
18	В состав танкового экипажа танка Т-80 входят: А) водитель; Б) заряжающий; В) наводчик; Г) стрелок-радист; Д) механик-водитель.	2	
19	По длительности проведения эвакуация может быть: А) временной; Б) постоянной; В) среднесрочной; Г) долгосрочной; Д) короткой;	2	
20	Назовите заболевания, которые могут передаваться половым путем: А) СПИД; Б) холера; В) гонорея; Г) герпес; Д) дерматит; Е) пневмония;	3	
Итого:		29	

Примечание. Максимальное количество баллов за тестовые задания 29.