

ВСЕРОССИЙСКАЯ ОЛИМПИАДА ШКОЛЬНИКОВ  
ПО ОСНОВАМ БЕЗОПАСНОСТИ ЖИЗНЕДЕЯТЕЛЬНОСТИ  
**(МУНИЦИПАЛЬНЫЙ ЭТАП)**  
**ТЕОРЕТИЧЕСКИЙ ТУР**  
возрастная группа (7-8 классы)

*Уважаемый участник олимпиады!*

Вам предстоит выполнить тестовые задания (модуль 1) и теоретические (модуль 2)

*Выполнение заданий модуля 1 целесообразно организовать следующим образом:*

- не спеша, внимательно прочитайте тестовое задание;
- определите, какой из предложенных вариантов ответа (в случае их наличия) наиболее верный и полный;
- напишите ответ (на задания со свободным ответом), либо букву, цифру, соответствующую выбранному Вами ответу (на задания с выбором ответа из предложенных);
- продолжайте, таким образом, работу до завершения выполнения заданий;
- после выполнения всех предложенных заданий еще раз удостоверьтесь в правильности ваших ответов;
- если потребуется корректировка выбранного Вами варианта ответа, то неправильный вариант ответа зачеркните крестиком и рядом напишите новый.

Предупреждаем Вас, что:

- при оценке заданий модуля 1, где необходимо определить один правильный ответ, 0 баллов выставляется за неверный ответ и в случае, если участником отмечены несколько ответов (в том числе правильный), или все ответы;
- при оценке заданий модуля 1, где необходимо определить все правильные ответы, 0 баллов выставляется, если участником отмечены неверные ответы, большее количество ответов, чем предусмотрено в задании (в том числе правильные ответы) или все ответы.

Время выполнения заданий теоретического тура 1 час (60 минут).

*Выполнение теоретических заданий модуля 2 целесообразно организовать*

- не спеша, внимательно прочитайте задание и определите, наиболее верный и полный ответ;

- отвечая на теоретический вопрос, обдумайте и сформулируйте конкретный ответ только на поставленный вопрос;

- если Вы отвечаете на задание, связанное с заполнением таблицы или схемы, не старайтесь детализировать информацию, вписывайте только те сведения или данные, которые указаны в вопросе;

- особое внимание обратите на задания, в выполнении которых требуется выразить Ваше мнение с учетом анализа ситуации или поставленной проблемы. Внимательно и вдумчиво определите смысл вопроса и логику ответа (последовательность и точность изложения). Отвечая на вопрос, предлагайте свой вариант решения проблемы, при этом ответ должен быть кратким, но содержать необходимую информацию;

- после выполнения всех предложенных заданий еще раз удостоверьтесь в правильности выбранных Вами ответов и решений.

Задание теоретического тура считается выполненным, если Вы вовремя сдаете его членам жюри.

**Максимальная оценка – 100 баллов.**

Муниципальный этап всероссийской олимпиады школьников

2021 – 2022 учебный год

ОБЖ

7 – 8 классы

Максимальная оценка – 100 баллов


Время выполнения заданий - 1 час (60 минут)


Теоретический тур

Тестовые задания для 7-8 классов

Максимальное количество баллов за тестовые задания: 60 баллов.

№ п.п.	Тестовые задания	Кол-во набранных баллов
<b>Определите один правильный ответ (За каждый правильный ответ начисляется 2 балла)</b>		
1.	<b>Что является пожаром?</b> а) неконтролируемое горение, причиняющее материальный ущерб, вред жизни и здоровью граждан, интересам общества и государства б) возгорание в результате умышленных или неосторожных действий в) начало горения под действием источника зажигания г) сложный физико-химический процесс превращения компонентов горючей смеси в продукты сгорания с выделением теплового излучения, света и лучистой энергии	
2.	<b>Как огонь распространяется при верховых пожарах?</b> а) быстро, пламя перекидывается по кустарникам б) быстро, огонь распространяется по кронам деревьев в) быстро, перпендикулярно направлению ветра	
3.	<b>Сколько существует основных сигналов оповещения гражданской обороны?</b> а) 4 б) 6 в) 5 г) 3	
4.	<b>Если при грозе запаздывание звука грома растёт, то грозовой фронт?</b> а) приближается б) удаляется в) стоит на месте г) ходит по кругу	
5.	<b>При запуске бумажных фонариков, натянутых на деревянный каркас, в нижней части которых закрепляется горелка, расстояние до леса должно быть не менее?</b> а) 200 м б) 85 м в) 100 м г) 95 м	
6.	<b>Какое цветовое обозначение соответствует уровню опасности от погодных факторов «Наблюдаются или ожидаются в прогностический период некоторые опасности для отдельных видов деятельности. Для населения опасности не наблюдаются и не ожидаются»?</b> а) оранжевый б) жёлтый	

	<p>в) зелёный г) красный</p>	
7.	<p><b>У пострадавшего в результате термического ожога предплечья возникла боль на месте повреждения – покраснение, отёк, пузыри с прозрачным содержимым. Какой степени ожога соответствуют описанные признаки?</b></p> <p>а) I <b>б) II</b> в) III г) IV</p>	
8.	<p><b>Массовое, прогрессирующее во времени и пространстве в пределах определённого региона распространение инфекционной болезни людей, значительно превышающее обычно регистрируемый на данной территории уровень заболеваемости, – это?</b></p> <p>а) эпизоотия <b>б) эпидемия</b> в) эпифитотия г) пандемия</p>	
9.	<p><b>Если в результате ЧС количество людей, погибших и (или) получивших ущерб здоровью, составляет свыше 500 человек либо размер материального ущерба составляет свыше 1,2 млрд рублей, то это чрезвычайная ситуация?</b></p> <p><b>а) федерального характера</b> б) муниципального характера в) межрегионального характера г) локального характера</p>	
10.	<p><b>Какой орган федеральной исполнительной власти ведёт единый федеральный список организаций, в том числе иностранных и международных, признанных судами Российской Федерации террористическими?</b></p> <p>а) <b>ФСБ России</b> б) Минюст России в) МВД России г) СВР России</p>	
11.	<p><b>Верны ли следующие суждения об асептике?</b></p> <p>А. Асептика – это комплекс мероприятий, направленных на предупреждение попадания возбудителей инфекции в рану или организм человека. Б. Асептика – это комплекс мероприятий, направленных на борьбу с инфекцией в организме человека.</p> <p><b>а) верно только А</b> б) верно только Б в) верны оба суждения г) оба суждения неверны</p>	
12.	<p><b>Какая повязка изображена на рисунке?</b></p>  <p>а) <b>прачевидная</b> б) шапочка Гиппократ</p>	

	в) косыночная г) чепец	
	<b>Определите все правильные ответы</b> (За каждый правильный ответ начисляется 2 балла)	
13.	<p><b>Какое значение имеет визуальный сигнал и к какому типу он относится?</b></p>  <p>а) «земля–воздух» б) отрицательно – «нет» в) утвердительно – «да» г) «воздух–земля» д) «необходима медицинская помощь»</p>	
14.	<p><b>Клещи чаще всего обитают?</b></p> <p>а) в смешанных лесах б) в хвойных лесах в) в густой траве г) в лиственных лесах д) в редкой траве</p>	
15.	<p><b>Опасными гидрологическими явлениями считаются?</b></p> <p>а) ветровой нагон б) оползень в) обвал г) шторм д) зажор</p>	
16.	<p><b>Лица, достигшие ко времени совершения преступления четырнадцатилетнего возраста, подлежат уголовной ответственности за?</b></p> <p>а) убийство (ст. 105 УК РФ) б) заведомо ложное сообщение об акте терроризма (ст. 207 УК РФ) в) приведение в негодность объектов жизнеобеспечения (ст. 215.2 УК РФ) г) убийство, совершённое в состоянии аффекта (ст. 107 УК РФ) д) бандитизм (ст. 209 УК РФ)</p>	
17.	<p><b>Покрывало спасательное изотермическое накладывается серебристой стороной внутрь (к пострадавшему) при?</b></p> <p>а) тепловом ударе б) травматическом шоке в) переохлаждении г) солнечном ударе д) значительном повышении температуры тела при инфекционных заболеваниях</p>	
18.	<p><b>Какие признаки характерны для ушиба конечности?</b></p> <p>а) кровоизлияние б) деформация пострадавшей части конечности в) отёк в месте повреждения г) укорочение пострадавшей части конечности д) костный хруст</p>	
19.	<p><b>С какого числа и года установлен День солидарности в борьбе с терроризмом?</b></p> <p>а) 2017 г. б) с 3 сентября</p>	

	<b>в) 2005 г.</b> г) с 21 августа д) 2004 г.	
20.	<b>Основными принципами закаливания являются:</b> <b>а) систематичность</b> б) сезонность <b>в) последовательность</b> г) быстрое нарастание интенсивности воздействия д) отсутствие учёта индивидуальных особенностей	
21.	<b>Какие подручные средства можно использовать для остановки венозного кровотечения?</b> а) жгут б) брючный ремень <b>в) косынку</b> г) тонкий провод <b>д) шейный платок</b>	

**Теоретический тур**  
**Письменные задания для 7-8 классов**

**Максимальное количество баллов за письменные задания: 40 баллов.**

**Задание 1**

**Во время грозы опасно укрываться вблизи высоких деревьев.  
 Проанализируйте изображения и определите:**

**А. в какие деревья молния бьёт чаще?  
 Выберите два правильных ответа.**

1)



2)



3)



4)



5)



Ответ

1)	2)	3)	4)	5)

**Б. в какие деревья молния бьёт реже?**

Выберите три правильных ответа.

1)



2)



3)





4)



5)



**Ответ**

1)	2)	3)	4)	5)

**Оценка за каждый правильный ответ - 2 балла.  
Максимальная оценка за задание – 10 баллов.**

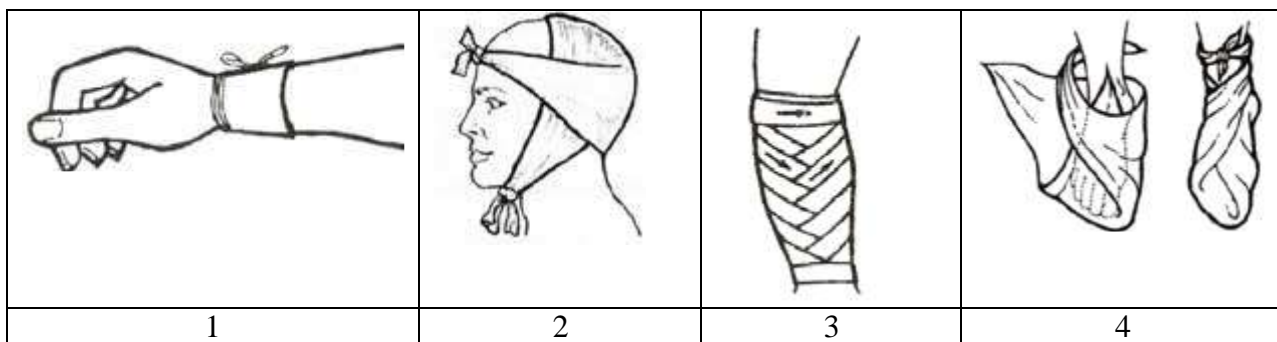
### **Задание 2**

Установите соответствие между наименованием повязки и её изображением: для каждой позиции, обозначенной буквой, подберите соответствующую позицию, обозначенную цифрой. Результаты внесите в таблицу.

#### **Наименование повязки**

- А. пращевидная повязка
- Б. циркулярная повязка
- В. косыночная повязка
- Г. спиральная повязка

### Изображение повязки



Ответ:

А	Б	В	Г
2	1	4	3

Оценка задания. Максимальная оценка за правильно выполненное задание – 10 баллов, при этом:

- за каждый правильный ответ начисляется по 2 балла;
- за все правильные ответы дополнительно начисляется 2 балла;
- при отсутствии правильных ответов баллы не начисляются.

### Задание 3

Установите соответствие между видом раны и её характеристикой (описанием).

Вид ран	Характеристика ран
Колотые	Получены в результате действия острого тяжёлого предмета (например, удар фрагментами разрушенного при ДТП кузова автомобиля). Очень опасны из-за большой глубины проникновения ранящего предмета
Резаные	Могут являться следствием ранения предметом неправильной формы с неровными краями
Ушибленные	При незначительных внешних повреждениях и слабом наружном кровотечении нередко сопровождаются повреждениями внутренних органов и значительным внутренним кровотечением
Рубленые	Сопровождаются значительной зоной размозжения. Рана имеет неровные края, окружена кровоподтёком. Могут страдать и внутренние органы

Рваные

Разрез разной глубины и протяжённости с ровными краями. Особенно опасны раны шеи и конечностей в области крупных артерий

**Оценка задания. Максимальная оценка за правильно выполненное задание – 10 баллов, при этом:**

- за каждый правильный ответ начисляется по 2 балла;
- при отсутствии правильных ответов баллы не начисляются.

#### Задание 4

Средство индивидуальной защиты – средство индивидуального пользования для предотвращения или уменьшения воздействия на человека вредных и (или) опасных факторов, а также для защиты от загрязнения.

Установите соответствие между средством индивидуальной защиты и группой, к которой это средство относится. Соответствие отметьте знаком «+».

**Ответ:**

<b>А</b> Средства индивидуальной защиты органов дыхания	<b>Б</b> Наименование средства индивидуальной защиты	<b>В</b> Средства индивидуальной защиты кожи
+	камера защитная детская	
	защитные очки	+
+	защитные очки противогаз	
	одежда специальная защитная	+
+	респиратор	

**Оценка задания. Максимальная оценка за правильно выполненное задание – 10 баллов, при этом:**

- за правильный ответ по каждой из пяти позиций, указанных в варианте ответа, начисляется по 2 балла;
- 0 баллов выставляется, если участником отмечены все возможные варианты ответов, а также при отсутствии правильных ответов.