

ВСЕРОССИЙСКАЯ ОЛИМПИАДА ШКОЛЬНИКОВ
ПО ОСНОВАМ БЕЗОПАСНОСТИ ЖИЗНЕДЕЯТЕЛЬНОСТИ

(Муниципальный этап)

ТЕОРЕТИЧЕСКИЙ ТУР

Возрастная группа (10-11 класс)

Уважаемый участник олимпиады!

Вам предстоит выполнить теоретические (модуль 1) и тестовые задания (модуль 2).

Время выполнения заданий теоретического тура - 2 академических часа (90 минут).

Выполнение теоретических заданий модуля 1 целесообразно организовать следующим образом:

- не спеша, внимательно прочитайте задание и определите наиболее верный и полный ответ;

- отвечая на теоретический вопрос, обдумайте и сформулируйте конкретный ответ только на поставленный вопрос;

- если вы отвечаете на задание, связанное с заполнением таблицы или схемы, не старайтесь детализировать информацию, вписывайте только те сведения или данные, которые указаны в вопросе;

- особое внимание обратите на задания, при выполнении которых требуется выразить ваше мнение с учетом анализа ситуации или поставленной проблемы. Внимательно и вдумчиво определите смысл вопроса и логику ответа (последовательность и точность изложения). Отвечая на вопрос, предлагайте свой вариант решения проблемы, при этом ответ должен быть кратким, но содержать необходимую информацию;

- после выполнения всех предложенных заданий еще раз удостоверьтесь в правильности выбранных вами ответов и решений.

Выполнение заданий модуля 2 целесообразно организовать следующим образом:

- не спеша, внимательно прочитайте тестовое задание;

- определите, какой из предложенных вариантов ответа (в случае их наличия) наиболее верный и полный;

- напишите ответ (на задания со свободным ответом) либо букву, цифру, соответствующую выбранному вами ответу (на задания с выбором ответа из предложенных);

- продолжайте таким образом работу до завершения выполнения заданий;

- после выполнения всех предложенных заданий еще раз удостоверьтесь в правильности ваших ответов;

- если потребуется корректировка выбранного вами варианта ответа, то неправильный вариант ответа зачеркните крестиком и рядом напишите новый.

Предупреждаем вас, что:

- при оценке заданий модуля 2, где необходимо определить один правильный ответ, 0 баллов выставляется за неверный ответ и в случае, если участником отмечены несколько ответов (в том числе правильный) или все ответы;







- при оценке заданий модуля 2, где необходимо определить все правильные ответы, 0 баллов выставляется, если участником отмечены неверные ответы, большее количество ответов, чем предусмотрено в задании (в том числе правильные ответы), или все ответы.

Задание теоретического тура считается выполненным, если вы вовремя сдаете его членам жюри.

Максимальная оценка – 148 баллов (107 + 41).

Модуль 1 (максимальный балл — 107).

Задание 1. Для опознавания лиц и объектов, имеющих право на защиту, предоставляемую международным гуманитарным правом, используются отличительные знаки и эмблемы. Укажите, что обозначают изображенные ниже знаки и эмблемы.

Максимальный балл – 18.

Задание 2. Рассмотрите предложенную ситуацию и найдите правильное решение.

Ситуация 1: Вам предстоит отправиться в недельный турпоход. При подготовке к нему необходимо подобрать одежду и обувь. Каких требований вы будете придерживаться? Заполните таблицу:

Требования к походной обуви	к	
Требования к походной одежде	к	

Ситуация 2: Группа туристов из 7 человек движется по маршруту. Неожиданно резко ухудшились погодные условия, начался сильный дождь, поднялся ветер, местность труднопроходимая. Руководителю группы удалось сообщить по мобильному телефону о приблизительном местонахождении группы. Определите, какое решение должен принять руководитель и каков алгоритм действий группы в этой ситуации.

Максимальный балл – 22.

Задание 3. Международное гуманитарное право – это совокупность норм, основанных на принципах гуманности и направленных на ограничение средств и методов ведения войны и на защиту жертв вооруженных конфликтов. Перечислите категории лиц, находящихся под защитой международного гуманитарного права.

Ответы впишите в бланк ответов.

Максимальный балл – 21.

Задание 4. Укажите стрелками соответствие между названиями воинских формирований (левый столбец) и уровнем командования (правый столбец).

Звено, группа, команда	Капитан
Полк	Майор, подполковник
Дивизия	Ефрейтор
Рота	Полковник
Бригада	Полковник, генерал-майор
Батальон	Младший сержант
Армия	Генерал-майор
Фронт, округ	Лейтенант
Отделение	Генерал-лейтенант
Взвод	Генерал-полковник

Максимальный балл – 30.

Задание 5. По описанию совершённого деяния определите вид преступной деятельности и впишите его в таблицу.

Деяние	Наименование преступления
Открытое, явное похищение чужого имущества	
Грубое нарушение общественного порядка, выражающее явное неуважение к обществу	
Проявление крайней нетерпимости и насилия, устрашение населения насильственными и иными противоправными действиями с целью воздействия на принятие решений органами власти	
Массовое выступление, сопровождающееся насилием, погромами, поджогами, уничтожением имущества, применением оружия, возможно с оказанием вооружённого сопротивления власти	

Максимальный балл – 16.

Модуль 2 (максимальный балл – 41).

Уважаемые участники, при выполнении тестовых заданий вам необходимо выбрать один или несколько правильных ответов. Ответы необходимо внести в бланк ответов.

Часть 1. Определите один правильный ответ

Оценивание: Все правильные ответы оцениваются в 1 балл.

0 баллов выставляется за неправильный ответ, а также если участником отмечено более одного ответа (в том числе правильный).

1. У какого огнетушителя имеется манометр

- а) углекислотный
- б) порошковый
- в) пенный
- г) хладоновый

2. Какова предельная дальность полета пули АКМ?

- а) 3 км
- б) 5 км
- в) 1 км
- г) 4 км
- д) 2 км

3. Какова масса (вес) АКМ со снаряженным магазином?

- а) 3,6 кг
- б) 2,5 кг
- в) 3,2 кг
- г) 4,5 кг
- д) 5,1 кг

4. Кому подчиняется на посту часовой?

- а) командиру подразделения
- б) старшине роты
- в) командиру части
- г) своему разводящему
- д) командиру роты

5. Дата завершения блокады Ленинграда в Великой Отечественной войне

- а) 27 января 1944 г.
- б) 15 февраля 1944 г.
- в) 19 декабря 1943 г.
- г) 29 декабря 1943 г.
- д) 5 марта 1944 г.

6. На рисунке изображена эмблема



- а) воздушно-десантные войска;
- б) военно-морской флот;
- в) сухопутные войска;
- г) ракетные войска стратегического назначения.

7. При воздействии стрессоров на организм человека развиваются три стадии адаптационного синдрома:

- а) стадия резистентности, стадия истощения, стадия мобилизации защитных сил;
- б) стадия ожидания, напряжения, всплеска;
- в) все ответы верны.

8. Комиссии по ЧС органов исполнительной власти субъектов РФ создаются:

- а) на объектовом уровне;
- б) на местном уровне;
- в) на территориальном уровне;
- г) на региональном уровне;
- д) на федеральном уровне.

9. Какие из нижеперечисленных высказываний о риске являются верными?
- а) является количественной мерой ущерба;
 - б) определяется в общем случае как вероятность наступления неблагоприятного события;
 - в) всегда измеряется в % (процентах) или долях единицы;
 - г) измеряется в общем случае в единицах ущерба.
10. При каком повреждении применяется герметичная повязка?
- а) ранение предплечья
 - б) ранение живота
 - в) ранение грудной клетки
 - г) открытый перелом конечности

Часть 2. Определите все правильные ответы

Оценивание: За каждый правильный вариант ответа на вопрос начисляется 1 балл, за неправильный – 0 баллов.

Если отмечено больше вариантов ответов (в том числе правильные), чем необходимо, начисляется 0 баллов за этот вопрос.

11. Состав сил ГО
- а) войска ГО
 - б) МЧС
 - в) нештатные и аварийно-спасательные формирования и спасательные службы ГО
 - г) КЧС объекта
 - д) авиация МЧС России
 - е) учреждения системы мониторинга и прогнозирования
 - ж) силы медицины катастроф
12. Эксперты ООН к основным жизненно важным интересам личности относят:
- а) социальную защищенность;
 - б) жизнь
 - в) доступность информации
 - г) духовное благополучие
 - д) благосостояние
 - е) здоровье

13. Какое решение может принять призывная комиссия после медицинского освидетельствования гражданина, подлежащего призыву на военную службу:

- а) о призыве на военную службу
- б) о призыве на военную службу в одну из стран СНГ
- в) об освобождении от воинской обязанности
- г) о направлении в зону вооруженного конфликта на территории страны
- д) о предоставлении отсрочки от призыва на военную службу
- е) о направлении на альтернативную службу

14. Органами повседневного управления РСЧС являются:

- а) отделы (секторы или специально назначенные лица) по делам ГО и ЧС;
- б) оперативно-дежурные службы органов управления по делам ГО и ЧС всех уровней;
- в) нештатные аварийно-спасательные формирования для проведения аварийно-спасательных и других неотложных работ при ЧС;
- г) пункты управления;
- д) дежурно-диспетчерская служба организаций;
- е) объектовые комиссии по ЧС.

15. Какие из боевых отравляющих веществ обладают нервно-паралитическим действием?

- а) зоман
- б) иприт
- в) хлорпикрин
- г) люизит
- д) ви-экс
- е) зарин

16. Кто во время вооруженного конфликта имеет право использовать эмблемы красного креста и красного полумесяца?

- а) военная служба;
- б) военные медицинские службы, национальные общества Красного Креста или Красного Полумесяца и другие добровольные общества по оказанию помощи с разрешения официальных властей;
- в) Международный комитет Красного Креста и Международная федерация общества Красного Креста и Красного Полумесяца, а также военный и гражданский духовный персонал;

- г) транспортные средства и объекты, здания, оборудования, предназначенные для оказания помощи раненым и ухода за ними;
- д) гражданские медицинские службы;
- е) все вышеперечисленные.

17. Что из перечисленного запрещено военнослужащим в соответствии с Федеральным законом «О статусе военнослужащих»?

- а) обсуждать в печати действия командиров;
- б) создавать на территории части отделения партии;
- в) избираться и быть избранным в органы государственной власти;
- г) участвовать в деятельности общественных организаций в свободное от службы время.

18. Согласно ПДД управлять квадроциклом можно:

- а) с 16 лет;
- б) имея права категории А, т.к. квадроцикл приравнен к мотоциклу;
- в) с 18 лет;
- г) имея удостоверение тракториста-машиниста, т.к. квадроцикл приравнен к самоходной машине;
- д) имея водительское удостоверение любой категории.

19. В состав танкового экипажа танка Т-80 входят:

- а) водитель;
- б) заряжающий;
- в) наводчик;
- г) стрелок-радист;
- д) механик-водитель.

20. Проблесковый маячок желтого или оранжевого цвета означает:

- а) перевозку крупногабаритных грузов, взрывчатых, легковоспламеняющихся, радиоактивных веществ;
- б) перевозку групп детей;
- в) выполнение работ по строительству, ремонту или содержанию дорог;
- г) не является специальным сигналом;
- д) автомобиль частного охранного агентства.