



**Задания муниципального этапа Всероссийской олимпиады школьников
по основам безопасности жизнедеятельности 2021 – 2022 учебный год
7 - 8 класс**

Уважаемый участник!

При выполнении заданий Вам предстоит выполнить определённую работу, которую лучше организовать следующим образом:

- внимательно прочитайте задание;
- если Вы отвечаете на теоретический вопрос или решаете ситуационную задачу, обдумайте и сформулируйте конкретный ответ (ответ должен быть кратким и его содержание следует, вписать в определенное поле пишите четко и разборчиво);
- при ответе на тесты определите верный ответ, обведите кружком букву (буквы), соответствующую (-ие) выбранному Вами ответу.

За каждый правильный ответ Вы можете получить определённое членами жюри количество баллов, не выше указанной максимальной оценки.

Сумма набранных баллов за все решённые вопросы в двух форматах итог Вашей работы. Максимальное количество баллов Задания считаются выполненными, если Вы вовремя сдали их членам жюри. Максимальное количество баллов – 125.

Задания считаются выполненными, если Вы вовремя сдали их членам жюри.

Желаем успеха!

**Задания муниципального этапа Всероссийской олимпиады школьников
по основам безопасности жизнедеятельности 2021 – 2022 учебный год
7 - 8 класс**






Продолжительность олимпиады – 90 мин.

Первая часть – письменные задания – 5 вопросов - 93 баллов

Вторая часть – тестовые задания – 20 вопросов - 32 балла

Максимально возможное количество баллов: 125 баллов

ЗАДАНИЕ 1. Укажите, какие ягоды съедобные, а какие ядовитые и назовите их.

название	ЯДОВИТЫЕ ЯГОДЫ	ягоды		Съедобные ягоды	название	
		А			А	
		Б			Б	
		В			В	
		Г			Г	
	Д		Д			

Оценка задания. Максимальная оценка за правильно выполненное задание –40 баллов

ЗАДАНИЕ 2. Для своевременного информирования населения о возникновении угрозы террористического акта и организации деятельности по противодействию его совершению на территории Российской Федерации могут устанавливаться уровни террористической опасности.

А. Впишите в таблицу в порядке возрастания уровни террористической

опасности.

Б. Укажите в таблице цветовой обозначение каждого уровня террористической опасности.

Уровни террористической опасности	Цветовое обозначение уровней террористической опасности

Оценка задания. Максимальная оценка за правильно выполненное задание – 10 баллов

ЗАДАНИЕ 3. Вывих – это такое повреждение, при котором происходит смещение соприкасающихся суставных поверхностей: одной по отношению к другой. Для вывиха характерны определённые признаки, которые можно разделить на достоверные и косвенные (вероятные) признаки.

Запишите номера перечисленных ниже признаков вывиха в соответствующие графы таблицы.

Признаки вывиха:

- 1) отёк
- 2) деформация конечности
- 3) боль
- 4) нарушение функции конечности
- 5) изменение длины конечности
- 6) патологическая подвижность
- 7) кровоизлияние

Достоверные признаки	Косвенные признаки

Оценка задания. Максимальная оценка за правильно выполненное задание – 17 баллов

ЗАДАНИЕ 4. В целях выполнения мероприятий пожарной защиты объекта, эвакуации людей и использования первичных средств пожаротушения очень важно уметь безошибочно определять знаки пожарной безопасности.

Впишите в таблицу смысловое значение знака пожарной безопасности

--	--

 <p>1</p>	
 <p>2</p>	
 <p>3</p>	
 <p>4</p>	
 <p>5</p>	

Оценка задания. Максимальная оценка за правильно выполненное задание – 10 баллов

ЗАДАНИЕ 5. Вас предупредили о надвигающейся буре. Опишите ваши действия.

Оценка задания. Максимальная оценка за правильно выполненное задание – 16 баллов

Тестовые задания теоретического тура муниципального этапа Всероссийской олимпиады школьников 2021-2022 учебный год

№	Тестовые задания	Макс. балл	Количество набранных баллов
Определите один правильный ответ			
1.	Какое действие следует предпринять в первые минуты после термического ожога? а) охладить поражённый участок кожи; б) смазать маслом поражённый участок кожи; в) наложить сухую повязку на поражённый участок кожи	1	
2.	Как размещается пострадавший на носилках при травме живота или внутреннем кровотечении а) лёжа на спине; б) лёжа на спине с полусогнутыми ногами; в) на боку с согнутыми ногами	1	
3.	Каков порядок включения шнура электрического прибора в сеть? а) одновременно в сеть и в прибор; б) сначала в прибор, затем в сеть; в) сначала в сеть, затем в прибор	1	
4.	Как огонь распространяется при верховых пожарах? а) быстро, пламя перекидывается по кустарникам; б) быстро, огонь распространяется по кронам деревьев; в) быстро, перпендикулярно направлению ветра	1	
5.	Смертельно ядовитым из перечисленных грибов является: а) мухомор красный; б) мухомор краснеющий; в) бледная поганка; г) подвешень.	1	
6.	Чем из перечисленного рекомендуется защитить органы дыхания, передвигаясь по задымленному коридору? а) куском плотного брезента; б) полиэтиленовой плёнкой или целлофановым пакетом; в) хлопчатобумажной тканью, смоченной водой	1	
7.	В случае отсутствия пешеходных дорожек и тротуаров пешеходу разрешается передвигаться по краю проезжей части. Как должен передвигаться пешеход по краю проезжей части? а) навстречу движению транспорта; б) параллельно движению транспорта; в) по ходу движения транспорта	1	
8.	На белом фильтре противогаза указано «Р» –это означает: а) противогаз защищает от радиации; б) противогаз защищает от аэрозолей, пыли, бактерий и вирусов; в) противогаз защищает от ртути;	1	

	г) противогаз защищает от фасгена, зомана, зарина.		
9.	Какие последствия характерны при землетрясении магнитудой 7 баллов по шкале Рихтера? а) обрушения зданий некачественной постройки, трещины в прочных зданиях; б) всеобщее и почти полное разрушение; в) повреждения отсутствуют; г) трещины в слабых стенах, падения печных труб.	1	
10.	Что такое эпифитотии? а) массовое распространение инфекционного заболевания среди животных; б) массовое распространение инфекционного заболевания среди людей; в) массовое распространение инфекционного заболевания среди растений; г) массовая гибель сельскохозяйственных животных.	1	
11.	Стресс – это состояние напряжения, возникшее у человека под влиянием сильнейших воздействий. Сколько стадий стресса различают у человека? а) 4; б) 3; в) 2	1	
12.	К гидродинамическим авариям относятся: а) прорыв плотины; б) сезонные паводки; в) аварии речных и морских судов; г) аварии на магистральных трубопроводах	1	
Определите все правильные ответы			
13.	Назовите, какие растения можно использовать, чтобы заварить вкусный чай: а) мята; б) листья малины; в) бузина травяная; г) листья сены.	2	
14.	Каковы Ваши действия, если чувствуете устойчивый запах газа, а причина этого неизвестна? а) покиньте данное место; б) вызовите аварийную газовую службу; в) вызовите спасательную службу; г) попытайтесь определить место утечки	2	
15.	Что запрещается пассажирам общественного транспорта во время движения транспортного средства? а) ходить по транспортному средству; б) самостоятельно открывать окна и люки; в) говорить с водителем; г) снимать при входе в салон рюкзак	2	
16.	Каковы действия по оказанию первой помощи при попадании ядовитых средств бытовой химии на кожу? а) промыть водой; б) наложить повязку с лекарственными средствами; в) наложить сухую повязку;	2	

	г) принять солевой раствор		
17.	Если отсутствует пешеходный переход, в каком месте пешеходы могут пересекать проезжую часть: а) в участках проезжей части, где мало автомобилей, под прямым углом к бордюру; б) пересекать проезжую часть нельзя, нужно дойти до ближайшего светофора или пешеходного перехода; в) в любом месте; г) на перекрестках по линии тротуаров или обочин д) между противоположными углами перекрестка (по диагонали) только при наличии разметки 1.14.1 или 1.14.2,	3	
18.	К кишечным инфекциям относят: а) чуму; б) дифтерию; в) дизентерию; г) полиомиелит; д) корь; е) холеру.	3	
19.	Какие из перечисленных поражающих факторов характерны для химических аварий? а) интенсивное излучение гамма-лучей, поражающее людей; б) поражение людей опасными веществами через кожные покровы; в) интенсивное выделение лучистых потоков энергии, поражающее людей; г) проникновение опасных веществ через органы дыхания в организм человека	3	
20.	Что необходимо делать для обеспечения личной безопасности, если Вы оказались в числе заложников в общественном месте? а) сообщить о захвате в полицию; б) продемонстрировать лояльность к террористам; в) оставаться на своем месте; г) не привлекать внимания террористов	3	
ИТОГО		32	