

Министерство образования и науки Челябинской области
ВСЕРОССИЙСКАЯ ОЛИМПИАДА ШКОЛЬНИКОВ ПО ОБЖ
(МУНИЦИПАЛЬНЫЙ ЭТАП)

**КРИТЕРИИ И МЕТОДИКА ОЦЕНИВАНИЯ
ВЫПОЛНЕННЫХ ОЛИМПИАДНЫХ ЗАДАНИЙ ТЕОРЕТИЧЕСКОГО ТУРА
10 – класс
муниципального этапа всероссийской олимпиады школьников по основам
безопасности жизнедеятельности**

г. Челябинск

2022– 2023 год

По теоретическому туру максимальная оценка результатов участника 10 класса определяется арифметической суммой всех баллов, полученных за выполнение заданий и тестов и не должна превышать 150 баллов.

МОДУЛЬ 1.

Задание 1. Причиной экстремистских проявлений в обществе являются различные социально-экономические и идеологические факторы:

Вариант ответа.

- экономические и социальные кризисы;
- социальные расслоения в обществе;
- ослабление государственной власти;
- высокая коррумпированность чиновников;
- криминализация общества;
- отсутствием общепризнанной государственной идеологической концепции;
- правовой нигилизм.

Оценка задания. Максимальная оценка за правильно выполненное задание – **14 баллов.**

Задание 2. Составьте фразу (определение понятия) из приведенных фрагментов, поясните, что она означает, и запишите её полностью

- а) ... может произойти гибель людей, ...
- б) ... будет нанесен ущерб экономике ...
- в) ... возникнуть угроза здоровью людей либо ...
- г) ... сельскохозяйственных животных и растений, ...
- д) ... объект народного хозяйства ...
- е) ... и окружающей природной среде ...
- ж) ... или иного назначения, при аварии на котором ...

Вариант ответа:

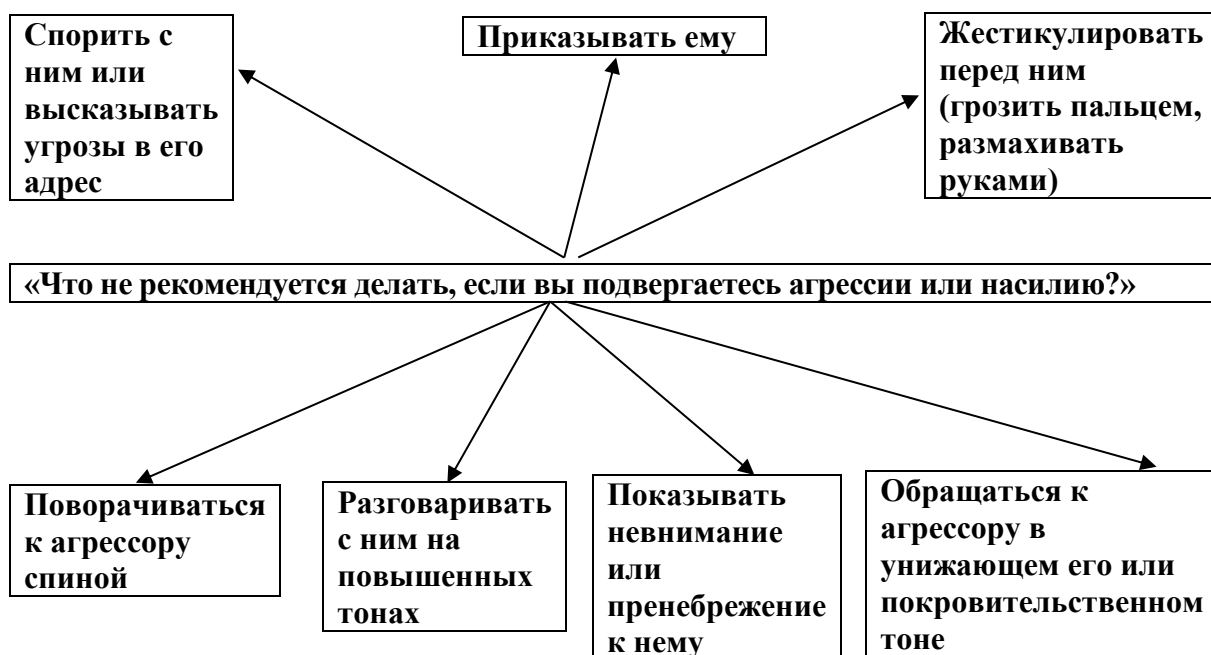
Это определение понятия «потенциально опасный объект».

Потенциально опасный объект – *объект народного хозяйства или иного назначения, при аварии на котором может произойти гибель людей, сельскохозяйственных животных и растений, возникнуть угроза здоровью людей либо будет нанесен ущерб экономике и окружающей природной среде.*

Оценка задания. Максимальная оценка за правильно выполненное задание – **7 баллов**, при этом:

- баллы не начисляются, если составленная фраза не соответствует данному определению;
- если участником правильно пояснено, что означает фраза, но сама фраза не соответствует данному определению, начисляется – 2 балла.

Задание 3. Дополните схему «Что не рекомендуется делать, если вы подвергаетесь агрессии или насилию?»



Оценка задания. Максимальная оценка за правильно выполненное задание – **14 баллов**, при этом:

- за правильный ответ по каждой, из 7 позиций, указанных в варианте ответа, начисляется по **2 балла**;
- при отсутствии правильных ответов, баллы не начисляются.

Задание 4. Определите соответствие названия узла группе узлов и заполните таблицу 1 и таблицу 2

Названия узлов (для заполнения таблицы 1):

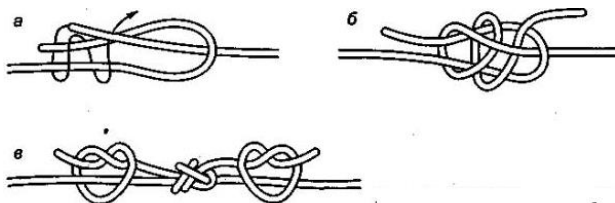
- грейпвайн
- встречная восьмерка
- простой скользящий
- брам-шкотовый
- австрийский проводник
- прямой
- беседочный
- проводник

Таблица 1

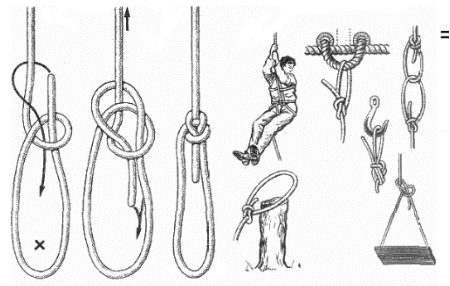
Группы узлов	Названия узлов
Узлы для связывания веревок	Грейпвайн Прямой Встречная восьмерка Брам-шкотовый
Узлы - петли	Беседочный Проводник

Изображения узлов (для заполнения таблицы 2)


1.



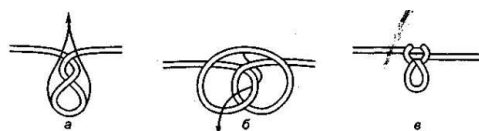
2.




3.



4.



5.



6.



7.



8.

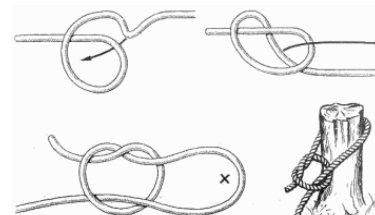


Таблица 2

Название узла	Изображение (номер)
Встречная восьмерка	5
Простой скользящий	8
Брам-шкотовый	1
Австрийский проводник	4
Прямой	6

Беседочный	2
Грейпвайн	3
Простой проводник	7

Оценка задания. Максимальная оценка за правильно выполненное задание – **32 баллов**, при этом:

- за правильный ответ на первый вопрос - 16 баллов (по 2 балла за каждую из восьми позиций). Если ответ не верен, баллы за нее не начисляются;

- за правильный ответ на второй вопрос - 16 баллов (по 2 балла за каждую из восьми позиций). Если по какой-либо позиции ответ не верен, баллы за нее не начисляются.


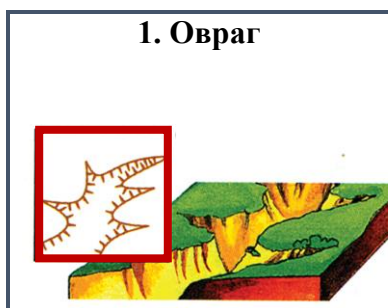
Задание 5. Перечислите международные отличительные знаки, используемые во время вооружённых конфликтов.

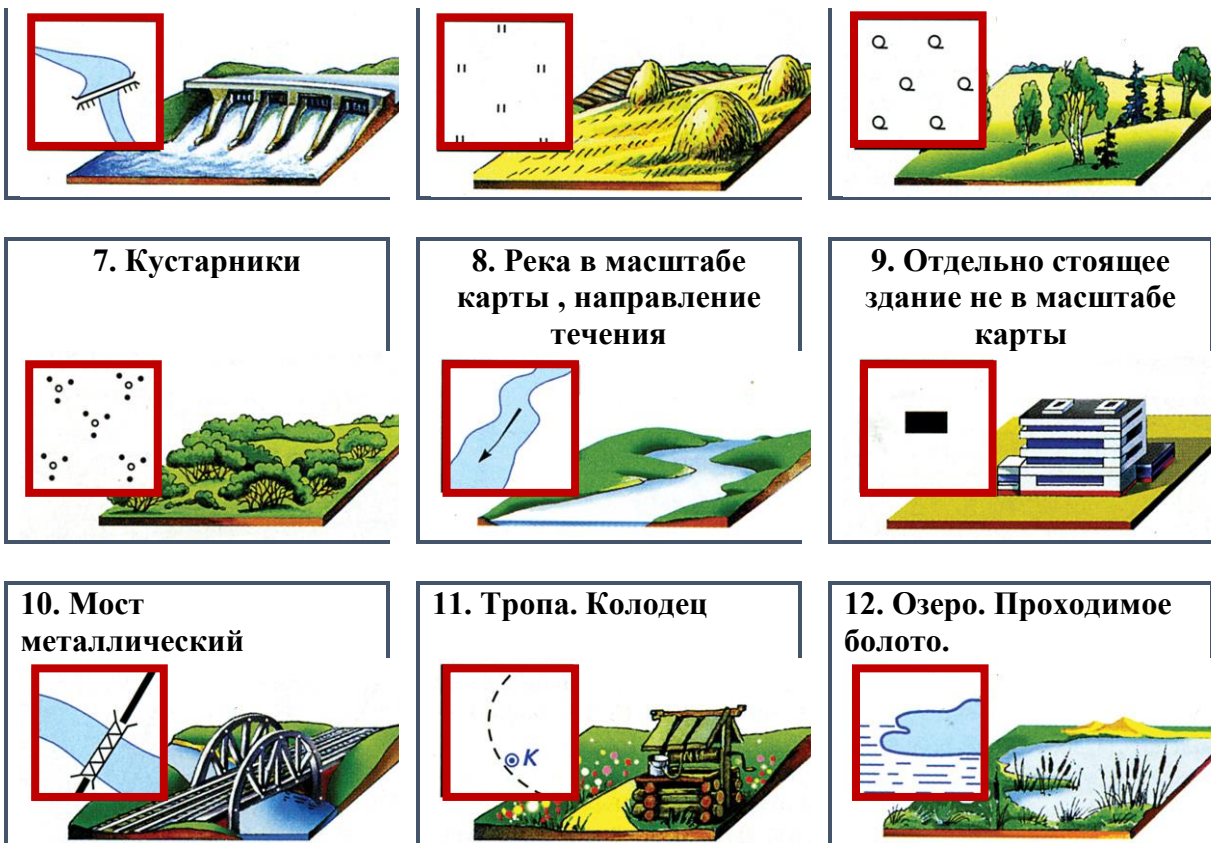
Вариант ответа.

Наименование знака	Изображение знака
Красный крест	Красный крест на белом поле
Красный полумесяц	Красный полумесяц на белом поле
Гражданская оборона	Синий равносторонний треугольник на оранжевом фоне
Общей защиты культурных ценностей	Бело-голубой щит
Особой защиты культурных ценностей	Три знака бело-голубой щит, расположенные треугольником, один знак внизу.
Защита установок и сооружений, содержащих опасные силы	Три ярко оранжевые круга, расположенные на одной оси на белом фоне.
Прекращения огня, сдача в плен, о вступлении в переговоры.	Белый флаг.
Нейтральная зона	Белый квадрат с красной полосой по диагонали

Оценка задания. Максимальная оценка за правильно выполненное начисляется задание – **16 балла**, по 2 балла за каждый правильный полный ответ (наименование и изображение знака).

Задание 6. Изобразите, с помощью условных топографических знаков, приведенные ниже участки местности, здания и сооружения.





Оценка задания. Максимальная оценка за правильно выполненное задание – *28 баллов*, при этом:

- за каждый правильный ответ по позициям 1-10 начисляется по *2 балла*;
- за каждый правильный ответ по позициям 11, 12 начисляется по *4 балла*;
- при отсутствии правильных ответов баллы не начисляются.

**Тестовые задания теоретического тура
муниципального этапа Олимпиады
10 класс**

№ п/п	Тестовые задания	Максимальный балл	Количество набранных баллов
<i>Отметьте один правильный ответ</i>			
1	Минимальная температура, длительное воздействие которой может привести к повреждению тканей организма (термический ожог) должна быть более: а) +63 ⁰ С; б) +42⁰С; в) +54 ⁰ С; г) +100 ⁰ С.	1 балл	
2	К основным задачам сердечно-легочной реанимации относятся: а) восстановление сознания, пораженного; б) восстановление дыхания и кровообращения; в) восстановление объема циркулирующей крови.	1 балл	

3	<p>По результатам воздействия на побережье (магнитуде интенсивности) цунами оценивают по условной:</p> <p>а) 6-бальной шкале; б) 8-бальной шкале; в) 10-бальной шкале; г) 12-бальной шкале.</p>	1 балл	
4	<p>Продолжительность выхода струи огнетушителя ОП-5</p> <p>а) 10-12 сек.; б) 12-15 сек; в) 18-20 сек.</p>	1 балл	
5	<p>Через сорок девять часов после ядерного взрыва мощность дозы излучения уменьшается:</p> <p>а) в 10 раз; б) в 100 раз; в) в 1000 раз.</p>	1 балл	
6	<p>Ксенобиотики относятся:</p> <p>а) к химическим загрязнителям; б) к биологическим загрязнителям; в) к информационным загрязнителям.</p>	1 балл	
7	<p>Ингредиентное загрязнение биосферы – это:</p> <p>а) изменение ландшафтов и экологических систем в результате преобразования природы человеком; б) поступление в биосферу веществ, количественно и качественно чуждых ей; в) воздействие на состав, структуру популяций живых организмов; г) шумовое, тепловое, световое, радиационное, электромагнитное загрязнение.</p>	1 балл	
8	<p>Принцип войскового товарищества «Сам погибай, а товарища выручай» сформулировал русский полководец:</p> <p>а) Михаил Кутузов; б) Александр Невский; в) Дмитрий Донской; г) Александр Суворов.</p>	1 балл	
9	<p>Наводнения, возникающие один раз в 20-25 лет называют:</p> <p>а) катастрофическими; б) малыми; в) выдающимися; г) высокими.</p>	1 балл	
10	<p>Уничтожение во внешней среде возбудителей болезней называется:</p> <p>а) деградация; б) дезактивация; в) дезинфекция;</p>	1 балл	

	г) дератизация.		
<i>Отметьте все правильные ответы</i>			
11	<p>Основными факторами риска для здоровья человека являются:</p> <p>а) избыточная масса тела; б) достаточная двигательная активность; в) интеллектуальный труд; г) гиподинамия; д) нерациональное питание.</p>	3 балла	
12	<p>О том, что консервы испорчены, могут говорить следующие признаки:</p> <p>а) вздутая крышка; б) бульканье; в) просрочен срок годности; г) ржавчина на банке; д) не герметичность упаковки.</p>	3 балла	
13	<p>Среди представленных ниже факторов выделите те, которые характерны для пожара в закрытом помещении:</p> <p>а) повышенная температура окружающей среды; б) повышенная концентрация угарного газа; в) образование ударной волны; г) повышенная концентрация кислорода; д) задымленность.</p>	3 баллов	
14	<p>Какие нормативные правовые акты регламентируют воинскую обязанность и военную службу граждан Российской Федерации?</p> <p>а) Федеральный закон "О воинской обязанности и военной службе"; б) Конституция РФ; в) сборник приказов по военному ведомству г) декрет об армейских революционных комитетах</p>	2 балла	
15	<p>Какие из перечисленных задач, не являются задачами РСЧС?</p> <p>а) предоставление населению убежищ и средств индивидуальной защиты; б) разработка и реализация правовых и экономических норм по обеспечению защиты населения и территорий от чрезвычайных ситуаций; в) обеззараживание населения, техники, зданий, территорий и принятие других необходимых мер; г) организация своевременного оповещения и информирования населения о чрезвычайных ситуациях в местах массового пребывания людей;</p>	2 балла	

	<p>д) подготовка населения к действиям в чрезвычайных ситуациях;</p> <p>е) ликвидация чрезвычайных ситуаций.</p>		
16	<p>Определите правильные действия при оказании первой помощи в случае ранения живота и обнажения внутренних органов:</p> <p>а) вправить внутренние органы на место и наложить на рану повязку;</p> <p>б) накрыть внутренние органы чистой влажной тканью или стерильными салфетками;</p> <p>в) дать пострадавшему обезболивающее средство;</p> <p>г) доставить пострадавшего как можно быстрее в медицинское учреждение;</p> <p>д) транспортирование пострадавшего осуществлять на носилках в положении лёжа.</p>	3 балла	
17	<p>В соответствии с гигиенической классификацией труда, условия труда подразделяются на классы:</p> <p>а) опасные, чрезвычайно опасные;</p> <p>б) оптимальные;</p> <p>в) физические, умственные;</p> <p>г) допустимые;</p> <p>д) опасные (экстремальные);</p> <p>е) вредные;</p> <p>ж) классические.</p>	4 балла	
18	<p>Признаками острого отравления никотином являются:</p> <p>а) горечь во рту;</p> <p>б) слабость и недомогание;</p> <p>в) расширение зрачков;</p> <p>г) тошнота;</p> <p>д) повышенное потоотделение.</p>	3 балла	
19	<p>Признаками поражения отравляющими веществами нервнопаралитического действия являются:</p> <p>а) слюнотечение;</p> <p>б) металлический привкус во рту;</p> <p>в) сужение зрачков;</p> <p>г) паралич;</p> <p>д) кашель.</p>	3 балла	
20	<p>К образцам оружия Великой Отечественной войны 1941-1945 гг. относятся:</p> <p>а) штурмовик ИЛ-10;</p> <p>б) танк Т-60;</p> <p>в) истребитель МиГ-15;</p> <p>г) пистолет-пулемет Дегтярева;</p> <p>д) танк Т-55;</p>	3 балла	

	е) автоматический пистолет Стечкина.		
ИТОГО		39 б	

Матрица ответов на тестовые задания

Номер теста	Правильный ответ	Номер теста	Правильный ответ	Номер теста	Правильный ответ
1	б	8	г	15	а, в
2	б	9	г	16	б, г, д
3	а	10	в	17	б, г, д, е
4	б	11	а, г, д	18	а, б, г
5	б	12	а, в, д	19	а, в, г
6	а	13	а, б, д	20	а, б, г
7	б	14	а, б		