

Ф.И.О участника: _____

Бланк ответа муниципального этапа Всероссийской олимпиады школьников по ОБЖ
2022-2023 учебный год 7-8 класс

Код участника: _____



ЗАДАНИЕ 1. Составьте фразу из приведенных фрагментов, поясните, что она означает, и запишите её полностью.

- а) ...значительные материальные потери...;
- б) ...или окружающей природной среде...;
- в) ...сложившаяся в результате аварии, опасного природного явления...;
- г) ...и нарушение условий жизнедеятельности людей...;
- д) ...которые могут повлечь или повлекли за собой...;
- е) ...понимается обстановка на определенной территории...;
- ж) ...человеческие жертвы, ущерб здоровью людей...;
- з) ...катастрофы, стихийного или иного бедствия...

Решение

Это определение чрезвычайной ситуации.

Под чрезвычайной ситуацией понимается обстановка на определенной территории, сложившаяся в результате аварии, опасного природного явления, катастрофы, стихийного или иного бедствия, которые могут повлечь или повлекли за собой человеческие жертвы, ущерб здоровью людей или окружающей природной среде, значительные материальные потери и нарушение условий жизнедеятельности людей.

Оценка задания. Оценка за правильно выполненное задание – 3 балла, при этом:

- баллы не начисляются, если составленная фраза не соответствует данному определению;
- если участником правильно пояснено, что означает фраза, но сама фраза не соответствует данному определению, начисляется – 1 балл;
- если фраза соответствует данному определению, но не пояснено, что она означает, начисляется 1 балл.

Ф.И.О участника: _____

Бланк ответа муниципального этапа Всероссийской олимпиады школьников по ОБЖ
2022-2023 учебный год 7-8 класс

Код участника: _____

ЗАДАНИЕ 2. Укажите знаком «+» в крайнем левом и крайнем правом столбце, какие из перечисленных состояний и повреждений характерны при воздействии электрического тока на человека, а какие при отравлении человека угарным газом.

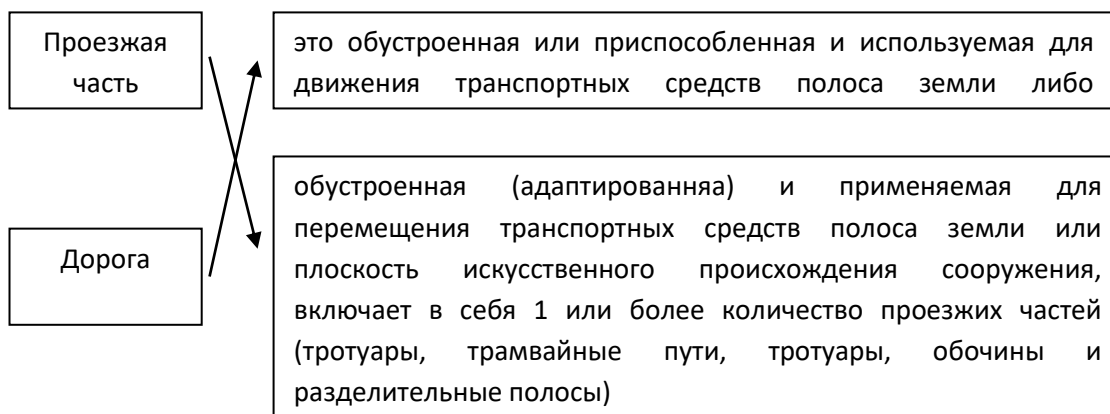
| Ответ | | Состояния и повреждения | Ответ | |
|-------|---|----------------------------|--|---|
| | э л е к т р и ч е с т в о | Тошнота | у г а р н ы й г а з | + |
| + | | Внезапная остановка сердца | | |
| + | | Судороги | | + |
| + | | Обугливание тканей | | |
| + | | Отрыв конечности | | |
| | | Головная боль | | + |
| | | Галлюцинации | | + |

Оценка задания. Максимальная оценка за правильно выполненное задание - 16 баллов (по 2 балла, за каждый правильный ответ). Баллы не начисляются, если отмечены все ячейки. За каждый неправильно отмеченный пример отнимается 2 балла.

ЗАДАНИЕ 3. Ежедневно и постоянно по улицам городов и населенных пунктов передвигаются тысячи людей, которые спешат на работу, в школу, во многие другие места или возвращаются домой. Для передвижения в заданном направлении люди пользуются общественным транспортом, личными транспортными средствами (автомобилями, мотоциклами, велосипедами) или идут пешком. Выполните задание :

А. Укажите стрелками соответствие представленных терминов с их значением:

Вариант ответа:



Ф.И.О участника: _____

Бланк ответа муниципального этапа Всероссийской олимпиады школьников по ОБЖ
2022-2023 учебный год 7-8 класс

Код участника: _____

Б. Укажите основные группы дорожных знаков.


Вариант ответа:

- Предупреждающие.
- Приоритета.
- Запрещающие.
- Предписывающие.
- Особых предписаний.
- Информационные.
- Сервиса.
- Дополнительной информации (таблички).

Оценка задания. Максимальная оценка за правильно выполненное задание – **10 баллов** (по 1 баллу за каждый правильный ответ). При отсутствии правильных и не указанных ответов, баллы не начисляются.

ЗАДАНИЕ 4. Экологические знаки, предназначены для информирования приобретателей об экологической чистоте товаров, а также о безопасных для окружающей среды способах их использования и утилизации. Из ниже приведённого списка выберите и внесите в таблицу номера знаков, в соответствии с их графическим изображением.





1. Знак, информирующий о пригодности пластикового изделия для контакта с пищевыми продуктами
2. Знак «Зелёная точка»
3. Знак «Петля Мебиуса»
4. Знак перерабатываемого пластика
5. Знак, указывающий на необходимость отдельного сбора и выброса использованных источников питания (ламп, батареек и аккумуляторов), содержащих некоторые опасные вещества.

| Графическое изображение знака | Значение знака (номер) |
|---|------------------------|
|  | 5 |

Ф.И.О участника: _____

Бланк ответа муниципального этапа Всероссийской олимпиады школьников по ОБЖ
2022-2023 учебный год 7-8 класс

Код участника: _____

| | | |
|---|--|---|
| А) | | |
|  | | 2 |
| Б) | | |
|  | | 4 |
| В) | | |
|  | | 3 |
| Г) | | |
|  | | 1 |
| Д) | | |

Оценка задания. Максимальная оценка за правильно выполненное задание – 15 баллов.

- за каждый правильный ответ начисляется по 3 балла;
- при отсутствии правильных ответов баллы не начисляются.

ЗАДАНИЕ 5. На рисунке изображен внутренний пожарный кран. Напишите, для чего он предназначен (что им можно и что нельзя тушить), и перечислите его составляющие обозначенные цифрами.

Ф.И.О участника: _____

Бланк ответа муниципального этапа Всероссийской олимпиады школьников по ОБЖ
2022-2023 учебный год 7-8 класс

Код участника: _____




Вариант ответа:

Внутренний пожарный кран предназначен для тушения пожаров и загораний веществ и материалов, кроме электроустановок под напряжением.

1. место для хранения ключа;
2. пульт дистанционного включения насоса-повысителя;
3. пожарный клапан;
4. пожарный рукав;
5. ручной пожарный ствол.

Оценка задания. Максимальная оценка за правильно выполненное задание – **12 баллов**, при этом:

- за правильно написанное предназначение начисляется **2 балла**;
- за правильное перечисление составляющих согласно рисунка начисляется по **2 балла** за каждую из пяти позиций;
- при отсутствии правильных и не указанных ответов, баллы не начисляются.

| № | Текстовые задания | Макс. балл | Количество набранных баллов |
|---|--|------------|-----------------------------|
| Определите один правильный ответ | | | |
| 1. | В названии огнетушителя ОУ-3, цифра «3» обозначает: а) вес огнетушителя в килограммах б) объем огнетушителя в литрах в) массу огнетушащего вещества в килограммах г) объем огнетушащего вещества в литрах | 1 | |
| 2. | Изображенный топографический знак обозначает _____ дорога:  | 1 | |

Ф.И.О участника: _____

Бланк ответа муниципального этапа Всероссийской олимпиады школьников по ОБЖ
2022-2023 учебный год 7-8 класс

Код участника: _____

| | | | |
|----|---|---|--|
| | а) грунтовая б) лесная в) зимняя г) железная | | |
| 3. | Первые толчки землетрясения застали вас дома в квартире на первом этаже. Как вы поступите? а) как можно скорее выбежите на улицу б) выпрыгните из окна на улицу в) спрячетесь под кровать, закрыв лицо руками г) встать в дверном проеме | 1 | |
| 4. | Укажи правила сохранения здоровья при работе с персональным компьютером: а) вблизи персонального компьютера необходимо наличие живых цветов б) компьютерный стол должен иметь глянцевую поверхность в) при работе с компьютером следует соблюдать регламентированный режим труда и отдыха г) следует использовать только безопасное оборудования | 1 | |
| 5. | Какая толщина льда считается безопасной для группы людей? а) 7 см б) 12 см в) 17 см г) 21 см | 1 | |
| 6. | При аварийной посадке самолета необходимо: а) выполнять указания командира корабля и экипажа б) покинуть самолет до его полной остановки и отойти от самолета на расстояние не менее 100 метров в) перечитать инструкцию об использовании аварийно-спасательного оборудования, | 1 | |

Ф.И.О участника: _____

Бланк ответа муниципального этапа Всероссийской олимпиады школьников по ОБЖ
2022-2023 учебный год 7-8 класс

Код участника: _____

| | | | |
|-----|--|---|--|
| | расположении и обозначении аварийных выходов | | |
| 7. | Вам необходимо перейти реку по тонкому льду. Река делает поворот вправо на 80 градусов. В каком месте, по вашему мнению, лед менее надежен? а) В середине реки б) У правого берега в) У левого берега | 1 | |
| 8. | Какие основные причины вызывают возникновение цунами? а) подводное землетрясение, подводный оползень, вулканическое, подводное извержение б) ураган, буря, смерч, изменение температурного режима воды в) штормовое предупреждение, большие волны, грозовые тучи на горизонте, уход кораблей в глубь моря г) быстрый отход воды, беспокойство животных и их уход от берега, звенящая тишина | 1 | |
| 9. | К коллективным средствам защиты относят: а) противогазы б) противорадиационные укрытия в) средства защиты кожи г) респираторы | 1 | |
| 10. | Верны ли утверждения? Масштабы последствий взрыва зависят от А. мощности взрыва. Б. среды в которой происходит взрыв. а) верно только А б) верно только Б в) оба суждения не верны г) верны оба суждения | 1 | |

Ф.И.О участника: _____

Бланк ответа муниципального этапа Всероссийской олимпиады школьников по ОБЖ
2022-2023 учебный год 7-8 класс

Код участника: _____

| Определите все правильные ответы | | | |
|----------------------------------|---|---|--|
| 11. | Что из перечисленного является признаком мошенничества в интернете? а)просьба ввода персональной информации б)просьба отправки СМС в)просьба дать оценку чему-либо г)просьба перейти по ссылке | 2 | |
| 12. | Где разрешается размещать ручную кладь пассажиру во время перелёта? а) под своими ногами б) под сиденьем впереди стоящего кресла в) в проходе справа от сиденья г) на полке, расположенной над местом пассажира | 2 | |
| 13. | Из перечисленных явлений природы атмосферными вихрями являются: а) смерч б) бриз в) буря г) торнадо | 2 | |
| 14. | Из перечисленных веществ огнеопасными являются: а) хлорэтил; б) скипидар; в) клей ПВА; д) воск. | 2 | |
| 15. | Заболевания, передающиеся воздушно-капельным путем: а) корь; б) коклюш; в) дизентерия; г) вирусный гепатит А; д) педикулез. | 2 | |
| 16. | Укажи возможные причины чрезвычайной ситуации природного характера: а) криминогенная обстановка в населенном пункте; б) бури, ураганы, смерчи, торнадо; в) аварийная ситуация на дороге; г) низкие уровни грунтовых вод; д) взрывные работы вблизи газо- или нефтепровода; е) лесные пожары. | 3 | |
| 17. | Какие основные требования предъявляются к техническому состоянию велосипеда? а) Велосипед всегда должен иметь исправные тормоза и звуковой сигнал (звонок) б) При движении на дорогах в тёмное время суток велосипед должен быть оборудован впереди фонариком белого цвета и световозвращателями (сзади и сбоку) | 2 | |

Ф.И.О участника: _____

**Бланк ответа муниципального этапа Всероссийской олимпиады школьников по ОБЖ
2022-2023 учебный год 7-8 класс**

Код участника: _____

| | | | |
|-----|---|----|--|
| | в) При движении на дорогах в тёмное время суток велосипед должен быть оборудован с боковых сторон световозвращателями оранжевого или красного цвета г) Все варианты верны | | |
| 18. | По каким признакам возможно предположить, что предмет может являться взрывным устройством? а) по наличию целлофановой обёртки б) по наличию блестящих застёжек в) по исходящему запаху горького миндаля г) по исходящему запаху имбиря д) по наличию небольших антенн | 2 | |
| 19. | Пострадавший переносится на щите с валиком под коленями в случаях: а) травмы черепа; б) подозрения на перелом бедренной кости с повреждением тазобедренного сустава; в) подозрения на повреждение позвоночника и спинного мозга; г) перелома костей таза | 2 | |
| 20. | К чрезвычайным ситуациям геологического характера относят: а) землетрясения; б) эрозию почв; в) извержения вулканов; г) оползни; д) обвалы. | 3 | |
| | Итого: | 32 | |

Ответы:

| | | | | | | | | | | | | | | | | | | | |
|---|---|---|---|---|---|---|---|---|----|-----|-----|-----|-----|-----|-------|-----|-----|-----|-------|
| 1 | 2 | 3 | 4 | 5 | 6 | 7 | 8 | 9 | 10 | 11 | 12 | 13 | 14 | 15 | 16 | 17 | 18 | 19 | 20 |
| в | б | а | в | б | а | б | г | б | г | а,г | б,г | а,г | а,б | а,б | б,г,е | а,б | в,д | в,г | б,г,д |