

Министерство образования и науки Челябинской области
ВСЕРОССИЙСКАЯ ОЛИМПИАДА ШКОЛЬНИКОВ ПО ОБЖ
(МУНИЦИПАЛЬНЫЙ ЭТАП)

ТЕОРЕТИЧЕСКИЙ ТУР

10 класс

Код/шифр участника			

Уважаемый участник олимпиады!

Вам предстоит выполнить теоретические (модуль 1) и тестовые задания (модуль 2).

Время выполнения заданий теоретического тура муниципального этапа (90 минут).

Выполнение теоретических заданий модуля 1 целесообразно организовать следующим образом:

- не спеша, внимательно прочитайте задание и определите, наиболее верный и полный ответ;
- отвечая на теоретический вопрос, обдумайте и сформулируйте конкретный ответ только на поставленный вопрос;
- если Вы отвечаете на задание, связанное с заполнением таблицы или схемы, не старайтесь детализировать информацию, вписывайте только те сведения или данные, которые указаны в вопросе;
- особое внимание обратите на задания, в выполнении которых требуется выразить Ваше мнение с учетом анализа ситуации или поставленной проблемы. Внимательно и вдумчиво определите смысл вопроса и логику ответа (последовательность и точность изложения). Отвечая на вопрос, предлагайте свой вариант решения проблемы, при этом ответ должен быть кратким, но содержать необходимую информацию;
- после выполнения всех предложенных заданий еще раз удостоверьтесь в правильности выбранных Вами ответов и решений.

Выполнение заданий модуля 2 целесообразно организовать следующим образом:

- не спеша, внимательно прочитайте тестовое задание;
- определите, какой из предложенных вариантов ответа (в случае их наличия) наиболее верный и полный;
- напишите ответ (на задания со свободным ответом), либо букву, цифру, соответствующую выбранному Вами ответу (на задания с выбором ответа из предложенных);
- продолжайте, таким образом, работу до завершения выполнения заданий;
- после выполнения всех предложенных заданий еще раз удостоверьтесь в правильности ваших ответов;
- если потребуется корректировка выбранного Вами варианта ответа, то неправильный вариант ответа зачеркните крестиком и рядом напишите новый.

Предупреждаем Вас, что:

- при оценке заданий модуля 2, где необходимо определить один правильный ответ, 0 баллов выставляется за неверный ответ и в случае, если участником отмечены несколько ответов (в том числе правильный), или все ответы;
- при оценке заданий модуля 2, где необходимо определить все правильные ответы, 0 баллов выставляется, если участником отмечены неверные ответы, большее количество ответов, чем предусмотрено в задании (в том числе правильные ответы) или все ответы.

Задание теоретического тура считается выполненным, если Вы вовремя сдаете его членам жюри.

Максимальная оценка – 150 баллов.

Желаем вам успеха!

МОДУЛЬ 1.

Задание 1. Причиной экстремистских проявлений в обществе являются различные социально-экономические и идеологические факторы:

Подписи членов предметного жюри:

Оценочные баллы: максимальный:

14 б.

фактический:

Задание 2. Составьте фразу (определение понятия) из приведенных фрагментов, поясните, что она означает, и запишите её полностью

- а) ... может произойти гибель людей, ...
- б) ... будет нанесен ущерб экономике ...
- в) ... возникнуть угроза здоровью людей либо ...
- г) ... сельскохозяйственных животных и растений, ...
- д) ... объект народного хозяйства ...
- е) ... и окружающей природной среде ...
- ж) ... или иного назначения, при аварии на котором ...

Вариант ответа:

Это определение понятия _____

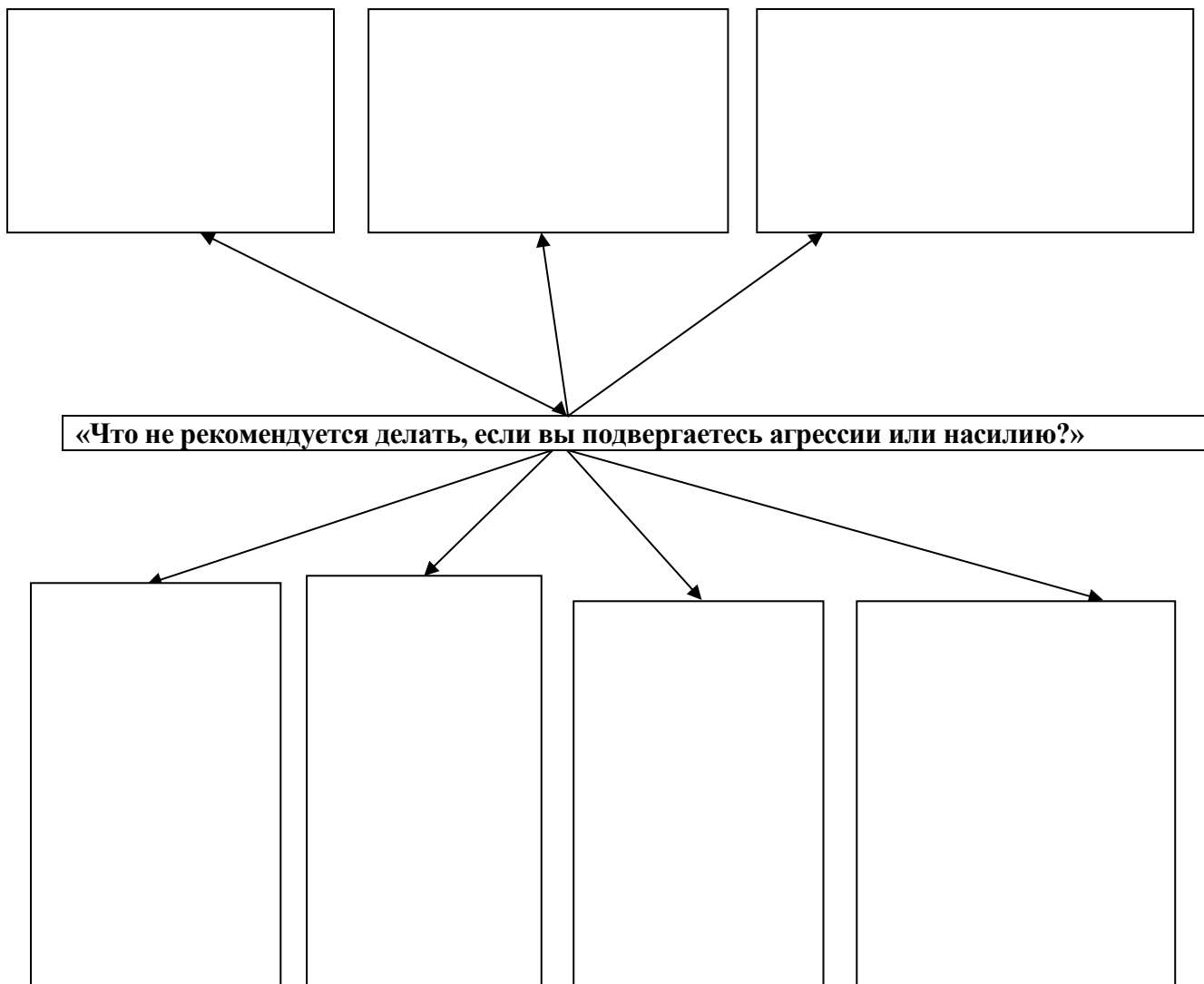
Подписи членов предметного жюри:

Оценочные баллы: максимальный:

7 б.

фактический:

Задание 3. Дополните схему «Что не рекомендуется делать, если вы подвергаетесь агрессии или насилию?»



Подписи членов предметного жюри:

Оценочные баллы: максимальный:

14 б.

фактический:

Задание 4. Определите соответствие названия узла группе узлов и заполните таблицу 1 и таблицу 2.

Названия узлов (для заполнения таблицы 1):

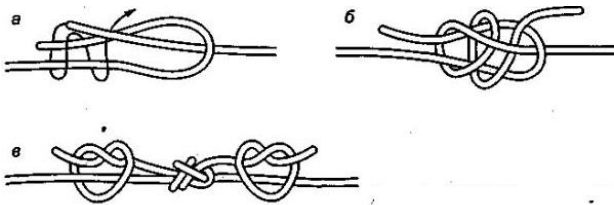
- грейпвайн
- встречная восьмерка
- простой скользящий
- брам-шкотовый
- австрийский проводник
- прямой
- беседочный
- проводник.

Таблица 1

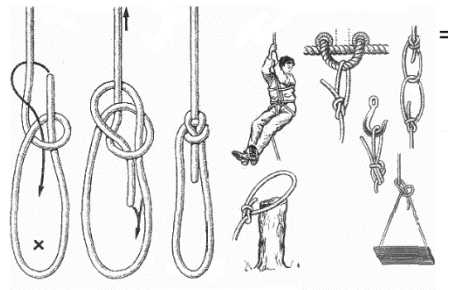
Группы узлов	Названия узлов
Узлы для связывания веревок	
Узлы - петли	

Изображения узлов (для заполнения таблицы 2)


1.



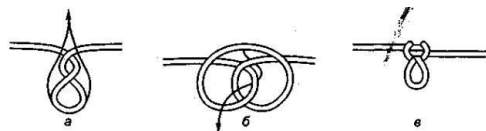
2.




3.



4.




5.



6.



7.



8.

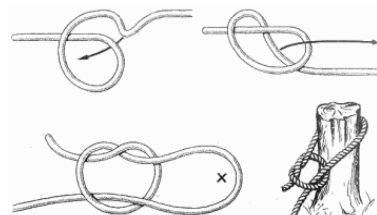


Таблица 2

Название узла	Изображение (номер)
Встречная восьмерка	
Простой скользящий	
Брам-шкотовый	
Австрийский проводник	
Прямой	
Беседочный	
Грейпвайн	
Простой проводник	

Подписи членов предметного жюри:

Оценочные баллы: максимальный:

32 б.

фактический:

Задание 5. Перечислите международные отличительные знаки, используемые во время вооружённых конфликтов.

Вариант ответа.

Наименование знака	Изображение знака

Подписи членов предметного жюри:

Оценочные баллы: максимальный:

16 б.

фактический:

Задание 6.

Изобразите, с помощью условных топографических знаков, приведенные ниже участки местности, здания и сооружения.

1. Овраг

2. Здание школы в масштабе карты

3. Родник

4. Плотина проезжая

5. Луг

6. Редколесье

7. Кустарники

8. Река в масштабе карты, направление течения

9. Отдельно стоящее здание не в масштабе карты

10. Мост металлический

11. Тропа. Колодец

12. Озеро. Проходимое болото.

Подписи членов предметного жюри:

Оценочные баллы: максимальный

28 б.

фактический

**Тестовые задания теоретического тура
муниципального этапа Олимпиады
10 класс**

№ п/п	Тестовые задания	Максимальный балл	Количество набранных баллов
<i>Отметьте один правильный ответ</i>			
1	Минимальная температура, длительное воздействие которой может привести к повреждению тканей организма (термический ожог) должна быть более: а) +63 ⁰ С; б) +42 ⁰ С; в) +54 ⁰ С; г) +100 ⁰ С.	1 балл	
2	К основным задачам сердечно-легочной реанимации относятся: а) восстановление сознания, пораженного; б) восстановление дыхания и кровообращения; в) восстановление объема циркулирующей крови.	1 балл	
3	По результатам воздействия на побережье (магнитуде интенсивности) цунами оценивают по условной: а) 6-бальной шкале; б) 8-бальной шкале; в) 10-бальной шкале; г) 12-бальной шкале.	1 балл	
4	Продолжительность выхода струи огнетушителя ОП-5 а) 10-12 сек.; б) 12-15 сек; в) 18-20 сек.	1 балл	
5	Через сорок девять часов после ядерного взрыва мощность дозы излучения уменьшается: а) в 10 раз; б) в 100 раз; в) в 1000 раз.	1 балл	
6	Ксенобиотики относятся: а) к химическим загрязнителям; б) к биологическим загрязнителям; в) к информационным загрязнителям.	1 балл	
7	Ингредиентное загрязнение биосферы – это: а) изменение ландшафтов и экологических систем в результате преобразования природы человеком; б) поступление в биосферу веществ, количественно и качественно чуждых ей;	1 балл	

	<p>в) воздействие на состав, структуру популяций живых организмов;</p> <p>г) шумовое, тепловое, световое, радиационное, электромагнитное загрязнение.</p>		
8	<p>Принцип воинского товарищества «Сам погибай, а товарища выручай» сформулировал русский полководец:</p> <p>а) Михаил Кутузов;</p> <p>б) Александр Невский;</p> <p>в) Дмитрий Донской;</p> <p>г) Александр Суворов.</p>	1 балл	
9	<p>Наводнения, возникающие один раз в 20-25 лет называют:</p> <p>а) катастрофическими;</p> <p>б) малыми;</p> <p>в) выдающимися;</p> <p>г) высокими.</p>	1 балл	
10	<p>Уничтожение во внешней среде возбудителей болезней называется:</p> <p>а) деградация;</p> <p>б) дезактивация;</p> <p>в) дезинфекция;</p> <p>г) дератизация.</p>	1 балл	
<i>Отметьте все правильные ответы</i>			
11	<p>Основными факторами риска для здоровья человека являются:</p> <p>а) избыточная масса тела;</p> <p>б) достаточная двигательная активность;</p> <p>в) интеллектуальный труд;</p> <p>г) гиподинамия;</p> <p>д) нерациональное питание.</p>	3 балла	
12	<p>О том, что консервы испорчены, могут говорить следующие признаки:</p> <p>а) вздутая крышка;</p> <p>б) бульканье;</p> <p>в) просрочен срок годности;</p> <p>г) ржавчина на банке;</p> <p>д) не герметичность упаковки.</p>	3 балла	
13	<p>Среди представленных ниже факторов выделите те, которые характерны для пожара в закрытом помещении:</p> <p>а) повышенная температура окружающей среды;</p> <p>б) повышенная концентрация угарного газа;</p> <p>в) образование ударной волны;</p> <p>г) повышенная концентрация кислорода;</p> <p>д) задымленность.</p>	3 баллов	
14	<p>Какие нормативные правовые акты регламентируют воинскую обязанность и военную службу граждан Российской Федерации?</p>	2 балла	

	<p>а) Федеральный закон "О воинской обязанности и военной службе";</p> <p>б) Конституция РФ;</p> <p>в) сборник приказов по военному ведомству</p> <p>г) декрет об армейских революционных комитетах</p>		
15	<p>Какие из перечисленных задач, не являются задачами РСЧС?</p> <p>а) предоставление населению убежищ и средств индивидуальной защиты;</p> <p>б) разработка и реализация правовых и экономических норм по обеспечению защиты населения и территорий от чрезвычайных ситуаций;</p> <p>в) обеззараживание населения, техники, зданий, территорий и принятие других необходимых мер;</p> <p>г) организация своевременного оповещения и информирования населения о чрезвычайных ситуациях в местах массового пребывания людей;</p> <p>д) подготовка населения к действиям в чрезвычайных ситуациях;</p> <p>е) ликвидация чрезвычайных ситуаций.</p>	2 балла	
16	<p>Определите правильные действия при оказании первой помощи в случае ранения живота и обнажения внутренних органов:</p> <p>а) вправить внутренние органы на место и наложить на рану повязку;</p> <p>б) накрыть внутренние органы чистой влажной тканью или стерильными салфетками;</p> <p>в) дать пострадавшему обезболивающее средство;</p> <p>г) доставить пострадавшего как можно быстрее в медицинское учреждение;</p> <p>д) транспортирование пострадавшего осуществлять на носилках в положении лёжа.</p>	3 балла	
17	<p>В соответствии с гигиенической классификацией труда, условия труда подразделяются на классы:</p> <p>а) опасные, чрезвычайно опасные;</p> <p>б) оптимальные;</p> <p>в) физические, умственные;</p> <p>г) допустимые;</p> <p>д) опасные (экстремальные);</p> <p>е) вредные;</p> <p>ж) классические.</p>	4 балла	
18	<p>Признаками острого отравления никотином являются:</p> <p>а) горечь во рту;</p> <p>б) слабость и недомогание;</p> <p>в) расширение зрачков;</p>	3 балла	

	г) тошнота; д) повышенное потоотделение.		
19	Признаками поражения отравляющими веществами нервнопаралитического действия являются: а) слюнотечение; б) металлический привкус во рту; в) сужение зрачков; г) паралич; д) кашель.	3 балла	
20	К образцам оружия Великой Отечественной войны 1941-1945 гг. относятся: а) штурмовик ИЛ-10; б) танк Т-60; в) истребитель МиГ-15; г) пистолет-пулемет Дегтярева; д) танк Т-55; е) автоматический пистолет Стечкина.	3 балла	

Подписи членов предметного
жюри:

Оценочные баллы: максимальный

39 б.

фактический