

**Всероссийская олимпиада школьников по основам безопасности жизнедеятельности
2022/2023 учебного года - РАЙОННЫЙ ЭТАП - 7 класс-Санкт-Петербург
БЛАНК ЗАДАНИЙ**

ЗАДАНИЕ 1. В левом столбце указаны социальные опасности, а в правом – их определения. Сопоставьте опасность с её определением.

1. Шантаж	А. преступление, заключающееся в завладении государственным, общественным или личным имуществом путем обмана или злоупотребления доверием
2. Мошенничество	Б. в юридической практике рассматривается как преступление, заключающееся в угрозе разоблачения, разглашения позорящих сведений с целью добиться каких-либо выгод
3. Бандитизм	В. физическое насилие вплоть до физического уничтожения
4. Разбой	Г. преступление, заключающееся в нападении с целью завладения государственным, общественным или личным имуществом, соединенным с насилием (или угрозой насилия), опасным для жизни и здоровья лица, подвергшегося нападению
5. Захват заложников	Д. представляет собой форму преступления. Его суть состоит в захвате людей (нередко это дети и женщины) одними лицами с целью заставить других лиц выполнить определенные требования
6. Террор	Е. это организация вооруженных банд с целью нападения на государственные и общественные учреждения либо на отдельных лиц, а также участие в таких бандах и совершенных ими нападениях

Максимальный балл - 6


ЗАДАНИЕ 2. Перечислите не менее 5 признаков взрывных устройств.

Максимальный балл - 10

ЗАДАНИЕ 3. Запишите 4 условия, позволяющие пешеходам пересекать проезжую часть вне зоны пешеходного перехода или перекрестка.

Максимальный балл - 4

ЗАДАНИЕ 4. Запишите названия знаков, которые представлены на рисунках.



Максимальный балл - 8

ЗАДАНИЕ 5. Напишите, что необходимо сообщить диспетчеру при вызове скорой медицинской помощи, а также заполните пропуски в предложении:

Вызов скорой медицинской помощи и других специальных служб (спасателей, полиции) производится по телефону _____ (также может осуществляться по телефонам _____, _____ или региональным номерам).

Максимальный балл - 8

*Всероссийская олимпиада школьников по основам безопасности жизнедеятельности
2022/2023 учебного года - РАЙОННЫЙ ЭТАП - 7 класс-Санкт-Петербург
БЛАНК ЗАДАНИЙ*

ЗАДАНИЕ 6. В некоторых случаях, когда истекло максимальное время наложения кровоостанавливающего жгута, а медицинская помощь все еще недоступна, появляется необходимость снятия и повторного наложения жгута.

1. Восстановите последовательность действий при снятии жгута:

- А) наложить жгут чуть выше предыдущего места наложения;
- Б) по возможности выполнить лёгкий массаж конечности, на которую был наложен жгут;
- В) осуществить пальцевое прижатие артерии выше жгута;
- Г) снять жгут на 15 минут.

Максимальный балл - 4

ЗАДАНИЕ 7. В правом столбце таблицы представлены примеры факторов, определяющих здоровье населения. Заполните левый столбец таблицы.






<i>Факторы, определяющие здоровье населения</i>	
<i>Группы факторов</i>	<i>Примеры факторов</i>
	А. Курение, употребление алкогольсодержащей продукции, несбалансированное питание, стрессовые ситуации, вредные условия труда, гиподинамия, низкая физическая активность, потребление наркотических веществ, низкий культурный и образовательный уровень
	Б. Загрязнение воздуха канцерогенами и другими вредными веществами, загрязнение воды канцерогенами и другими вредными веществами, загрязнение почвы, резкие смены состояния атмосферы, повышенные гелиокосмические, радиационные, магнитные и другие излучения
	В. Предрасположенность к наследственным болезням, наследственная предрасположенность к тем или иным заболеваниям
	Г. Неэффективность профилактических мероприятий, низкое качество и несвоевременность медицинской помощи

Максимальный балл - 8

ЗАДАНИЕ 8. Вещества и материалы могут классифицироваться по группам возгораемости. Запишите как они классифицируются.

Максимальный балл – 10

ЗАДАНИЕ 9. Впишите названия (значения) знаков, представленных на картинках.








А	Б	В	Г	Д
				

Максимальный балл – 10

**Всероссийская олимпиада школьников по основам безопасности жизнедеятельности
2022/2023 учебного года - РАЙОННЫЙ ЭТАП - 7 класс-Санкт-Петербург
БЛАНК ЗАДАНИЙ**

ЗАДАНИЕ 10. Туристская маркировка – это система специальных условных обозначений, которые наносятся на местные предметы для разметки туристских маршрутов. Существуют рекомендательные, запрещающие и ограничивающие знаки туристской маркировки.

Напишите, что означают знаки туристской маркировки, представленные на картинках:

А		В		Д		Ж	
Б		Г		Е			

Максимальный балл – 14

ЗАДАНИЕ 11. Выполните тестовые задания.

№ n/n	Тестовые задания	Макс. балл
Определите один правильный ответ		
1.	Промежуток времени от заражения до появления первых признаков болезни называется: а) период основных проявлений; б) период начальных проявлений; в) инкубационный период; г) период угасания болезни.	1
2.	Кровоостанавливающий жгут применяется при: а) венозном кровотечении; б) артериальном кровотечении; в) капиллярном кровотечении; г) закрытых переломах.	1
3.	Нарушение целостности кости под действием травмирующей силы, превосходящей упругость костной ткани, это: а) перелом; б) вывих; в) ушиб; г) растяжение.	1
4.	Отметьте ошибку в правилах наложения шины при переломе: а) накладывать шины следует только в том случае, когда на место происшествия невозможно прибытие скорой помощи или спасательных служб; б) шина должна быть смоделирована под размер и форму повреждённой конечности; в) шина должна быть удобной для пострадавшего и не причинять ему боль; г) накладывать шину нужно при всех видах переломов.	1
5.	Бинт, обладающий способностью растягиваться, что позволяет плотно фиксировать повреждённую часть тела без излишнего сдавливания: а) индивидуальный перевязочный пакет; б) эластичный бинт; в) трубчатый (сетчатый) бинт; г) марлевый плоский бинт.	1

**Всероссийская олимпиада школьников по основам безопасности жизнедеятельности
2022/2023 учебного года - РАЙОННЫЙ ЭТАП - 7 класс-Санкт-Петербург
БЛАНК ЗАДАНИЙ**

Определите несколько правильных ответов		
6.	Среди способов передачи инфекции укажите лишние: а) наземный путь; б) воздушный путь; в) насекомыми и клещами; г) воздушно-капельный путь; д) через предметы быта; е) водный путь.	2
7.	Охладить обожжённую поверхность проточной водой необходимо при ожоге: а) 1 степени; б) 2 степени; в) 3 степени; г) 4 степени.	2
8.	К инфекционным заболеваниям не относятся: а) грипп; б) инфаркт; в) дизентерия; г) чума; д) инсульт.	2
9.	В понятие «Физическое здоровье» входит: а) культура питания; б) семья; в) гигиена; г) учебная деятельность.	2
10.	Укажите, какие меры относятся к противоэпифитотическим: а) химическая обработка посевов, посевного и посадочного материалов; б) выведение новых, устойчивых к болезням сортов сельскохозяйственных растений; в) уничтожение очагов инфекции; г) организация надзора за качеством пищевого и технического сырья растительного происхождения.	3

Максимальный балл - 16