

Министерство образования и науки Челябинской области
ВСЕРОССИЙСКАЯ ОЛИМПИАДА ШКОЛЬНИКОВ ПО ОБЖ
(МУНИЦИПАЛЬНЫЙ ЭТАП)

ТЕОРЕТИЧЕСКИЙ ТУР

9 класс

Код/шифр участника			

Уважаемый участник олимпиады!

Вам предстоит выполнить теоретические (модуль 1) и тестовые задания (модуль 2).

Время выполнения заданий теоретического тура муниципального этапа 90 минут.

Выполнение теоретических заданий модуля 1 целесообразно организовать следующим образом:

не спеша, внимательно прочитайте задание и определите, наиболее верный и полный ответ;

отвечая на теоретический вопрос, обдумайте и сформулируйте конкретный ответ только на поставленный вопрос;

если Вы отвечаете на задание, связанное с заполнением таблицы или схемы, не старайтесь детализировать информацию, вписывайте только те сведения или данные, которые указаны в вопросе;

особое внимание обратите на задания, в выполнении которых требуется выразить Ваше мнение с учетом анализа ситуации или поставленной проблемы. Внимательно и вдумчиво определите смысл вопроса и логику ответа (последовательность и точность изложения). Отвечая на вопрос, предлагайте свой вариант решения проблемы, при этом ответ должен быть кратким, но содержать необходимую информацию;

после выполнения всех предложенных заданий еще раз удостоверьтесь в правильности выбранных Вами ответов и решений.

Выполнение заданий модуля 2 целесообразно организовать следующим образом:

не спеша, внимательно прочитайте тестовое задание;

определите, какой из предложенных вариантов ответа (в случае их наличия) наиболее верный и полный;

напишите ответ: букву, соответствующую выбранному Вами ответу (на задания с выбором ответа из предложенных);

продолжайте, таким образом, работу до завершения выполнения заданий;

после выполнения всех предложенных заданий еще раз удостоверьтесь в правильности ваших ответов;

если потребуется корректировка выбранного Вами варианта ответа, то неправильный вариант ответа зачеркните крестиком и рядом напишите новый.

Предупреждаем Вас, что:

при оценке заданий модуля 2, где необходимо определить один правильный ответ, 0 баллов выставляется за неверный ответ и в случае, если участником отмечены несколько ответов (в том числе правильный), или все ответы;

при оценке заданий модуля 2, где необходимо определить все правильные ответы, 0 баллов выставляется, если участником отмечены неверные ответы, большее количество ответов, чем предусмотрено в задании (в том числе правильные ответы) или все ответы.

Задание теоретического тура считается выполненным, если Вы вовремя сдаете его членам жюри.

Максимальная оценка – 150 баллов.

Желаем успеха!

МОДУЛЬ 1

ЗАДАНИЕ 1. Укажите стрелками соответствие в названии и способе применения средства тушения небольшого возгорания в быту

Снег

Для засыпки мелких очагов возгорания в быту (в бытовых электроприборах, в газовых шлангах, на газовой плите, средства бытовой химии и т.п.)

Веники
из зеленых веток

Можно использовать для тушения горючих жидкостей, жира, а также для прекращения доступа воздуха к очагу горения

Песок,
земля

Можно тушить почти все, за исключением электропроводки и горючих жидкостей

Брезент,
верхняя одежда

Применяются для захлестывания кромки огня ветками при небольших загораниях в лесу

Стиральный
порошок

Для тушения небольших очагов горения, в том числе проливов горючих жидкостей (керосин, бензин, масла, смолы и др.)

Подписи членов предметного жюри:

Оценочные баллы: максимальный

10 б.

фактический

ЗАДАНИЕ 2. Впишите названия запрещающих знаков

1		
2		
3		
4		

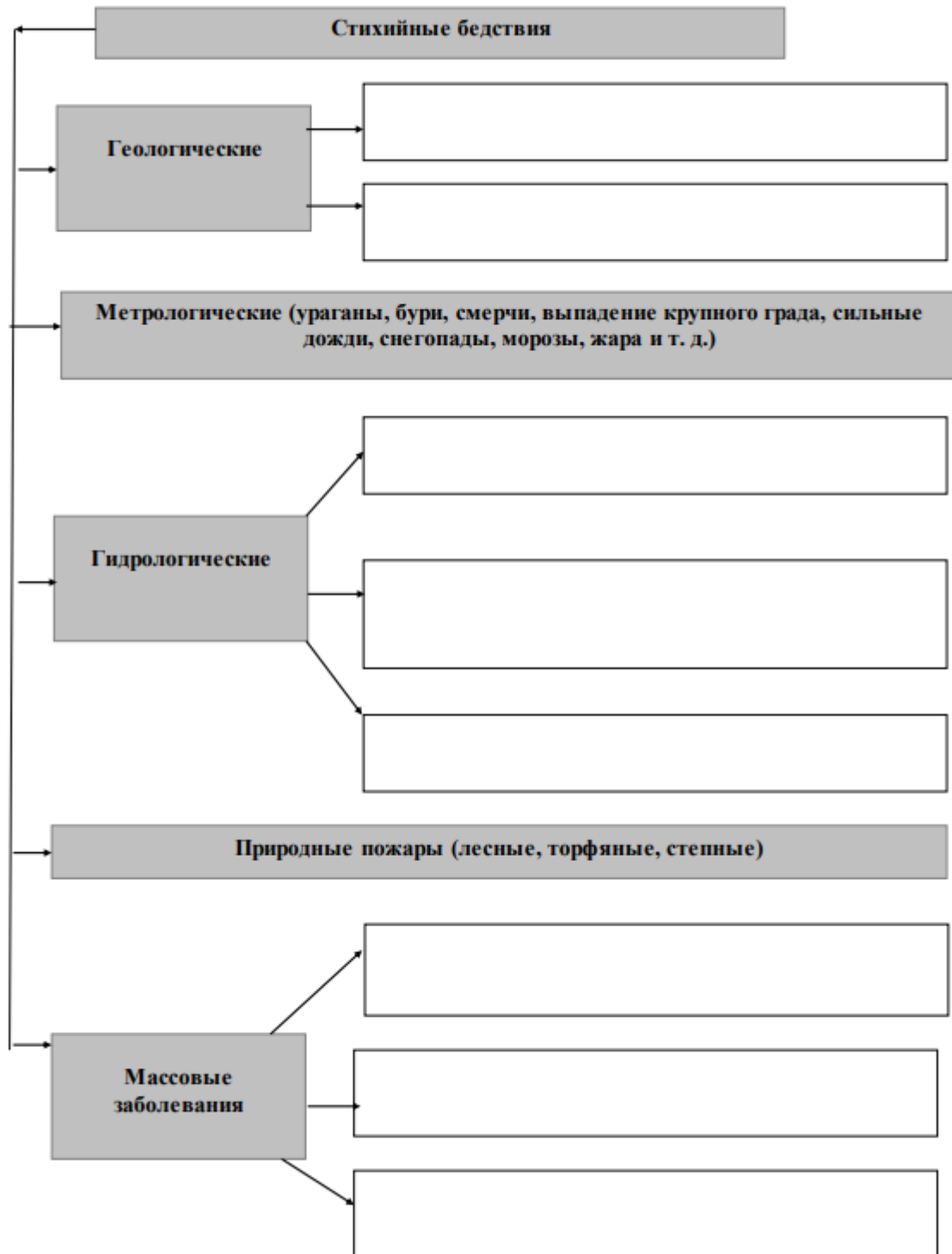
Подписи членов предметного жюри:

Оценочные баллы: максимальный

12 б.

фактический

ЗАДАНИЕ 3. Заполните таблицу, вписав названия видов опасных природных явлений



Подписи членов предметного жюри:

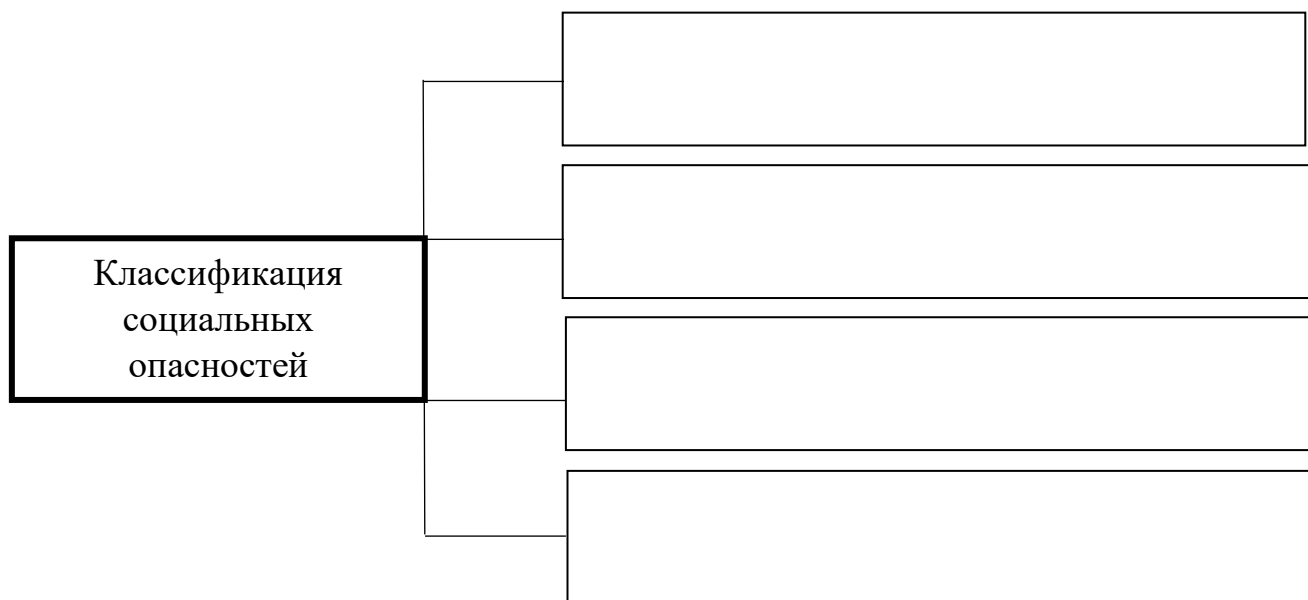
Оценочные баллы: максимальный

24 б.

фактический

ЗАДАНИЕ 4. ЧС социального характера – это обстановка на определенной территории, сложившаяся в результате возникновения опасных противоречий и конфликтов в сфере социальных отношений, которые могут повлечь или повлекли за собой человеческие жертвы, ущерб здоровью людей или окружающей среде, значительные материальные потери или нарушение условий жизнедеятельности людей.

Заполните схему, указав, что относится к классификации социальных опасностей



Подписи членов предметного жюри:

Оценочные баллы: максимальный

12 б.


фактический

ЗАДАНИЕ 5. Оповещение населения при авариях на химически опасных объектах осуществляется по радиовещательным и телевизионным системам, по заранее разработанным управлением ГОЧС типовым текстам информации.

Вам предлагается составить инструкцию (рекомендации) для эвакуируемого населения при движении по зараженной местности.

МОДУЛЬ 2

Тестовые задания теоретического тура муниципального этапа Олимпиады 9 класс

№ п/п	Тестовые задания	Максимальный балл	Количество баллов
<i>Отметьте один правильный ответ</i>			
1	<p>Когда пассажир должен надуть спасательный жилет при эвакуации из самолёта в случае аварийной ситуации?</p> <p>а) в своём кресле перед выходом; б) при следовании к выходу; в) перед выходом; г) после выхода</p>	2 балла	
2	<p>Какова очерёдность входа в кабину лифта?</p> <p>а) первыми входят взрослые; б) первыми входят дети; в) одновременно входят дети и взрослые; г) очерёдность входа не имеет значения</p>	2 балла	
3	<p>Вязка какого узла изображена на рисунке?</p> <p>а) бабьего; б) прямого; в) фламандского; г) дубового</p> <div style="text-align: center;">  </div>	2 балла	
4	<p>Установите основную причину возникновения лесных пожаров в весенний период:</p> <p>а) очистка леса огнем способом; б) пал травы; в) грозы; г) походы людей в лес</p>	2 балла	
5	<p>Раскройте суть понятия «панзоотия»</p> <p>а) широкое распространение инфекции среди животных соседних стран; б) эпидемия инфекционной болезни среди животных нескольких групп на одной местности; в) массовые случаи рождения больных животных в конкретный период; г) лавинообразный падеж скота на территории соседних областей</p>	2 балла	
6	<p>Какое цветовое обозначение соответствует высокому уровню террористической опасности?</p> <p>а) жёлтый; б) красный; в) оранжевый; г) синий</p>	2 балла	
7	<p>Верны ли приведённые суждения?</p> <p>Оксид углерода (угарный газ), входящая в состав табачного дыма, при поступлении в организм вызывает кислородное голодание вследствие:</p> <p>А. нарушения способности эритроцитов переносить кислород;</p>	2 балла	

	<p>Б. сужение сосудов. а) верно только А; б) верно только Б; в) верны оба суждения; г) оба суждения неверны</p>		
8	<p>Какой процент от площади общей поверхности тела составляет одна нижняя конечность согласно «правилу девяток»? а) 4,5 %; б) 9 %; в) 18 %; г) 36 %</p>	2 балла	
9	<p>Какие признаки характерны для термического ожога II степени? а) обугливание тканей; б) отсутствие чувствительности повреждённого участка кожи; в) покраснение, отёк, резкая болезненность поврежденного участка кожи; г) появление пузырей на фоне покраснения, отёка, болезненности повреждённого участка кожи</p>	2 балла	
10	<p>Какая повязка является началом любой мягкой бинтовой повязки? а) восьмиобразная; б) спиральная; в) циркулярная; г) колосовидная</p>	2 балла	
<i>Определите все правильные ответы</i>			
11	<p>Запрещается выгуливать собак и появляться с ними в общественных местах и в транспорте: а) лицам в нетрезвом состоянии; б) детям младше 14 лет; в) лицам с ограниченной двигательной активностью; г) детям младше 15 лет; д) лицам с тяжёлыми физическими нарушениями</p>	4 балла	
12	<p>Выделите действия, которые наиболее целесообразны с точки зрения защиты от последствий аварии на радиационно опасном объекте: а) частая уборка помещения влажным способом; б) приём внутрь лекарственных препаратов стабильного йода; в) частое проветривание помещений; г) выделение в помещении специального места для хранения верхней одежды; д) употребление воды исключительно после 30-40 минутного отстаивания в открытой посуде</p>	4 балла	
13	<p>Определение средства (способы) информирования и оповещения населения, входящие в систему ОКСИОН: а) пункты информирования и оповещения населения; б) оповещение населения подачей сигнала «Внимание всем!»;</p>	4 балла	

	<p>в) sms-уведомление через сотовых операторов;</p> <p>г) пункты уличного информирования и оповещения населения;</p> <p>д) стационарные комплексы информирования и оповещения населения субъектов Российской Федерации</p>		
14	<p>Определите возможные целесообразные действия при землетрясении:</p> <p>а) для скорейшего покидания здания использовать лифт;</p> <p>б) быстро спуститься по лестнице и укрыться в подвале (на цокольном этаже);</p> <p>в) быстро занять место в углу комнаты;</p> <p>г) выйти из здания на открытое пространство;</p> <p>д) после первого же форшока быстро занять место вблизи оконного проёма</p>	4 балла	
15	<p>Какие из перечисленных ниже средств относятся к биологически активным добавкам (БАДам)?</p> <p>а) витамины;</p> <p>б) микроэлементы;</p> <p>в) стабилизаторы;</p> <p>г) усилители вкуса;</p> <p>д) консерванты</p>	4 балла	
16	<p>Какие действия запрещается выполнять при ожоге конечности с повреждением целостности кожи?</p> <p>а) отрывать прилипшую одежду;</p> <p>б) охлаждать, приложив холод через стерильную (чистую) ткань;</p> <p>в) охлаждать под струёй воды;</p> <p>г) накладывать нетугую повязку;</p> <p>д) давать питьё</p>	4 балла	
17	<p>Какие различают виды переломов по причине их возникновения?</p> <p>а) травматические;</p> <p>б) спортивные;</p> <p>в) патологические;</p> <p>г) со смещением;</p> <p>д) без смещения</p>	4 балла	
18	<p>Костер «колодец» рационально использовать для:</p> <p>а) приготовления пищи;</p> <p>б) обогрева;</p> <p>в) сушки вещей;</p> <p>г) ночлега</p>	4 балла	
19	<p>Уголовный закон имеет обратную силу, если он:</p> <p>а) устраняет преступные деяния;</p> <p>б) улучшает положение лица, совершившего преступление;</p> <p>в) устанавливает преступность деяния;</p> <p>г) усиливает наказание;</p> <p>д) улучшает положение потерпевшего</p>	4 балла	

20	<p>Поражающие факторы источников техногенных ЧС по механизму действия подразделяются на факторы:</p> <p>а) физического действия; б) химического действия; в) прямого действия; г) побочного действия; д) ускоренного действия</p>	4 балла	
----	--	---------	--

Подписи членов предметного
жюри:

Оценочные баллы: максимальный

60 б.

фактический
