

ВСЕРОССИЙСКАЯ ОЛИМПИАДА ШКОЛЬНИКОВ ПО ОБЖ
(МУНИЦИПАЛЬНЫЙ ЭТАП)
2022/2023 учебный год

ТЕОРЕТИЧЕСКИЙ ТУР

9 класс

МОДУЛЬ 1

Задание 1. Исходя из определения «Гигиена – наука, изучающая влияние факторов внешней среды на организм человека с целью оптимизации благоприятного и профилактики неблагоприятного воздействия», Вам предлагается:





а) доказать верность девиза «Чистота – залог здоровья» на примере соблюдения чистоты кожи, зубов, волос, одежды и обуви

Вариант ответа:

б) перечислить и привести примеры 3-х групп факторов внешней среды, влияющих на здоровье человека:

Вариант ответа:

ЗАДАНИЕ 2. Впишите названия запрещающих знаков

1		
2		
3		
4		

Задание 3. Составьте определение понятия «Экологическая безопасность» из представленных ниже отдельных частей (фрагментов), выбрав правильные.

- а) совокупность природных ...;
- б) и других условий ...;
- в) проживающего на данной территории населения ...;
- г) социальных, технических ...;
- д) обеспечивающих качество жизни и ...;
- е) безопасность жизни и деятельности ...;
- ж) одна из составляющих национальной безопасности ...;

Вариант ответа:

Задание 4. Режим труда и отдыха играет важную роль в сохранении здоровья. У большинства людей в повседневной жизни складывается более или менее постоянный распорядок дня. Какие составляющие режима дня должны оставаться неизменными?
Вариант ответа:

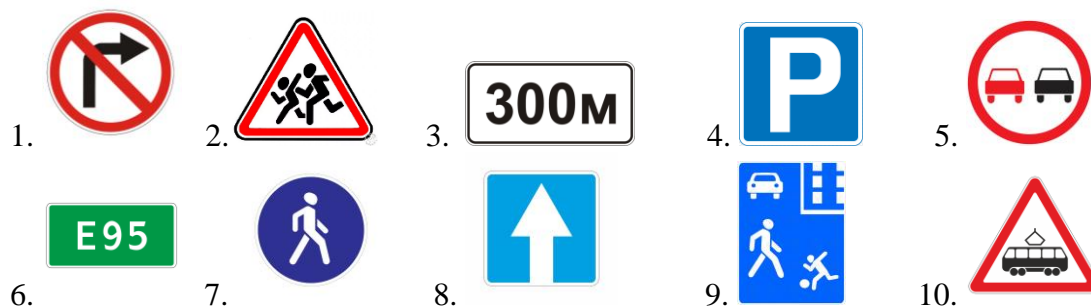
Задание 5. Лица, какого возраста (в соответствии с УК РФ) считаются несовершеннолетними, и какие наказания им может назначить суд за совершённые преступления?

Вариант ответа:

- а) несовершеннолетними считаются лица,

- б) видами наказаний, назначаемых несовершеннолетним, являются:

Задание 6. Указать название дорожных знаков, и к какой группе относятся.



№	Название знака	Группа
1.		
2.		
3.		
4.		
5.		
6.		
7.		
8.		
9.		

МОДУЛЬ 2

**Тестовые задания теоретического тура муниципального этапа Олимпиады
9 класс**

№ п/п	Тестовые задания	Максимальный балл	Количество баллов
<i>Отметьте один правильный ответ</i>			
1	<p>Результатами воздействия социальных опасностей могут быть: а) болезни, травматизм и гибель людей;</p>	2 балла	

	<p>б) экономический кризис; в) политические противоречия.</p>		
2	<p>По данным Всемирной организации здравоохранения (ВОЗ), главным индикатором состояния здоровья населения является: а) ведение здорового образа жизни; б) продолжительность жизни; в) отказ от вредных привычек</p>	2 балла	
3	<p>Как необходимо поступить велосипедисту, подъезжающему к останову, когда автобус трогается от остановки, оповещая об этом других участников движения включением указателя поворота: а) подадите сигнал звонком для всех участников движения; б) уступите дорогу, т.к. автобус начинает движение от остановки; в) проедите мимо, т.к. автобус еще не начал движение</p>	2 балла	
4	<p>Криминогенные качества личности – это: а) наследственные свойства личности, которые определяют вероятность совершения человеком преступления; б) свойства личности, понижающие вероятность совершения человеком преступления; в) свойства личности, которые повышают вероятность совершения человеком преступления; г) ненаследственные свойства личности, которые определяют вероятность совершения человеком преступления</p>	2 балла	
5	<p>Наибольшей проникающей способностью обладает: а) α-излучение; б) β-излучение; в) γ-излучение.</p>	2 балла	
6	<p>Гражданский фильтрующий противогаз ГП-7 без дополнительного патрона ДПГ-1 не защищает: а) от хлора, сероводорода; б) от окиси углерода, двуокиси азота; в) от соляной кислоты, нитробензола</p>	2 балла	
7	<p>Относительно безопасными местами в здании для укрытия при землетрясении являются: а) места под подоконником, внутри шкафов, комодов, гардеробов, углы, образованные внутренними перегородками; б) места под прочно закрепленными столами, рядом с кроватями, у колонн, проемы в капитальных внутренних стенах, углы, образованные капитальными внутренними стенами, дверные проемы; в) вентиляционные шахты и короба, балконы и под ними, места внутри кладовок и встроенных шкафов.</p>	2 балла	

8	<p>Передвигаясь по засушливой местности, вы очень хотите пить. У вас полная фляга воды. Как правильно утолять жажду?</p> <p>а) пить часто, но по одному глотку; б) пить по одной чашке в день; в) утолить жажду, выпив половину имеющейся воды в фляге; г) пить только при сильной жажде, промочить рот и выпить один-два глотка.</p>	2 балла	
9	<p>Химическое вещество, применяемое в народнохозяйственных целях, которое при выливе или выбросе может привести к заражению воздуха с поражающими концентрациями, это:</p> <p>а) химически опасное вещество; б) ядовитое вещество; в) аварийное химически опасное вещество; г) опасное вещество</p>	2 балла	
10	<p>При взрыве пострадавшие имели такие повреждения как травмы мозга с потерей сознания, повреждение органов слуха, кровотечение из носа и ушей. Такой вид поражений называется:</p> <p>а) легкие; б) средние; в) тяжелые; г) крайне тяжелые.</p>	2 балла	
<i>Определите все правильные ответы</i>			
11	<p>Запрещается выгуливать собак и появляться с ними в общественных местах и в транспорте:</p> <p>а) лицам в нетрезвом состоянии; б) детям младше 14 лет; в) лицам с ограниченной двигательной активностью; г) детям младше 15 лет; д) лицам с тяжёлыми физическими нарушениями</p>	4 балла	
12	<p>Выделите действия, которые наиболее целесообразны с точки зрения защиты от последствий аварии на радиационно опасном объекте:</p> <p>а) частая уборка помещения влажным способом; б) приём внутрь лекарственных препаратов стабильного йода; в) частое проветривание помещений; г) выделение в помещении специального места для хранения верхней одежды; д) употребление воды исключительно после 30-40 минутного отстаивания в открытой посуде</p>	4 балла	
13	<p>Определение средства (способы) информирования и оповещения населения, входящие в систему ОКСИОН:</p> <p>а) пункты информирования и оповещения населения; б) оповещение населения подачей сигнала «Внимание всем!»;</p>	4 балла	

	<p>в) sms-уведомление через сотовых операторов;</p> <p>г) пункты уличного информирования и оповещения населения;</p> <p>д) стационарные комплексы информирования и оповещения населения субъектов Российской Федерации</p>		
14	<p>Определите возможные целесообразные действия при землетрясении:</p> <p>а) для скорейшего покидания здания использовать лифт;</p> <p>б) быстро спуститься по лестнице и укрыться в подвале (на цокольном этаже);</p> <p>в) быстро занять место в углу комнаты;</p> <p>г) выйти из здания на открытое пространство;</p> <p>д) после первого же форшока быстро занять место вблизи оконного проёма</p>	4 балла	
15	<p>Какие из перечисленных ниже средств относятся к биологически активным добавкам (БАДам)?</p> <p>а) витамины;</p> <p>б) микроэлементы;</p> <p>в) стабилизаторы;</p> <p>г) усилители вкуса;</p> <p>д) консерванты</p>	4 балла	
16	<p>Угарный газ - это продукт:</p> <p>а) неполного сгорания природного газа;</p> <p>б) неполного сгорания твердого топлива;</p> <p>в) испарения лаков и красок;</p> <p>г) жизнедеятельности человека и домашних теплокровных животных;</p> <p>д) испарения от пищевых отходов.</p>	4 балла	
17	<p>Дорожно-транспортная безопасность человека обеспечивается:</p> <p>а) хорошей реакцией;</p> <p>б) строгим выполнением всех участников движения Правил дорожного движения;</p> <p>в) конструктивными свойствами транспортных средств.</p>	4 балла	
18	<p>Маркировка туристических маршрутов осуществляется металлическими табличками, которые крепятся на деревьях на уровне роста человека. Таблички имеют три горизонтальные полосы. Назовите цвета, в которые они окрашены.</p> <p>а) красная – белая – красная;</p> <p>б) белая – красная – белая;</p> <p>в) синяя – белая – синяя;</p> <p>г) белая – синяя – белая.</p>	4 балла	
19	<p>Причины техногенных аварий и катастроф обусловлены...</p> <p>а) ростом сложности производства с применением, как новых технологий, требующих высоких концентраций энергии, так и опасных для жизни человека веществ, которые оказывают ощутимое воздействие на окружающую природную среду;</p>	4 балла	

	<p>б) снижением надежности производственного оборудования, транспортных средств, несовершенством и устарелостью производственных технологий;</p> <p>в) повышением надежности производственного оборудования, транспортных средств, совершенством производственных технологий;</p> <p>г) человеческим фактором, выражающимся в соблюдении технологий производства, трудовой дисциплины, высоком уровне профессиональной подготовки</p>		
20	<p>Основные мероприятия по химической защите населения включают в себя...</p> <p>а) своевременное обнаружение возникновения аварии на ГТС и оповещение о ней;</p> <p>б) своевременное обнаружение возникновения химической аварии и оповещение о ней;</p> <p>в) обеспечение населения, персонала аварийного объекта и участников ликвидации последствий аварии на ГТС средствами индивидуальной защиты органов дыхания и кожи и применение этих средств;</p> <p>г) укрытие населения и персонала в убежищах, обеспечивающих защиту от аварии на ГТС;</p> <p>д) укрытие населения и персонала в убежищах, обеспечивающих защиту от АХОВ;</p> <p>е) обеспечение населения, персонала аварийного объекта и участников ликвидации последствий химической аварии средствами индивидуальной защиты органов дыхания и кожи и применение этих средств</p>	4 балла	