

ВСЕРОССИЙСКАЯ ОЛИМПИАДА ШКОЛЬНИКОВ
ПО ОСНОВАМ БЕЗОПАСНОСТИ ЖИЗНЕДЕЯТЕЛЬНОСТИ
(МУНИЦИПАЛЬНЫЙ ЭТАП) ТЕОРЕТИЧЕСКИЙ ТУР
возрастная группа (**10-11** классы)

Уважаемый участник олимпиады!

Вам предстоит выполнить теоретические (письменные) и тестовые задания.

Время выполнения заданий теоретического тура **90** минут.

Выполнение теоретических (письменных) заданий целесообразно организовать следующим образом:

- не спеша, внимательно прочитайте задание и определите, наиболее верный и полный ответ;
- отвечая на теоретический вопрос, обдумайте и сформулируйте конкретный ответ только на поставленный вопрос;
- если Вы отвечаете на задание, связанное с заполнением таблицы или схемы, не старайтесь детализировать информацию, вписывайте только те сведения или данные, которые указаны в вопросе;
- особое внимание обратите на задания, в выполнении которых требуется выразить Ваше мнение с учетом анализа ситуации или поставленной проблемы. Внимательно и вдумчиво определите смысл вопроса и логику ответа (последовательность и точность изложения). Отвечая на вопрос, предлагайте свой вариант решения проблемы, при этом ответ должен быть кратким, но содержать необходимую информацию;
- после выполнения всех предложенных заданий еще раз удостоверьтесь в правильности выбранных Вами ответов и решений.

Выполнение заданий целесообразно организовать следующим образом:

- не спеша, внимательно прочитайте тестовое задание;
- определите, какой из предложенных вариантов ответа наиболее верный и полный;
- напишите букву, соответствующую выбранному Вами ответу;
- продолжайте, таким образом, работу до завершения выполнения тестовых заданий;
- после выполнения всех предложенных заданий еще раз удостоверьтесь в правильности ваших ответов;
- если потребуется корректировка выбранного Вами варианта ответа, то неправильный вариант ответа зачеркните крестиком и рядом напишите новый.

Предупреждаем Вас, что:









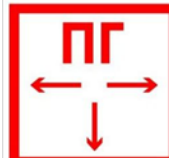
- при оценке тестовых заданий, где необходимо определить один правильный ответ, 0 баллов выставляется за неверный ответ и в случае, если участником отмечены несколько ответов (в том числе правильный), или все ответы;
- при оценке заданий, где необходимо определить все правильные ответы, 0 баллов выставляется, если участником отмечены неверные ответы, большее количество ответов, чем предусмотрено в задании (в том числе правильные ответы) или все ответы.

Задание теоретического тура считается выполненным, если Вы вовремя сдаете его членам жюри.

Максимальная оценка –150 баллов.

МОДУЛЬ 1.

ЗАДАНИЕ 1. Впишите в таблицу название знаков.

1. 	2. 	3. 
4. 	5. 	6. 
7. 	8. 	9. 

Максимальный балл – 27.

ЗАДАНИЕ 2. На отдельных участках территории Российской Федерации (объектах) могут устанавливаться уровни террористической опасности. Впишите в таблицу название и цвет обозначения уровня террористической опасности.

	при наличии требующей подтверждения информации о реальной возможности совершения террористического акта
	при наличии подтвержденной информации о реальной возможности совершения террористического акта
	при наличии информации о совершенном террористическом акте либо о совершении действий, создающих непосредственную угрозу террористического акта

Максимальный балл – 12.

ЗАДАНИЕ 3. В правилах дорожного движения знаки играют важнейшую роль. В настоящее время их насчитывается уже более двухсот, и они разделяются на 8 основных групп. Запишите названия этих групп.

1. _____
2. _____
3. _____
4. _____
5. _____
6. _____
7. _____
8. _____

Максимальный балл – 16.

ЗАДАНИЕ 4. Изменение давления воздуха является причиной движения воздуха - ветра. Наиболее опасные природные явления метеорологического происхождения связаны с высокой скоростью перемещения воздушных масс. Впишите в таблицу недостающие слова.

	ветер разрушительной силы значительной продолжительности, скорость которого превышает 32 м/с
	ветер, скорость которого достигает 18 - 20 м/с и выше
	сильный маломасштабный атмосферный вихрь диаметром до 1000 м, в котором воздух вращается со скоростью до 100 м/с и обладает большой разрушительной силой

Максимальный балл – 12.

ЗАДАНИЕ 5. Социально значимые заболевания относятся к числу наиболее актуальных проблем современного здравоохранения и основных угроз для здоровья населения. Перечислите основные социально значимые инфекционные заболевания.

1. _____
2. _____
3. _____
4. _____

Максимальный балл – 16.

ЗАДАНИЕ 6. Сроки оказания первой помощи зачастую решают судьбу раненого. Обучение военнослужащих оказанию самопомощи и взаимопомощи представляет

важнейшую задачу медицинской службы. Перечислите какие медицинские мероприятия возможно осуществить на поле боя.

1. _____
2. _____
3. _____
4. _____
5. _____
6. _____

Максимальный балл – 24.

ЗАДАНИЕ 7. Впишите в таблицу смысловое значение знаков медицинского и санитарного назначения.


	
	
	
	
	
	

Максимальный балл – 18.

МОДУЛЬ 2.

№ п/п	Тестовые задания	Макс. балл
<i>Определите один правильный ответ</i>		
1.	 <p>Данное сочетание дорожных знаков означает: а) стоянка транспортных средств кроме категории «D»; б) стоянка только транспортных средств категории «D»; в) стоянка только транспортных средств дипломатического корпуса; г) стоянка разрешена только по вторникам и четвергам</p>	1
2.	 <p>Данный знак размещается: а) на оборудовании с автоматическим включением; б) в местах применения вредных для здоровья веществ; в) на дверцах морозильных камер; г) на дверях помещений, где действуют электромагнитные поля</p>	1
3.	 <p>Данное условное обозначение показывает границы разрушений: а) слабых; б) средних; в) сильных; г) полных</p>	1
4.	<p>При полнолунии в 7 часов вечера луна находится на: а) Севере; б) Юге; в) Западе; г) Востоке</p>	1
5.	<p>Возбудители ботулизма живут только при: а) отсутствии доступа кислорода; б) наличии углекислого газа; в) наличии воды; г) наличии кислорода</p>	1
6.	<p>По маршрутам, проходящим в горной местности, запрещается эксплуатация: а) автомобилей с прицепом; б) пассажирских автобусов; в) сочлененных транспортных средств; г) скутеров и самокатов</p>	1

7.	<p>Двугранный угол между плоскостью меридиана данной точки и вертикальной плоскостью, проходящей в данном направлении, отсчитываемый от направления на север по ходу часовой стрелки называется:</p> <p>а) географический азимут; б) астрономический азимут; в) геодезический азимут; г) геодезический зенит</p>	1
8.	<p>Алтари лютеранских кирок обращены на:</p> <p>а) Север; б) Юг; в) Запад; г) Восток</p>	1
9.	<p>При движении организованных пеших колонн по проезжей части в темное время суток спереди колонны должны находиться сопровождающие с включенными фонарями:</p> <p>а) красного цвета; б) зелёного цвета; в) белого цвета; г) жёлтого цвета</p>	1
10.	<p>К сопутствующим проявлениям опасных факторов пожара относится:</p> <p>а) снижение видимости в дыму; б) пониженная концентрация кислорода; в) повышенная концентрация токсичных продуктов термического разложения; г) воздействие огнетушащих веществ</p>	1
11.	<p>Сталкерское программное обеспечение – это программы для:</p> <p>а) слежки; б) поиска достопримечательностей; в) ориентирования в лесу; г) поиска терпящих бедствие</p>	1
12.	<p>К природным чрезвычайным ситуациям относятся:</p> <p>а) космические опасности; б) гидродинамические аварии; в) эпидемии; г) эпифитотии</p>	1
13.	<p>Уклонение от прохождения военной и альтернативной гражданской службы является преступлением:</p> <p>а) против военной службы; б) против порядка управления; в) против государственной власти и интересов государственной службы; г) против общественной безопасности</p>	1
14.	<p>В соответствии с Федеральным законом «Об обороне» программы ядерных и других специальных испытаний утверждает:</p> <p>а) Президент РФ; б) Правительство РФ; в) Министр обороны РФ; г) Государственная Дума</p>	1

15.	<p>Военная академия РВСН носит имя:</p> <p>а) Н.Е. Жуковского; б) А.Ф. Можайского; в) Петра Великого; г) А.М. Василевского</p>	1
<i>Определите все правильные ответы</i>		
16.	 <p>Данный дорожный знак отменяет действие следующих запрещающих знаков:</p> <p>а) обгон грузовым автомобилям запрещен; б) подача звукового сигнала запрещена; в) ограничение высоты; г) движение мотоциклов запрещено; д) движение транспортных средств с опасными грузами запрещено</p>	2
17.	<p>Если две моторные лодки сближаются на противоположных курсах так, что может возникнуть опасность столкновения то лодка:</p> <p>а) идущая по течению должна изменить курс вправо; б) идущая по течению должна изменить курс влево; в) идущая против течения должна изменить курс вправо; г) идущая против течения должна изменить курс влево; д) идущая по течению не должна изменять курс</p>	2
18.	<p>В качестве вытесняющего газа для зарядки в огнетушители допускается применять:</p> <p>а) азот; б) аммиак; в) аргон; г) оксид углерода; д) водород</p>	2
19.	<p>К средствам спасения с верхних этажей зданий относятся:</p> <p>а) маты и подушки; б) самоспасатели; в) желоба для спуска; г) канаты; д) лестницы-стремянки</p>	2
20.	<p>Основу поражающего действия биологического оружия составляют биологические средства, к которым относятся:</p> <p>а) патогенные микроорганизмы; б) насекомые; в) грызуны; г) токсины; д) отравляющие вещества</p>	2
	Количество баллов	<i>max 25</i>