

ЗАДАНИЯ
МУНИЦИПАЛЬНОГО ЭТАПА ВСЕРОССИЙСКОЙ ОЛИМПИАДЫ
ШКОЛЬНИКОВ ПО ОСНОВАМ БЕЗОПАСНОСТИ ЖИЗНЕДЕЯТЕЛЬНОСТИ

2023-2024 учебный год



10 класс

Задания теоретического тура



Время на выполнение заданий теоретического тура – **90 минут**

Максимальное количество баллов за решение заданий теоретического тура – **150 баллов**
(тестовые задания – **60** баллов, теоретические задания – **90** баллов).

Тестовые задания

№	Тестовые задания	Макс балл
1	2	3
1.	Что запрещается очередному дневальному по роте? А) пить; Б) расстегиваться, снимать снаряжение; В) садиться	4
2.	В каждой роте оборудуются туалеты из расчета? А) одна кабинка с унитазом на 10-12 чел; Б) одна кабинка с унитазом на 15-20 чел; В) одна кабинка с унитазом на 5-7 чел.	2
3.	Какое безопасное место в 5-ти этажном доме лучше занять при аварии с выбросом аммиака? А) в подвале; Б) на 3-м этаже; В) на верхнем этаже	2
4.	Какая награда относилась к высшей награде во времена Советского Союза? А) Орден Октябрьской революции; Б) Медаль «Золотая звезда»; В) Орден Ленина; Г) Орден Победы	4
5.	К какому виду знаков относится данный знак?  А) знак особых предписаний «Вероятность утонуть»; Б) предупреждающий – «Выезд на набережную»; В) Запрещающий «Обрыв на берегу».	2
6.	В каком году завершилась Северная война со Швецией? А) в 1709. Б) в 1721. В) в 1714.	4
7.	Когда проводится экстренная йодная профилактика? А) при химической аварии. Б) при радиационной аварии. В) при аварии на АЭС.	4
8.	 Какой вид оружия представлен на рисунке?	2

	<p>А) пистолет Макарова; Б) Пистолет-пулемет Шпагина; В) пистолет-пулемет Стечкина.</p>	
9.	<p>Какова продолжительность срочной военной службы в ВМФ РФ? А) 2года; Б) 1 год; В) если на корабле, то 2 года Г) если на подлодке, то 1 год.</p>	2
10.	<p>В каком случае нельзя проводить искусственное дыхание? А) при применении противником синильной кислоты; Б) при применении противником зарина; В) при применении противником фосгена.</p>	4
11.	<p>Где в казарме хранятся индивидуальные, закрепленные за военнослужащими, противогазы? А) в комнатах для хранения оружия в пирамидах с оружием; Б) в спальном помещении на специальных стеллажах; В) в вещевых мешках; Г) в казарме в удобном для пользования месте.</p>	2
12.	<p>Какой полководец является полным кавалером Императорского ордена святого великомученика и Победоносца Георгия? А) Дибич Иван Иванович; Б) Александр Суворов Васильевич; В) Григорий Потемкин; Г) Барклай де Толли Михаил Богданович;</p>	4
13.	<p>Как увековечивали кавалеров Императорского ордена Св. великомученика и Победоносца Георгия? А) устанавливали на родине бронзовый бюст; Б) заносили фамилию на стену в Большом зале Кремля; В) устанавливали табличку с фамилией в Храме Христа Спасителя</p>	4
14.	<p>Назвать в каком положении оружие у военнослужащего на рисунке 2-й справа? А) в положении «на ремень» Б) в положении «на грудь» В) в положении «на перевес»</p> 	4
15.	<p>Допускается ли таким огнетушителем тушить электрические светильники?</p>  <p>А) да. Б) нет. В) разрешается на безопасном расстоянии.</p>	2
16.	<p>Почему запас продуктов в убежище рассчитан на 2 суток? А) потому что люди возьмут продукты с собой. Б) через 2 суток уровень радиации упадет в 100 раз и убежище можно покинуть. В) работа аварийного источника энергии (дизельной электростанции) рассчитана на 2 суток.</p>	6

17.		2
18.	<p>В каком звании военнослужащий, имеющий такие знаки различия?</p> <p>А) капитан 2 ранга; Б) капитан 1 ранга; В) старший лейтенант.</p>	2
19.	<p>Кому подчиняется часовой?</p> <p>А) командиру взвода; Б) старшине и командиру роты в порядке поддержания внутреннего порядка; В) начальнику караула, помощнику начальника караула и своему разводящему; Г) командиру полка</p>	2
19.	<p>Что обозначает знак в ЧС?  6.5.80</p> <p>А. Ураган, возможная дата; Б. Смерч, возможная дата; В. Лавины, дата прохождения</p>	2
20.	<p>Из какого расчета оборудуются умывальники и ножные ванны в казарме?</p> <p>А) один умывальник на 3-4 чел и одна ножная ванна на казарму (100 чел.); Б) один умывальник на 5-7 чел и 2 ножных ванны на казарму; В) один умывальник на 10-12 чел и 4 ножных ванны на казарму;</p>	2
ИТОГО:		60

Матрица ответов на тестовые задания

Номер теста	Верный ответ	Номер теста	Верный ответ	Номер теста	Верный ответ
1		8		15	
2		9		16	
3		10		17	
4		11		18	
5		12		19	
6		13		20	
7		14		-	

Теоретические задания

Задание 1. Какие средства защиты органов дыхания представлены на рисунках и для чего они предназначены? (максимальная оценка – 20 баллов)?




Рис.1



Рис.2

Ответ:

Задание 2. Объясните последовательность проезда перекрестка, если автомобилю, в котором находитесь Вы, надо повернуть налево (максимальная оценка – 20 баллов)?



Ответ:

Задание 3. Вписать в таблицу название знаков ЧС (максимальная оценка – 20 баллов)?

Ответ:

Задание 4. Впишите справа воинское звание (максимальная оценка – 10 баллов).

Ответ:

Ответ:

Задание 5. Приведите примеры отравляющих веществ (ОВ) в соответствии с принятой классификацией (максимальная оценка – 20 баллов)?

Ответ:

№ п/п	Тип ОВ	Название ОВ	№ п/п	Тип ОВ	Название ОВ
ОВ, смертельно выводящие из строя			ОВ, временно выводящие из строя		
1.	ОВ нервно-Паралитического действия		5.	ОВ психо-химического действия	
2.	ОВ общеядовитого действия		6.	ОВ раздражающего действия	
3.	ОВ удушающего действия				
4.	ОВ кожно-нарывного действия				