

ТЕОРЕТИЧЕСКИЙ ТУР

(средняя возрастная группа 9 класс)

Код/шифр участника			

Уважаемый участник олимпиады!

Вам предстоит выполнить теоретические (модуль 1) и тестовые задания (модуль 2).

Время выполнения заданий теоретического тура муниципального этапа 90 минут.

Выполнение теоретических заданий модуля 1 целесообразно организовать следующим образом:

не спеша, внимательно прочитайте задание и определите, наиболее верный и полный ответ;

отвечая на теоретический вопрос, обдумайте и сформулируйте конкретный ответ только на поставленный вопрос;

если Вы отвечаете на задание, связанное с заполнением таблицы или схемы, не старайтесь детализировать информацию, вписывайте только те сведения или данные, которые указаны в вопросе;

особое внимание обратите на задания, в выполнении которых требуется выразить Ваше мнение с учетом анализа ситуации или поставленной проблемы. Внимательно и вдумчиво определите смысл вопроса и логику ответа (последовательность и точность изложения). Отвечая на вопрос, предлагайте свой вариант решения проблемы, при этом ответ должен быть кратким, но содержать необходимую информацию;

после выполнения всех предложенных заданий еще раз удостоверьтесь в правильности выбранных Вами ответов и решений.

Выполнение заданий модуля 2 целесообразно организовать следующим образом:

не спеша, внимательно прочитайте тестовое задание;

определите, какой из предложенных вариантов ответа (в случае их наличия) наиболее верный и полный;

напишите ответ: букву, соответствующую выбранному Вами ответу (на задания с выбором ответа из предложенных);

продолжайте, таким образом, работу до завершения выполнения заданий;

после выполнения всех предложенных заданий еще раз удостоверьтесь в правильности ваших ответов;

если потребуется корректировка выбранного Вами варианта ответа, то неправильный вариант ответа зачеркните крестиком и рядом напишите новый.

Предупреждаем Вас, что:

при оценке заданий модуля 2, где необходимо определить один правильный ответ, 0 баллов выставляется за неверный ответ и в случае, если участником отмечены несколько ответов (в том числе правильный), или все ответы;

при оценке заданий модуля 2, где необходимо определить все правильные ответы, 0 баллов выставляется, если участником отмечены неверные ответы, большее количество ответов, чем предусмотрено в задании (в том числе правильные ответы) или все ответы.

Задание теоретического тура считается выполненным, если Вы вовремя сдаете его членам жюри.

Максимальная оценка – 150 баллов.

Желаем успеха!

МОДУЛЬ 1

ЗАДАНИЕ 1. Общество сталкивается со многими видами преступлений и антиобщественной деятельности, совершаемыми несовершеннолетними. Назовите их и запишите ответы в таблицу.

Вид преступления или антиобщественной деятельности	Особенности преступления или антиобщественной деятельности (в соответствии с УК РФ)
	Открытое хищение чужого имущества
	Хищение чужого имущества или приобретение права на чужое имущество путем обмана или злоупотребления доверием
	Тайное хищение чужого имущества
	Грубое нарушение общественного порядка, выражающее явное неуважение к обществу, совершенное с применением оружия или предметов, используемых в качестве оружия, по мотивам политической, идеологической, расовой или религиозной ненависти и вражды
	Осквернение зданий и иных сооружений, порча имущества на общественном транспорте или в иных общественных местах

Подписи членов предметного
жюри:

Оценочные баллы: максимальный

10 б.

фактический

ЗАДАНИЕ 2. Расшифруйте аббревиатуры:

Аббревиатура	Расшифровка аббревиатуры
АХОВ	
ВОО	
ГО	

МЭД	
ОКСИОН	
ПСС	
РОО	
СИЗ	
СЭП	
ЦУКС	

Подписи членов предметного
жюри:

Оценочные баллы: максимальный

10 б.






фактический

ЗАДАНИЕ 3. Сигнальные цвета и знаки безопасности применяются: для привлечения внимания людей, находящихся в общественных местах, к опасности; для предостережения; для сообщения о возможном исходе в случае пренебрежения опасностью; для предписания или требования определённых действий; для сообщения необходимой информации.

Определите сигнальный цвет и смысловое значение приведённых знаков безопасности.

Смысловые значения знаков: «Для доступа вскрыть здесь», «Выход здесь», «Питьевая вода», «Место приёма пищи», «Медицинский кабинет», «Пожарный водосточник», «Аптечка первой помощи», «Пожарный гидрант», «Общий предписывающий знак», «Внимание. Опасность».

Сигнальные цвета: зелёный, жёлтый, синий, красный, чёрный, белый.











Подписи членов предметного
жюри:

Оценочные баллы: максимальный

20 б.

фактический

ЗАДАНИЕ 4. Укажите название дорожных знаков, и к какой группе они относятся.

1.  2.  3.  4.  5. 
6.  7.  8.  9.  10. 

№	Название знака	Группа
1		
2		
3		

4		
5		
6		
7		
8		
9		
10		

Подписи членов предметного
жюри:

Оценочные баллы: максимальный

20 б.

фактический

ЗАДАНИЕ 5.

5.1. Прочитайте текст о правилах выполнения сердечно-лёгочной реанимации. Вставьте пропущенные числовые значения.

«Давление руками на грудину пострадавшего при проведении сердечно-лёгочной реанимации должно выполняться с частотой: от _____ (1) до _____ (2) раз в минуту, на глубину: от _____ (3) см до _____ (4) см.

При проведении искусственного дыхания необходимо соблюдать ряд правил.

Оказывающий первую помощь делает нормальный вдох и плотно охватывает своими губами рот пострадавшего. Далее выполняет равномерный выдох в течение _____ (5) секунд(-ы). Два вдоха искусственного дыхания должны занять не более _____ (6) секунд(-ы).

При проведении реанимации двумя «спасателями» один выполняет давления руками на грудину пострадавшего, второй – искусственное дыхание. Соотношение давлений на грудину пострадавшего и вдохов искусственного дыхания должно составлять _____ (7) : _____ (8) соответственно. Примерно каждые _____ (9) минуты

«спасатели» меняются местами: тот, кто выполнял давления руками на грудину пострадавшего, приступает к проведению искусственного дыхания и наоборот».

№ задания	Ответ
1	
2	
3	
4	
5	
6	
7	
8	
9	

Подписи членов предметного
жюри:

Оценочные баллы: максимальный

18 б.

фактический

5.2. При проведении сердечно-лёгочной реанимации у детей надавливания руками на грудину пострадавшего выполняются на глубину, равную:

- одной второй переднезаднего размера грудной клетки;
- одной трети переднезаднего размера грудной клетки;
- одной четвёртой переднезаднего размера грудной клетки;
- одной пятой переднезаднего размера грудной клетки.

Ответ: _____

Подписи членов предметного
жюри:

Оценочные баллы: максимальный

2 б.

фактический

ЗАДАНИЕ 6. В задании представлено несколько утверждений. Если вы согласны с утверждением, то напишите – «Да», если не согласны – «Нет» и укажите правильный ответ

№	Утверждение	Ответ
Пример	<i>Курение сокращает продолжительность жизни курильщика в среднем на 5 лет</i>	<i>Нет, жизнь сокращается в среднем на 8 лет</i>
1	Степень влияния наследственности на здоровье может составлять до 20%	

2	По энергетической ценности суточного рациона завтрак должен составлять – 35%, обед – 45%, ужин и последний прием пищи – 20 %	
3	Вредная привычка – закрепленный способ поведения и агрессивный по отношению к самому человеку или окружающим людям	
4	Здоровый образ жизни – это правильное чередование периодов работы и отдыха, их продолжительность, рациональное распределение времени в течение одного дня	
5	Духовное здоровье – это способность человека адаптироваться в природной, техногенной и социальной средах обитания	

Подписи членов предметного
жюри:



Оценочные баллы: максимальный

10 б.

фактический

МОДУЛЬ 2

Тестовые задания теоретического тура муниципального этапа Олимпиады 9 класс

№ п/п	Тестовые задания	Максимальный балл	Количество баллов
<i>Отметьте один правильный ответ</i>			
1	<p>Потерпевшие кораблекрушение плывут на спасательной шлюпке к берегу. С берега им подают звёздный зелёный сигнал. Определите значение данного сигнала:</p> <p>а) «высадка здесь чрезвычайно опасна»; б) «благоприятное для высадки место находится в указываемом направлении»; в) «здесь лучшее место для высадки»; г) «вас видно – помощь будет оказана»</p> 	2 балла	
2	<p>Передвигаясь по засушливой местности, вы очень хотите пить. У вас полная фляга воды. Как правильно утолять жажду?</p> <p>а) пить только при сильной жажде, промочить рот и выпить один-два глотка; б) пить часто, но по одному глотку; в) утолить жажду, выпив половину имеющейся вода в фляге; г) пить по одной чашке в день</p>	2 балла	
3	<p>Изображенный дорожный знак говорит о:</p> <p>а) пересечении с полосой для велосипедистов; б) запрете движения на механических транспортных средствах; в) пересечении с велосипедной дорожкой; г) запрещении движения на велосипедах</p> 	2 балла	
4	<p>Укажите международный радиотелефонный сигнал бедствия:</p> <p>а) Juneday; б) Mayday; в) Dangerday; г) Dadday</p>	2 балла	
5	<p>Какое цветовое обозначение соответствует высокому уровню террористической опасности?</p> <p>а) жёлтый; б) красный; в) оранжевый; г) синий</p>	2 балла	
6	<p>По данным Всемирной организации здравоохранения (ВОЗ), главным индикатором состояния здоровья населения является;</p> <p>а) ведение здорового образа жизни; б) продолжительность жизни; в) отказ от вредных привычек</p>	2 балла	

7	Флаг какого цвета, установленного на российских пляжах, сигнализирует об опасности купания? а) красного; б) жёлтого; в) красного, разделённого белой полосой; г) жёлто-красного	2 балла	
8	Водоём, в котором плавают утки, гуси, непригоден для купания из-за возможности заражения: а) ботулизмом; б) столбняком; в) церкариозом; г) эхинококкозом	2 балла	
9	Верны ли следующие суждения? При лекарственном отравлении нельзя вызывать рвоту для промывания желудка, если: А. нет признаков отравления; Б. пострадавший находится без сознания. а) верны оба суждения; б) оба суждения неверны; в) верно только А; г) верно только Б	2 балла	
10	Какая высота каблука является оптимальной с гигиенической точки зрения для подростка и взрослого человека? а) 0,5-1 см; б) 1-1,5 см; в) 2-4 см; г) 4,5-6 см	2 балла	
<i>Определите два правильных ответа</i>			
11	В жаркую пору для сохранения хорошего самочувствия стоит отказаться от употребления: а) сладких газированных напитков; б) жареного мяса; в) морепродуктов; г) чая	4 балла	
12	Определите, что рекомендуется выбрасывать в желтый мусорный контейнер: а) бумага; б) пищевые отходы; в) стекло; г) средства личной гигиены; д) не перерабатываемые ёмкости из-под продуктов	4 балла	
13	Международный день действий против ядерных испытаний отмечают: а) раз в 2 года; б) ежегодно; в) 1 июня; г) 29 августа; д) 11 сентября	4 балла	
14	Источниками природно-техногенной ЧС могут являться: а) аварии; б) катастрофы;	4 балла	

	<p>в) космические опасности; г) природные пожары; д) опасные техногенные происшествия</p>		
15	<p>Какие продукты содержат сложные (медленные) углеводы? а) крупы; б) макароны твердых сортов; в) сахар; г) сдоба, выпечка; д) мёд</p>	4 балла	
16	<p>Какие действия должен выполнить оказывающий первую помощь для определения наличия (отсутствия) сознания у пострадавшего? а) осторожно встряхнуть за плечи; б) аккуратно похлопать по щекам пострадавшего; в) растереть мочки ушей пострадавшего; г) обратиться к пострадавшему с вопросом: «Вы в порядке?»; д) похлопать в ладоши перед ухом пострадавшего</p>	4 балла	
17	<p>Причины техногенных аварий и катастроф обусловлены... а) ростом сложности производства с применением, как новых технологий, требующих высоких концентраций энергии, так и опасных для жизни человека веществ, которые оказывают ощутимое воздействие на окружающую природную среду; б) снижением надежности производственного оборудования, транспортных средств, несовершенством и устарелостью производственных технологий; в) повышением надежности производственного оборудования, транспортных средств, совершенством производственных технологий; г) человеческим фактором, выражающимся в соблюдении технологий производства, трудовой дисциплины, высоком уровне профессиональной подготовки</p>	4 балла	
18	<p>Запрещается выгуливать собак и появляться с ними в общественных местах и в транспорте: а) лицам в нетрезвом состоянии; б) детям младше 14 лет; в) лицам с ограниченной двигательной активностью; г) детям младше 15 лет; д) лицам с тяжёлыми физическими нарушениями</p>	4 балла	
19	<p>На каких принципах основывается противодействие терроризму в РФ? а) приоритет мер предупреждения терроризма; б) приоритет мер, направленных на минимизацию последствий терроризма; в) приоритет мер, направленных на ликвидацию последствий терроризма; г) приоритет негласных методов противодействия терроризму;</p>	4 балла	

	д) сочетание гласных и негласных методов противодействия терроризму		
20	Какие признаки являются общими для всех механических закрытых травм? а) отёк; б) кровоизлияние; в) костный хруст; г) укорочение конечности; д) деформация конечности	4 балла	

Подписи членов предметного
жюри:

Оценочные баллы: максимальный

60 б.

фактический