

Культура дома и декоративно-прикладное творчество

7-8 класс

Время выполнения — 45 минут

1. Допишите в схеме недостающую информацию



2. Сладким яблоко делают фруктоза, глюкоза и сахараза, кислым — яблочная и лимонная кислота. Каких веществ больше в незпелом яблоке?

Ответ: _____

3. Вставьте пропущенные слова

_____ теста зависит от вида изделия. Для блинов, блинчиков, вафель, бисквита замешивают жидкое тесто; булочки, пироги, рулеты выпекают из более густого теста. Для пельменей, лапши тесто готовят _____.

4. Заполните пропуски в тексте наименованиями витаминов и минеральных веществ.
Витамин _____ повышает сопротивление организма инфекционным заболеваниям.
Необходим для нормальной работы щитовидной железы _____
Недостаток витамина _____ ведет к развитию рахита.
Витамин _____ улучшает зрение и ускоряет рост.
Играет роль в кроветворении, в работе сердечно-сосудистой системы _____

5. Шерстяные волокна получают от:

а) коз, б) верблюдов, в) коров.

6. К отрицательным свойствам шелковых тканей относятся:

а) воздухопроницаемость,
б) осыпаемость,
в) растяжимость.

7. Овечья шерсть называется:

а) мохер, б) руно, в) сукно.

8. Установите технологическую последовательность обработки юбки:

а) стачать переднее и заднее полотнища юбки, оставив незастроченным 10 см от верхнего края для застежки молнии,
б) обработать пояс,
в) втачать застёжку молнию,
г) пришить пуговицу,
д) наметить и выполнить обмёточную петлю,
е) притачать пояс к юбке,
ж) окончательная отделка и влажно-тепловая обработка,
з) обработать низ юбки.

Ответ _____

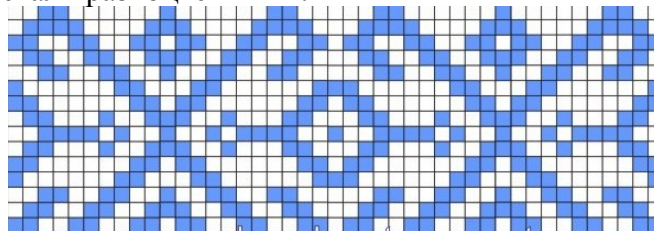
9. Увеличение номера иглы означает, что сама игла становится:
а) толще, б) тоньше.

10. Перевод выкройки на ткань можно осуществить при помощи:
а) счётных стежков,
б) резца,
в) копировальных стежков,
г) портновского мела,
д) косых стежков.

11. Какая ткань предназначена для вышивки счетными швами?

Ответ: _____

12. На рисунке изображена схема для вышивки, выполненная на рабочем листе программы MS Excel. Какой инструмент программы необходимо использовать для того чтобы ячейки стали разноцветными?



13. Для того чтобы вещи служили долго необходимо соблюдать рекомендации производителя, которые в виде значков указаны на ярлыках. По описанию стандартизированного значка нарисуйте его и определите рекомендацию по правилам глажения. Описание: внутри изображения утюга находятся четыре точки.

Ответ: _____

14. На рисунке стрелкой укажите маховик



15. Устройство швейной машины предназначенное для изменения натяжения верхней нити называется _____

16. Механизм, который передвигает ткань на длину стежка называется:

а) транспортёр, б) рычаг, в) педаль.

17. История создания одного из популярных средств передвижения содержит следующий факт: дамы не могли кататься на нём как минимум по двум причинам: в длинной юбке очень неудобно и неприлично. В итоге для езды был придуман так называемый дамский рациональный костюм с шароварами. Благодаря какому средству передвижения женщины стали носить брюки?

Ответ: _____

18. Определите какой виде рукоделия описан в тексте.

Предполагают, что в Европу этот вид рукоделия пришел в VIII-IX веке с Востока. Его техника постоянно изменялась и усложнялась. Каждый человек практически ежедневно проделывает основной прием этого рукоделия со шнурками, галстуками, шарфами, бантами. Изделия, созданные в этой технике разнообразны: сумочки, кошелки, пояса, настенные панно, скатерти, занавеси и др.

19. В сказке про сестрицу Аленушку и братца Иванушку рассказано о важности чистой питьевой воды. Почему люди в современном мире приобретают системы очистки воды (фильтры-кувшины, фильтры «под мойку»)? Напишите не менее трех аргументов.

20. На кухне необходимо рационально организовать хранение предметов. На рисунке 1 схематично изображены полки нижнего шкафа и полки настенного шкафа. Отметьте на рисунке 1 зоны хранения предметов в кухонных шкафах, выполнив штриховку в соответствии с условными обозначениями рисунка 2.

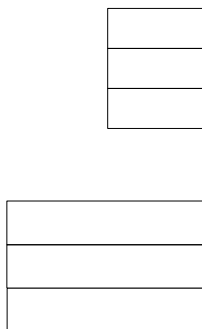


Рисунок 1

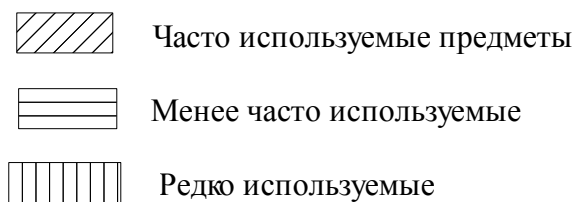


Рисунок 2