

Культура дома и декоративно-прикладное творчество

9 класс

Время выполнения — 45 минут

1. Вставьте пропущенное слово.

Место надкуса яблока быстро становится ржаво-коричневым. Причина не в окислении железа о котором часто говорят: это важнейшая составляющая воздуха _____ проникает в разрушенные ткани яблока, и происходит окисление компонентов до веществ, которые реагируют с аминокислотами и белками, образуя коричневые продукты.

2. Припускание — разновидность варки, сохраняющая максимально питательные вещества. Овощи припускают в воде или бульоне, объём которых составляет в среднем 20% от общей массы овощей. Какое количество воды необходимо взять, чтобы припустить 0,5 кг. очищенного картофеля для гарнира «Овощи в молочном соусе»?

3. Впишите недостающие термины в пустые ячейки таблицы

Виды кулинарной обработки овощей

Механическая	Тепловая
сортировка	варка
	жарение
очистка	запекание
	тушение
нарезка	припускание

4. Какие опасные и вредные факторы могут воздействовать на человека при проведении кулинарных работ. Укажите не менее трех факторов.

Ответ _____

5. Лапка швейной машины предназначена для:

- а) прижатия материала к поверхности,
- б) передвижения материала,
- в) прокола материала.

6. Стрелкой на рисунке укажите ручку выбора строчки.






7. Отметьте правильные утверждения:
- а) перед ремонтом электроприбора обязательно выньте вилку из розетки;
 - б) сетевой шнур сначала подключают к швейной машине, а затем к сети;
 - в) при отключении швейной машины сетевой шнур вынимают из машины, потом из розетки.
8. Для того чтобы вещи служили долго необходимо соблюдать рекомендации производителя, которые в виде значков указаны на ярлыках. По описанию стандартизированного значка нарисуйте его и определите рекомендацию по правилам сушки. Описание: знак имеет форму квадрата, в который вписана окружность.
Ответ _____
9. По описанию определите вид планировки кухни.
Планировка наиболее удобна в кухнях с окном в продольной стене. Она позволяет разместить оборудование по непрерывной линии вдоль трех стен кухни.
10. При выборе светильника следует руководствоваться:
- а) площадью окон,
 - б) ориентацией окон по сторонам света,
 - в) настроением,
 - г) расходом электроэнергии.
11. Какой признак положен в основу деления одежды на плечевую и поясную?
Ответ _____
12. Напишите единицы измерения мерок для построения выкройки изделия.
Ответ _____
13. При обработке обтачкой горловины с вырезом каре или с V-образным вырезом применяется приём, который позволяет легче вывернуть обтачку в тех местах где углы. Опишите этот приём.
Ответ _____

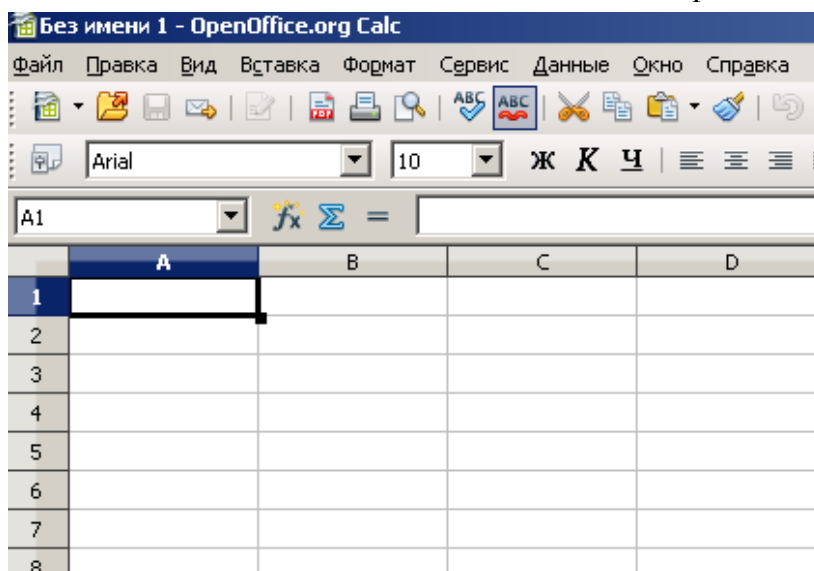
14. В процессе моделирования прямой юбки вытачки могут быть преобразованы в жабо:
- а) да,
 - б) нет.
15. Для чего предназначен оверлок?

16. Напишите два отличительных признака фрака.
Ответ _____

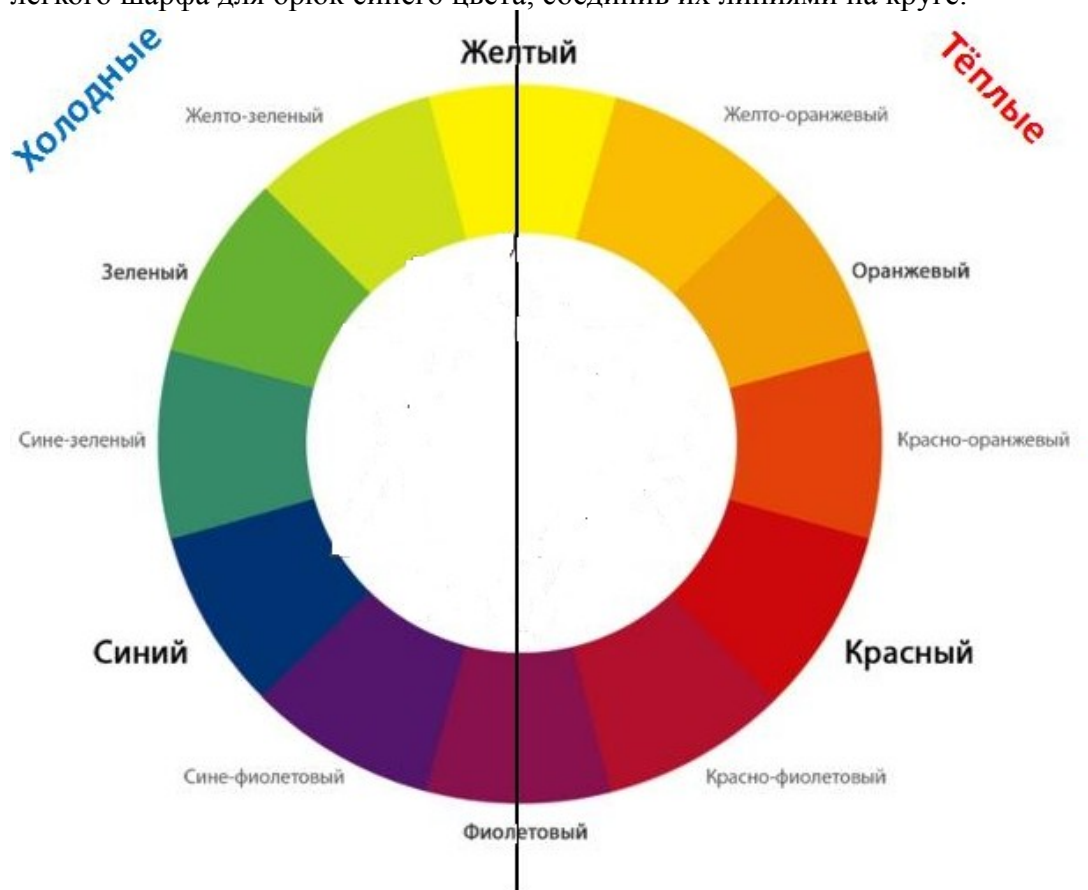
17. Определите соответствие типа переплетения и его графического изображения.

Типы переплетения	Изображение
а) полотняное	1 
б) саржевое	2 
в) сатиновое	3 

18. Для создания узоров для вышивки крестиком можно использовать электронные таблицы. Рабочий лист таких программ поделен на ячейки. Какие параметры и как необходимо изменить чтобы все ячейки стали квадратными?



19. Для представленного на рисунке цветового круга гармоничными являются сочетания трех цветов, которые связаны друг с другом через равносторонние или равнобедренные треугольники. Определите гармоничное сочетание цветов блузки и легкого шарфа для брюк синего цвета, соединив их линиями на круге.



20. Прочитайте определение экологии. Объясните, как вы понимаете выражение экологически чистые продукты.
Экология — наука о взаимодействии живых организмов и их сообществ между собой и со средой, в которой они обитают.
Ответ
