



ВСЕРОССИЙСКАЯ ОЛИМПИАДА ШКОЛЬНИКОВ 2016/2017 гг.  
МУНИЦИПАЛЬНЫЙ ЭТАП  
ТЕХНОЛОГИЯ  
КУЛЬТУРА ДОМА И ДЕКОРАТИВНО-ПРИКЛАДНОЕ ТВОРЧЕСТВО  
8 - 9 КЛАСС

Шифр участника \_\_\_\_\_

Критерии оценки вопросов с 1 по 21 – 1 балл,  
творческое задание (22 вопрос) – 11 баллов.

**Выберите правильный ответ**

**1. Овощи при огневой сушке изменяют**

- а) объем, не изменяют цвета;
- б) объем и значительно изменяют свои свойства;
- в) только цвет;
- г) запах.

**2. Какая каша получится, если на 100 г манной крупы взяли 570 мл жидкости?**

- а) вязкая
- б) жидкая
- в) рассыпчатая
- г) густая

**3. Содержит ли травяной чай кофеин?**

- а) да
- б) нет

**4. Какой специальный ингредиент добавляется при выпечке козуль?**

- а) сахар
- б) жженка
- в) имбирь
- г) ванилин

**5. Как называется плотный хрящ, заменяющий рыбам осетровых пород позвоночник?**

- а) кляр;
- б) визига;
- в) жилик;
- г) льезон.

**6. Какие условия необходимо соблюсти, чтобы хорошо отутюжить льняной костюм?**

Ответ: \_\_\_\_\_

**7. Что такое аппретирование?**

Ответ:  
\_\_\_\_\_  
\_\_\_\_\_

**8. Какая операция выполняется на машине, представленной на рисунке?**

Ответ: \_\_\_\_\_





ВСЕРОССИЙСКАЯ ОЛИМПИАДА ШКОЛЬНИКОВ 2016/2017 гг.  
МУНИЦИПАЛЬНЫЙ ЭТАП  
ТЕХНОЛОГИЯ  
КУЛЬТУРА ДОМА И ДЕКОРАТИВНО-ПРИКЛАДНОЕ ТВОРЧЕСТВО  
8 - 9 КЛАСС

Шифр участника \_\_\_\_\_

**9. В процессе заправки нижней нити участвуют детали:**

- |                            |                          |
|----------------------------|--------------------------|
| а) регулятор длины стежка; | е) нитенаправитель;      |
| б) шпульный колпачек;      | ж) шпулька;              |
| в) зубчатая рейка;         | з) челночное устройство; |
| г) прижимная лапка;        | и) игольная пластина.    |
| д) иглодержатель;          |                          |

**10. Установите соответствие название термина его определению**

а) Ластовица	1. Деталь швейного изделия в виде полоски материала для оформления стяжки его в различных местах
б) Пластрон	2. Деталь швейного изделия в виде полоски материала, прикрепляемая к нижней части брюк для удерживания их в натянутом положении
в) Баска	3. Деталь швейного изделия для обработки потайной застежки передней части половины брюк, предназначенная для петель, молнии, кнопок, текстильной застежки
г) Кулиска	4. Деталь или узел верхней части переда, спинки, рукава, а также юбки и брюк
д) Штрипка	5. Туго накрахмаленная нагрудная часть мужской верхней сорочки, надеваемой под открытый жилет при фраке или смокинге
е) Гульфик	6. Вставка в одежде, например, в изделиях с цельновыкроенными рукавами или рукавами реглан; проектируется, главным образом, для удобства движения рук
ж) Кокетка	7. Деталь швейного изделия в виде расклешенной полосы материала для декоративного оформления изделия по линии талии, пришиваемая или съёмная

Ответ: а – «\_\_\_», б – «\_\_\_», в – «\_\_\_», г – «\_\_\_», д – «\_\_\_», е – «\_\_\_», ж – «\_\_\_»

**11. Запишите условные обозначения следующих размерных признаков:**

- |                             |                                   |
|-----------------------------|-----------------------------------|
| полуобхват бёдер – «_____», | ширина плечевого ската – «_____», |
| ширина спины – «_____»,     | полуобхват шеи – «_____»,         |
| длина рукава – «_____»,     | обхват плеча – «_____».           |

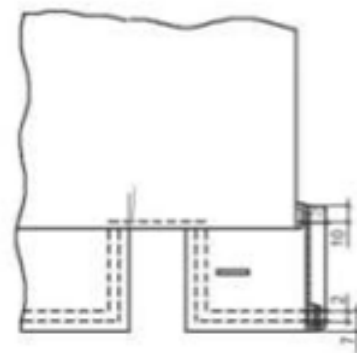


ВСЕРОССИЙСКАЯ ОЛИМПИАДА ШКОЛЬНИКОВ 2016/2017 гг.  
МУНИЦИПАЛЬНЫЙ ЭТАП  
ТЕХНОЛОГИЯ  
КУЛЬТУРА ДОМА И ДЕКОРАТИВНО-ПРИКЛАДНОЕ ТВОРЧЕСТВО  
8 - 9 КЛАСС

Шифр участника \_\_\_\_\_

**12. Определите по рисунку каким способом обработан низ рукава:**

- а) притачной манжетой;
- б) швом в подгибку с закрытым срезом;
- в) обтачкой;
- г) окантовочным швом;
- д) обтачным швом в кант.



**13. Машинный шов, выполняемый с дополнительной полоской ткани, называется:**

- а) настрочной;
- б) окантовочный;
- в) вподгибку;
- г) обтачной.

**14. Найдите соответствие между деталью или элементом одежды и его описанием**

а) Боá	1. Верхняя часть повседневной, парадной и полевой формы одежды, выполняемой особым покроем для военнослужащих
б) Бижутэрия	2. Полоска ткани, завязанная вокруг шеи
в) Вéер	3. Военный головной убор цилиндрической формы с плоским верхом, с козырьком, часто с украшением в виде султана
г) Кíтель	4. Наплечные знаки различия воинского звания на военной форме
д) Гáлстук	5. Украшения из недорогих материалов
е) Кíвер	6. Длинный узкий шарф из меха или перьев
ж) Эполéты	7. Небольшое, как правило, складное опахало для создания потока воздуха, овевающего лицо, шею и плечи.

Ответ: а – « \_\_\_ », б – « \_\_\_ », в – « \_\_\_ », г – « \_\_\_ », д – « \_\_\_ », е – « \_\_\_ », ж – « \_\_\_ »



ВСЕРОССИЙСКАЯ ОЛИМПИАДА ШКОЛЬНИКОВ 2016/2017 гг.  
МУНИЦИПАЛЬНЫЙ ЭТАП  
ТЕХНОЛОГИЯ  
КУЛЬТУРА ДОМА И ДЕКОРАТИВНО-ПРИКЛАДНОЕ ТВОРЧЕСТВО  
8 - 9 КЛАСС

Шифр участника \_\_\_\_\_

**15. Установите соответствие украшения его названию**

а		1. Камень
б		2. Браслет
в		3. Колье
г		4. Бусы
д		5. Бархотка



ВСЕРОССИЙСКАЯ ОЛИМПИАДА ШКОЛЬНИКОВ 2016/2017 гг.  
МУНИЦИПАЛЬНЫЙ ЭТАП  
ТЕХНОЛОГИЯ  
КУЛЬТУРА ДОМА И ДЕКОРАТИВНО-ПРИКЛАДНОЕ ТВОРЧЕСТВО  
8 - 9 КЛАСС

Шифр участника \_\_\_\_\_

е		б. Брошь
---	---	----------

Ответ: а – «\_\_\_», б – «\_\_\_», в – «\_\_\_», г – «\_\_\_», д – «\_\_\_», е – «\_\_\_»

**16. Как нужно ухаживать за домашней библиотекой**

- а) чистить пылесосом  
б) протирать влажной тряпочкой  
в) протирать сухой тряпочкой  
г) ничего не нужно делать

**17. Помоги маме, выбери бельё для стирки в стиральной машине при  $t=40^{\circ}\text{C}$  (отметь нужное рядом с номером изделия)**

1	2	3
		
4	5	6
		



ВСЕРОССИЙСКАЯ ОЛИМПИАДА ШКОЛЬНИКОВ 2016/2017 гг.

МУНИЦИПАЛЬНЫЙ ЭТАП

ТЕХНОЛОГИЯ

КУЛЬТУРА ДОМА И ДЕКОРАТИВНО-ПРИКЛАДНОЕ ТВОРЧЕСТВО

8 - 9 КЛАСС

Шифр участника \_\_\_\_\_

**18. Что входит в потребительскую корзину?**

1. продукты
2. непродовольственные товары
3. услуги
4. изделия

**19. Семья выполняет ряд функций, основными из которых являются:**

1. репродуктивная, регулятивная
2. коммуникативная, рекреативная
3. новаторская, рекреативная
4. репродуктивная, инновационная

**20. Определите, что из перечисленного относится к доходам семьи:**

1. социальное страхование
2. продовольственные товары
3. налоги
4. государственные трансфертные платежи

**21. Какую функцию выполнили деньги, когда домашняя хозяйка, получив месячную заработную плату мужа 25 000 руб. и израсходовав 23 200 руб. отложила на то, чтобы в будущем приобрести посудомоечную машину. В этом случае 1800 руб., отложенные на покупку посудомоечной машины, выступили в роли:**

1. средства платежа
2. средства накопления сбережений
3. средства обмена
4. средства инвестиции

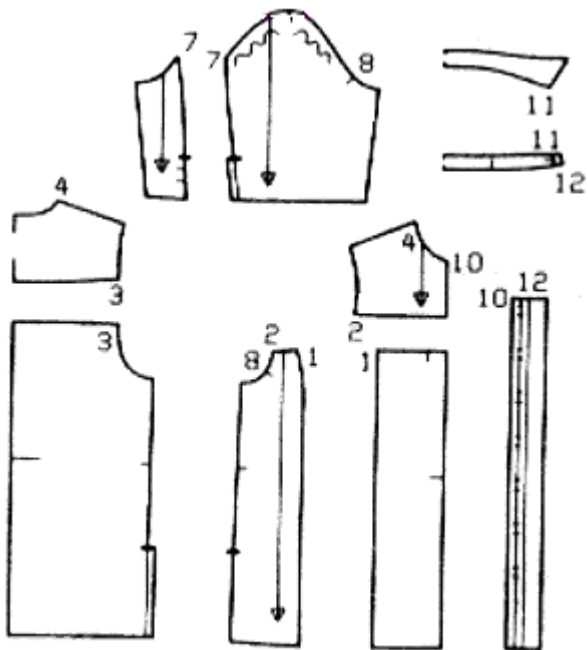
**22. Творческое задание.** Используя комплект выкроек, представьте внешний вид женской рубашки, зарисуйте эскиз изделия (вид спереди и сзади), опишите модельные особенности изделия:

- силуэт изделия - \_\_\_\_\_,
- длина изделия - \_\_\_\_\_,
- покрой рукава - \_\_\_\_\_,
- оформление горловины - \_\_\_\_\_,
- членение полочки - \_\_\_\_\_,
- членение спинки - \_\_\_\_\_.



ВСЕРОССИЙСКАЯ ОЛИМПИАДА ШКОЛЬНИКОВ 2016/2017 гг.  
МУНИЦИПАЛЬНЫЙ ЭТАП  
ТЕХНОЛОГИЯ  
КУЛЬТУРА ДОМА И ДЕКОРАТИВНО-ПРИКЛАДНОЕ ТВОРЧЕСТВО  
8 - 9 КЛАСС

Шифр участника \_\_\_\_\_



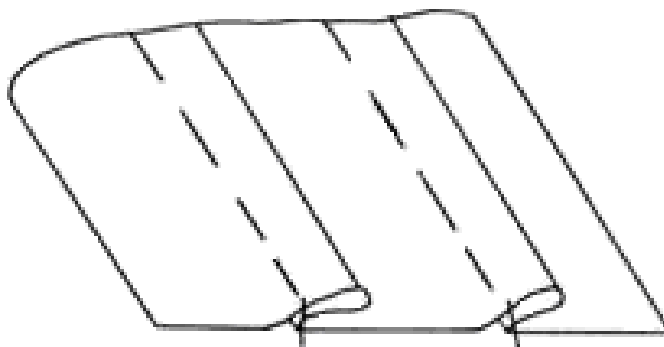
Эскиз



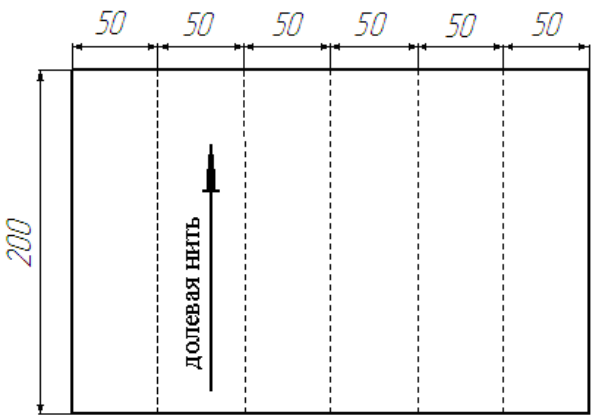
ВСЕРОССИЙСКАЯ ОЛИМПИАДА ШКОЛЬНИКОВ 2016/2017 гг.  
МУНИЦИПАЛЬНЫЙ ЭТАП  
ТЕХНОЛОГИЯ  
КУЛЬТУРА ДОМА И ДЕКОРАТИВНО-ПРИКЛАДНОЕ ТВОРЧЕСТВО  
8 - 9 КЛАСС

Шифр участника \_\_\_\_\_

**Практическое задание №1**  
**«Обработка отделочных застроченных складок»**



Необходимые материалы: х/б ткань размером 300\*300 мм, нитки в тон.

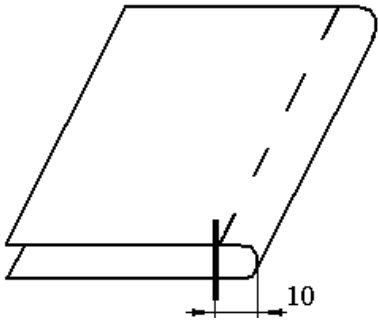
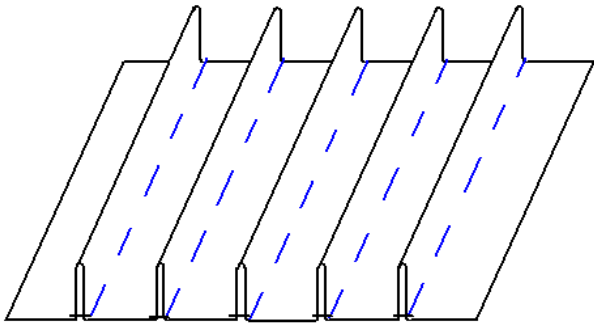
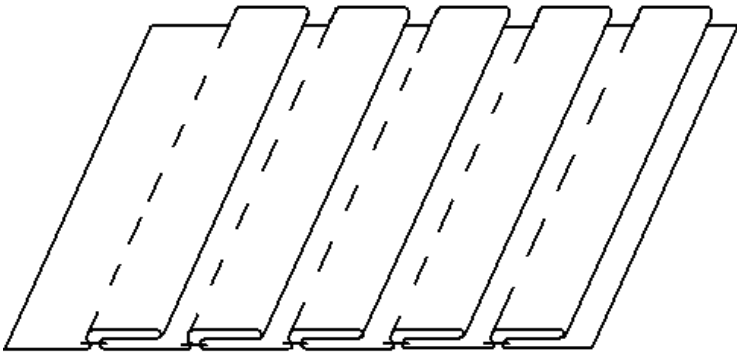
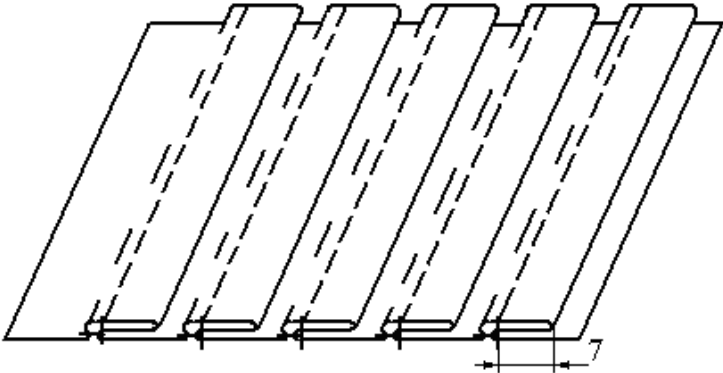
Описание операции	Графическое изображение
<p>1. Выкроить деталь размером 200*300, <b>строго (!)</b> соблюдая направление долевой нити. На изнаночной стороне наметить пять параллельных линий на расстоянии 50 мм друг от друга. По намеченным линиям проложить сметочные стежки.</p>	





ВСЕРОССИЙСКАЯ ОЛИМПИАДА ШКОЛЬНИКОВ 2016/2017 гг.  
МУНИЦИПАЛЬНЫЙ ЭТАП  
ТЕХНОЛОГИЯ  
КУЛЬТУРА ДОМА И ДЕКОРАТИВНО-ПРИКЛАДНОЕ ТВОРЧЕСТВО  
8 - 9 КЛАСС

Шифр участника \_\_\_\_\_

<p>2. Сложить деталь изнаночной стороной внутрь по проложенным сметочным стежкам (можно приутюжить), сметать складку на расстоянии 10 мм от сгиба.</p>	
<p>3. Таким же образом сметать еще 4 складки.</p>	
<p>4. Складки заложить в одну сторону, приутюжить.</p>	
<p>4. Проложить отделочные строчки по каждой складке на расстоянии 7 мм от сгибов. Удалить нитки наметывания. Выполнить окончательную ВТО образца.</p>	



ВСЕРОССИЙСКАЯ ОЛИМПИАДА ШКОЛЬНИКОВ 2016/2017 гг.  
МУНИЦИПАЛЬНЫЙ ЭТАП  
ТЕХНОЛОГИЯ  
КУЛЬТУРА ДОМА И ДЕКОРАТИВНО-ПРИКЛАДНОЕ ТВОРЧЕСТВО  
8 - 9 КЛАСС

Шифр участника \_\_\_\_\_

**Карта послеоперационного контроля**  
**«Обработка отделочных застроченных складок»**

№	Критерии оценки	Баллы max	Баллы факт
1	Правильно выбрано направление долевой нити	2	
2	Складки параллельны друг другу, и расстояние между ними $30 \pm 2$ мм	6	
3	Ширина складки $7 \pm 1$ мм	6	
4	Выполнение машинных закрепок (да/нет)	1	
5	Удаление строчек временного назначения	1	
6	Качество окончательной влажно-тепловой обработки (да/нет)	3	
7	Соблюдение безопасных приемов труда (да/нет)	1	
	Итого	20	



ВСЕРОССИЙСКАЯ ОЛИМПИАДА ШКОЛЬНИКОВ 2016/2017 гг.  
МУНИЦИПАЛЬНЫЙ ЭТАП  
ТЕХНОЛОГИЯ  
КУЛЬТУРА ДОМА И ДЕКОРАТИВНО-ПРИКЛАДНОЕ ТВОРЧЕСТВО  
8 - 9 КЛАСС

Шифр участника \_\_\_\_\_

**Практическое задание №2 «Моделирование плечевого изделия по эскизу и подготовка выкройки к раскрою»**

***Порядок выполнения работы***

1. На основу чертежа плечевого изделия нанесите линии фасона.
2. Выполните моделирование с помощью шаблона из цветной бумаги.
3. Вклейте лекала для раскладки на ткани на лист «Результаты моделирования».
4. Нанесите на лекала необходимые надписи для раскроя.

Эскиз	Описание модели
	Платье полуприлегающего силуэта длиной до колена. В среднем шве спинки застежка – «молния», небольшое прилегание за счет талиевых вытачек. На полочке нагрудная вытачка уходит в фигурные рельефы

**Карта послеоперационного контроля**

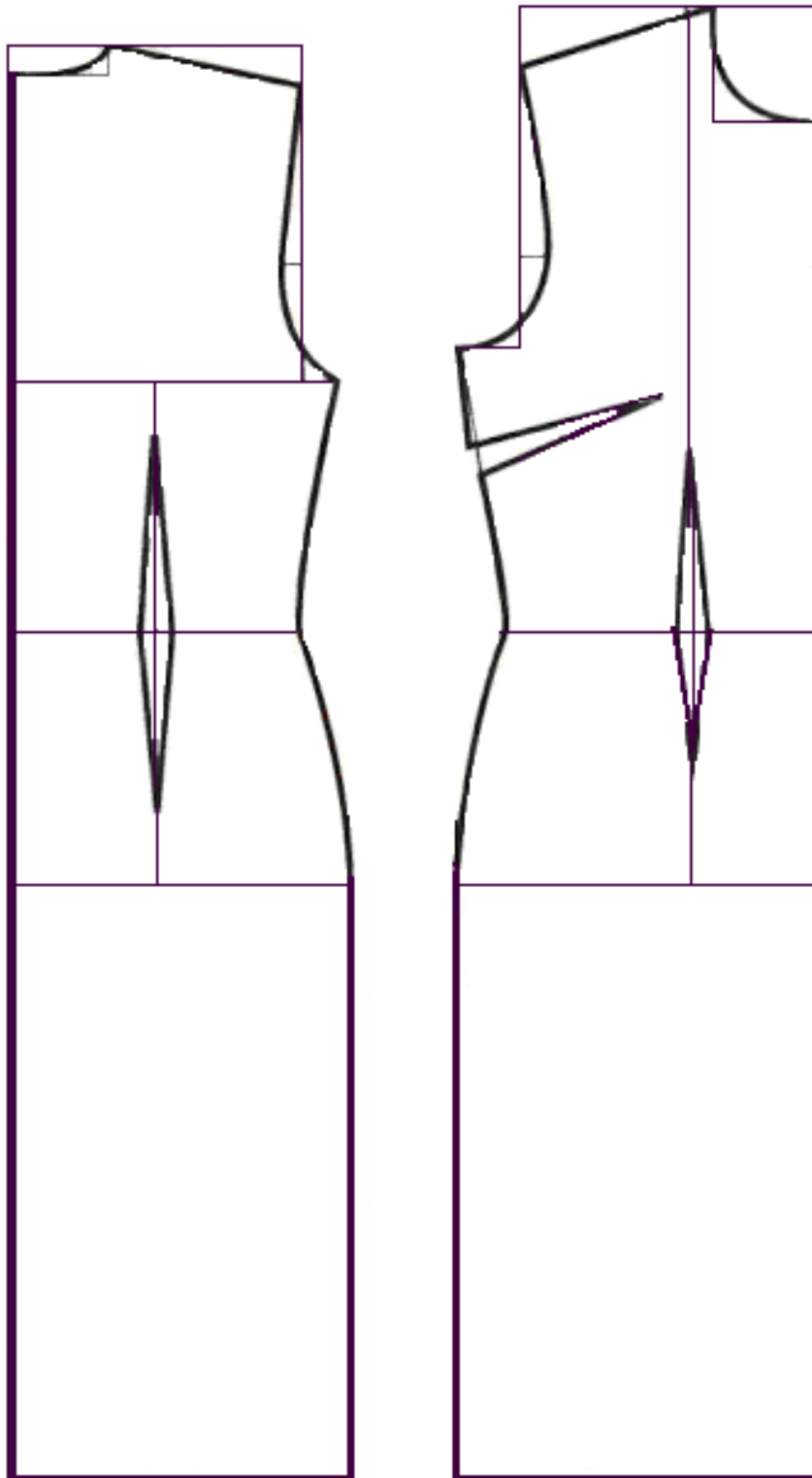
№	Критерии оценки	Баллы max	Баллы факт
1	Нанесена линия вертикального рельефа	3	
2	Нанесена наклонная линия	3	
3	Перенос нагрудной вытачки	3	
4	Указаны названия деталей	3	
5	Указаны долевые нити	2	
6	Указаны прибавки на шов	3	
7	Чистота выполнения задания	3	
	Итого	20	



ВСЕРОССИЙСКАЯ ОЛИМПИАДА ШКОЛЬНИКОВ 2016/2017 гг.  
МУНИЦИПАЛЬНЫЙ ЭТАП  
ТЕХНОЛОГИЯ  
КУЛЬТУРА ДОМА И ДЕКОРАТИВНО-ПРИКЛАДНОЕ ТВОРЧЕСТВО  
8 - 9 КЛАСС

Шифр участника \_\_\_\_\_

**Нанесение линий фасона**





ВСЕРОССИЙСКАЯ ОЛИМПИАДА ШКОЛЬНИКОВ 2016/2017 гг.  
МУНИЦИПАЛЬНЫЙ ЭТАП  
ТЕХНОЛОГИЯ  
КУЛЬТУРА ДОМА И ДЕКОРАТИВНО-ПРИКЛАДНОЕ ТВОРЧЕСТВО  
8 - 9 КЛАСС

Шифр участника \_\_\_\_\_

**Оценка проекта**

по номинации «Культура дома и декоративно-прикладное творчество»

Ф.И.

Критерии оценки проекта		Кол-во баллов	По факту
Пояснительная записка 14 баллов	Общее оформление	2	
	Качество исследования (актуальность; обоснование проблемы; формулировка темы, целей и задач проекта; сбор информации по проблеме; анализ прототипов; выбор оптимальной идеи; описание проектируемого материального объекта - логика обзора).	3	
	Оригинальность предложенных идей, новизна	3	
	Выбор технологии изготовления (оборудование и приспособления). Разработка технологического процесса (качество эскизов, схем, чертежей, тех. карт, обоснованность рисунков).	2	
	Экономическая и экологическая оценка разрабатываемого и готового изделия.	2	
	Соответствие содержания выводов содержанию цели и задач, конкретность выводов, способность анализировать результаты. исследования, уровень обобщения;	2	
Изделие, продукт 20 баллов	Оригинальность дизайнерского решения (согласованность конструкции, цвета, композиции, формы; гармония)	10	
	Качество представляемого изделия, товарный вид, соответствие модным тенденциям	5	
	Практическая значимость	5	
Защита проекта 14 баллов	Четкость и ясность изложен, логика обзора проблемы исследования	6	
	Презентация (умение держаться при выступлении, время изложения), культура подачи материала, культура речи.	6	
	Самооценка, ответы на вопросы	2	
Дополнительные критерии (баллы и прибавляются, и вычитаются)	Самостоятельность выполнения проекта (собственный вклад автора), использование знаний вне школьной программы, владение понятийным профессиональным аппаратом по проблеме, способность проявлять самостоятельные оценочные суждения, качество электронной презентации; сложность изделия, оригинальность представления...		
Всего		<b>50</b>	