

**Всероссийская олимпиада по технологии  
по номинации «Культура дома и декоративно-прикладное творчество».  
Муниципальный этап для 8-9 классов  
Теоретический тур**

**1. Как раньше называли жидкие блюда русской кухни?**

Запишите ответ \_\_\_\_\_

**2. Внимательно рассмотрите схему рациона питания человека.** Блюда из какого продукта, необходимого в рационе питания человека, не приведены в таблице?

Овощи, фрукты
Крупы и бобовые
Мясо, рыба, морепродукты
?

**3. Рассчитайте энергетическую ценность бутерброда,** если для его приготовления взяли 50г нарезного батона и 50г сыра. При этом, 100 грамм нарезного батона содержат 270 ккал., а 100 грамм сыра 350 ккал. \_\_\_\_\_

**4. Выберите правильный ответ. К микроорганизмам относят:**

- 1) углеводы      2) дрожжи      3) белки

**5. Выберите правильный ответ. Изделия из песочного теста имеют такое свойство, как...**

- 1) высокая плотность  
2) слоистая структура  
3) воздушность  
4) рассыпчатость  
5) вязкость

**6. Что обозначают данные знаки по уходу за одеждой. Запишите ответы.**



А) \_\_\_\_\_

Б) \_\_\_\_\_

**7. Одежде из какого материала могут соответствовать знаки, представленные в вопросе 6.**

- 1) хлопок      2) лен      3) шерсть      4) шелк

**8. Верны ли следующие утверждения о механизмах регулировки швейной машины?**

А) Дефект строчки «петляние снизу» можно исправить, увеличив натяжение верхней нитки;

Б) С помощью регулятора длины стежка можно исправить дефект «слабая строчка»

Определите номер правильного ответа:

- 1) только А; 2) только Б; 3) верны оба утверждения; 4) оба утверждения не верны.

**9. Запишите правильный ответ. Перечислите виды приводов швейной машины.**

\_\_\_\_\_

**10. Выберите правильный ответ. В каком случае может произойти поломка швейной иглы?**

- 1) игла ржавая
- 2) игла погнута
- 3) игла вставлена в иглодержатель до упора
- 4) игла вставлена в иглодержатель не до упора

**11. Какое технологическое свойство шелковых тканей необходимо учитывать при выборе припусков на швы? Ответ: \_\_\_\_\_**

**12. Выберите правильный ответ. Какой машинный шов обозначается следующим образом:**



- 1) стачной
- 2) обтачной
- 3) вподгибку с закрытым срезом
- 4) двойной

**13. Выберите правильные ответы. Юбки по конструкции бывают:**

- 1) прямые
- 2) клиньевые
- 3) диагональные
- 4) конические
- 5) расширенные
- 6) зауженные

**14. Как обозначается мерка полуобхват бедер? Ответ \_\_\_\_\_**

**15. Выберите правильный ответ. К какой группе швов относится запошивочный шов?**

- 1) отделочным
- 2) краевым
- 3) соединительным

**16. Выберите правильный ответ. Электрические лампы в электрической цепи могут соединяться:**

- 1) последовательно
- 2) параллельно
- 3) перпендикулярно
- 4) смешано


**17. К какому типу освещения относятся данные светильники?**



Ответ \_\_\_\_\_

**18. Продолжите предложение. Основа первого ряда при вязании крючком называется**

\_\_\_\_\_



**19. Выберите правильный ответ. Определите по снимку название народного промысла**

- 1) ростовская финифть



- 2) палехская миниатюра
- 3) дымковская игрушка
- 4) жостовская роспись
- 5) конаковский фаянс

**20. В процессе проектирования к изделию предъявляются определенные требования:**

Гигиенические  
Эргономические  
Технологические  
Эксплуатационные  
Эстетические  
Экономические

.....

Какое требование не указано в этом списке?

Ответ \_\_\_\_\_

**21. Выберите правильный ответ.** Какой стиль интерьера помещения характеризуется нестандартными формами и материалами, яркими цветовыми решениями, многоуровневостью и асимметрией?

- 1) классический
- 2) кантри
- 3) минимализм
- 4) модерн

**22. Выберите правильный ответ. Ошибки, совершенные при выборе профессии, ведут:**

- 1) к укреплению волевых качеств
- 2) к появлению уверенности в своих силах и возможностях
- 3) к возникновению стремления творить
- 4) к невозможности самореализации

**23. Выберите правильный ответ. Деятельность, порождающая нечто новое, ранее не существовавшее:**



- 1) творчество
- 2) исследование
- 3) преподавание
- 4) моделирование

**24. Выберите правильный ответ. К конструктивным критериям оценки проекта, относятся:**

- 1) повторное использования сырья; загрязнение окружающей среды;
- 2) прочность; надежность; тяжесть;
- 3) стандартность технологии; количество используемых деталей; расход энергии и материалов.

**25. Творческое задание.** Вам предложены силуэты фигур.

1. Предложите по одной модели платья в разных стилях: классическом и романтическом. Используя цветные карандаши, выполните эскизы этих моделей.
2. Опишите внешний вид моделей по предложенной форме.
3. Рекомендуйте ткани (волокнистый состав) для каждой модели.

	
<p><i>1 модель:</i> <i>Изделие</i> _____ <i>Стиль</i> _____ <i>силуэт</i> _____ <i>ткань</i> _____ _____</p>	<p><i>2 модель:</i> <i>Изделие</i> _____ <i>Стиль</i> _____ <i>силуэт</i> _____ <i>ткань</i> _____ _____</p>