

Регламент проведения муниципального этапа включает:

- 1. Тестирование учащихся в течение 1,5 часа (90 мин);**
- 2. Выполнение практических работ в течение 2-х часов (120 мин.);**
- 3. Презентация проектов (8-10 мин. на человека).**

Тестовые задания для 7 классов

«Культура дома и декоративно-прикладное творчество»

Отметить «+» правильные ответы.

1. Выберите правильный ответ.

Изучение разных методов обработки, преобразования сырья, материалов в процессе изготовления из них продукции называется

- а) Мастерством б) Технологией в) Процессом обработки материалов, сырья и т.п. г) Поэтапным выполнением изделия

2. Выберите правильный ответ.

Какая профессиональная проба наиболее достоверна при определении пригодности к профессии продавца?

- а) менеджер по продажам б) радиомонтаж
в) вождение автомобиля г) социальное консультирование

3. Выберите правильный ответ.

Этот предмет был известен со времен Древнего Египта, однако в Россию его привезла Марина Мнишек в 1606 году.

- а) Иголka б) Ножницы
в) Вилка г) Щипцы для сахара

4. Установите соответствие названия продукта со сроком его хранения

НАЗВАНИЕ ПРОДУКТА	СРОК ХРАНЕНИЯ
1 кефир	а 36 ч
2 творог	б 24 ч
3 сметана	в 20 ч
4 молоко	г 72 ч
5 сливки	д 5 сут
6 масло	е 15 суток
7 сыр твердый в кусках	ж 30 дней

Ответы:

1	2	3	4	5	6	7

5. Выберите правильный ответ.

Варить овощи для салатов и винегретов следует

- а) очищенными б) неочищенными
в) нарезанными крупными кусками
г) нарезанными мелкими кусочками

6. Выберите правильный ответ:

Челнок:

- а) сматывает нитку с катушки, подаёт её игле, затягивает стежок
б) продвигает ткань на величину стежка
в) захватывает петлю напуск, расширяет её, обводит вокруг шпульки, что позволяет обеспечить переплетение верхней и нижней нити

7. Выберите правильный ответ

Ткань с двухсторонним пушистым начёсом это

а) бумазая; б) фланель; в) байка; г) бархат.

8. Допишите определение

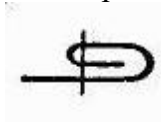
При обработке швейных изделий припуски боковых швов заутюживают в сторону.....

Ответ:

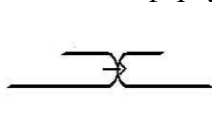
9. Напишите названия швов, приведенных на рисунках, приведите примеры применения данных швов, при изготовлении фартука



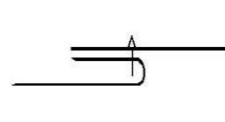
а



б



в



г

Ответ:

а _____

б _____

в _____

г _____

10. Выберите правильные ответы

Перевод выкройки на ткань осуществляется при помощи:

а) смёточных стежков; б) резца;

в) копировальных стежков; г) портновского мела.

11. Подпишите названия элементов русского народного костюма



а



б



в



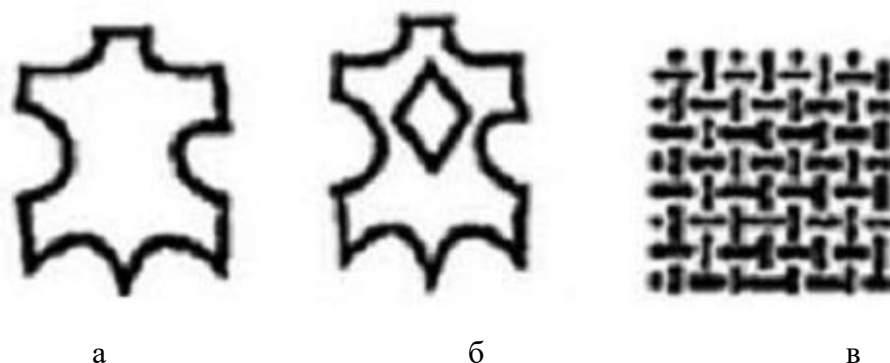
г

Ответ: а _____ б _____ в _____ г _____

12. Допишите материалы

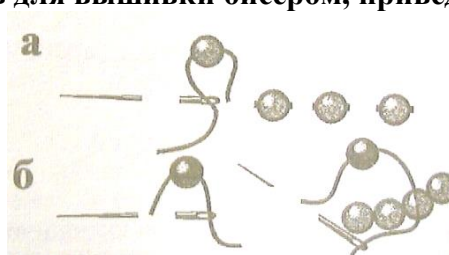
В кухне мы постоянно выполняем такие действия, в результате которых качество и внешний вид покрытий может испортиться. Здесь постоянно что-то закипает, выливается на пол, и ударяется о его поверхность, а значит, такое агрессивное воздействие его поверхность обязана стойко выдерживать. Укажите, какие материалы не рекомендуется использовать для пола на кухне.

13. Напишите обозначения следующих символов, используемых на ярлыках обуви

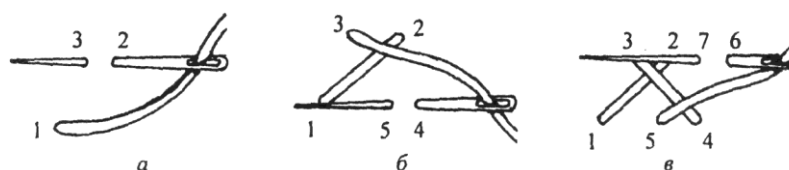


Ответ а _____
 б _____
 в _____

14. Выберите правильный ответ
 Как называется шов для вышивки бисером, приведенный на рисунке



15. Выберите правильный ответ
 Назовите вышивальный шов, технология выполнения которого представлена на рисунке



Ответ _____

16. Выберите правильный ответ
 При расчёте радиуса конической юбки применяют коэффициент. Чем меньше значение коэффициента, тем

- а) уже юбка по линии низа
- б) шире юбка по линии низа
- в) шире юбка по линии талии
- г) шире юбка по линии бедер
- д) уже юбка по линии талии

17. Дополните предложение

**Качество молочных продуктов можно определить по внешнему ... , ... , ... , ... ,
консистенции.**

Ответ _____

18. Выберите правильные ответы

**Предметом из какого материала необходимо оттащить от пострадавшего
оголённый провод:**

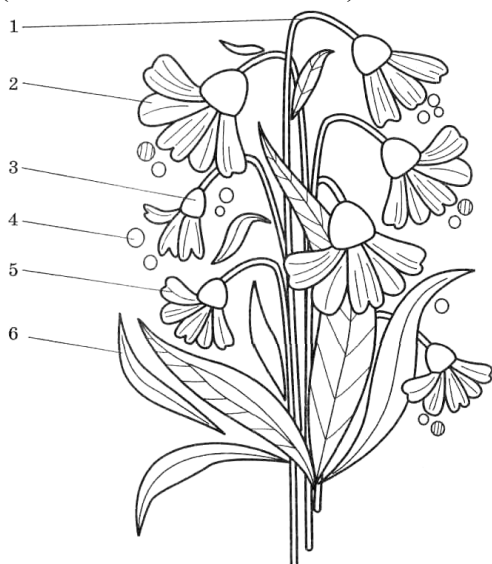
а) дерево; б) резина; в) железо. г) пластика

19. Выберите правильный ответ

**Вы купили у старушки на улице пачку печенья. Открыв его дома вы
обнаружили, что оно сырое и заплесневелое. Согласно Закону «О защите прав
потребителей» вы можете:**

а) Обратиться в суд б) Возвратить печенье в) Предъявить претензию самому себе
г) Найти бабушку и потребовать возврата денег

20. Творческое задание. Рассмотрите рисунок, выберите для него приемы вышивания
(виды вышивальных швов) и напишите их названия



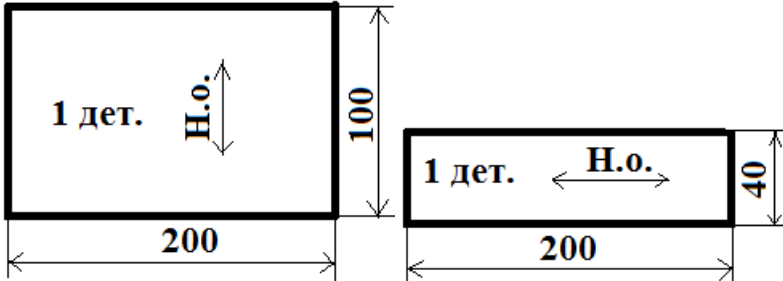
1 практический тур – технология обработки швейных изделий.


Максимальный балл – 20 баллов

Время выполнения – 45 минут

7 класс. «Обработка обтачного шва в сложную рамку»

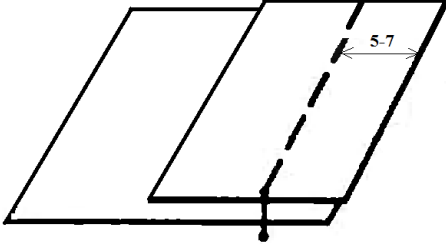

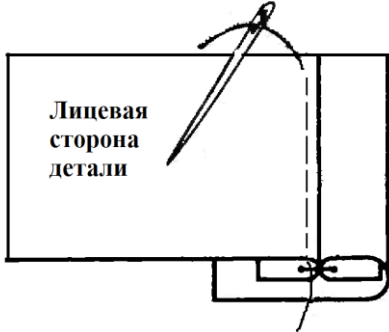
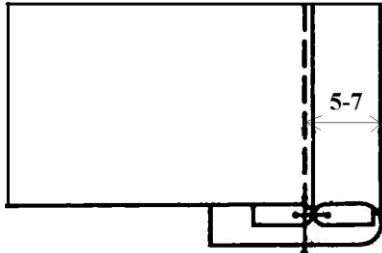
Перед началом работы внимательно прочитайте задание, ознакомьтесь с объектом труда и проверьте наличие всех материалов для работы.

<p>Задание: На макете полочки выполнить обработку обтачного шва в сложную рамку</p>	<p>Материалы:</p> <ul style="list-style-type: none">-ткань для раскроя макета полочки (основной детали) х/б, однотонная – 200×100 мм;-ткань для раскроя обтачки (рамки) х/б, однотонная – 200×40 мм;-нити в тон ткани для выполнения машинных работ;-нити контрастные по отношению к ткани для выполнения ручных работ;-ручная игла;-портновские булавки;-линейка;-портновский мел (обмылок);-ножницы. 
--	---

	<p>Обтачной шов в сложную рамку применяют при обработке прорезных карманов.</p>
---	---

Последовательность выполнения и графическое изображение

Описание операции	Графическое изображение
--------------------------	--------------------------------

<p>1. Сложить обтачку и основную деталь лицевыми сторонами внутрь, уравнивая срезы. Приметать и притачать шириной шва 5-7 мм. В начале и в конце строчки притачивания выполнить закрепку 7-10 мм. Удалить нитки приметывания.</p>	
<p>2. Разутюжить припуски шва притачивания обтачки и основной детали.</p>	
<p>3. Обогнуть припуск шва притачивания обтачкой и закрепить ручными прямыми стежками в шов притачивания обтачки. Ширина обтачки (рамки) 5-7 мм должна быть одинакова по всей длине.</p>	
<p>4. Настрочить обтачку в шов притачивания обтачки на расстоянии 5-7 мм. Удалить стежки временного назначения. Выполнить ВТО готовой работы.</p>	

Карта пооперационного контроля

«Обработка обтачного шва в сложную рамку»

№ п/п	Критерии оценки	Баллы	По факту
1	Правильная организация рабочего места, наличие формы (да/нет)	1	
2	Качество строчки: равномерность натяжения верхней и нижней нитей (да/нет)	2	
3	Удаление стежков временного назначения (да/нет)	2	
4	Ширина обтачки (рамки) одинакова по всей длине (5-7 мм)	5	
5	Наличие закрепок (7-10 мм)	3	
6	Ширина шва настрачивания обтачки в шов притачивания обтачки (5-7мм±1 мм)	4	
7	Качество ВТО готовой работы (да/нет)	2	
8	Соблюдение безопасных приемов труда (да/нет)	1	
	Итого:	20	

2 практический тур – моделирование швейных изделий

7 класс

Максимальный балл – 20 баллов

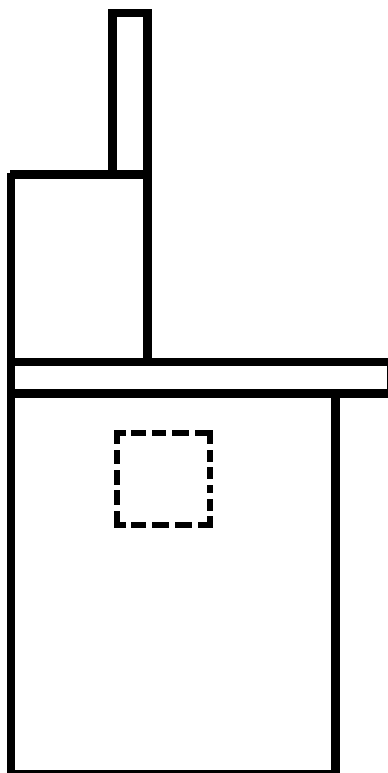
Время выполнения – 45 минут

«Моделирование фартука»


Задание:

1. Выполните эскизы 4-х моделей фартука различного назначения (например: для швейных работ, для парикмахерских работ, для продавцов в магазине, для кулинарных работ), которые можно выполнить на основе конструкции базовой модели фартука. Форму, размеры деталей, декоративную отделку согласуйте с назначением фартука и рекомендуемым материалом. Продумайте отделку фартука: аппликацией, пряжками, пуговицами, тесьмой, кружевом...
2. Выполните описание моделей.
3. Напишите не менее 3-х наименований видов ткани к каждой модели.
4. Предложите способы декорирования изделий.

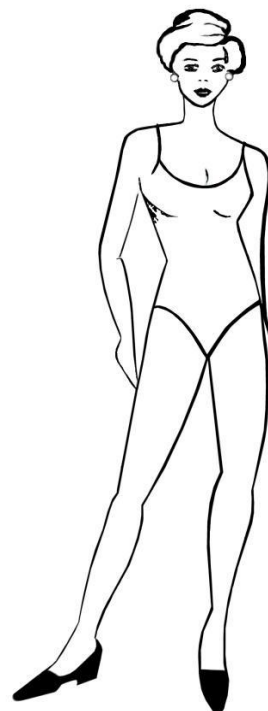
Чертеж базовой основы фартука



Модель №1
(для швейных работ)



Модель №2
(для парикмахерских работ)



работ)

Описание модели:

Рекомендуемая ткань:

- 1.
- 2.
- 3.

Способы декорирования

Описание модели:

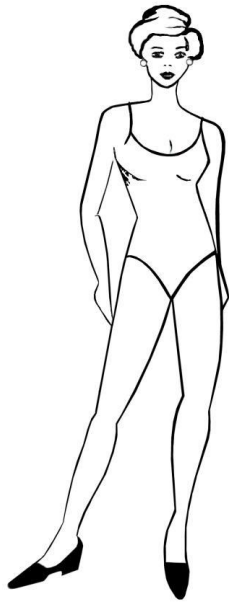
Рекомендуемая ткань:

- 1.
- 2.
- 3.

Способы декорирования

Модель №3
(для продавцов в магазине)

Модель №4
(для кулинарных работ)

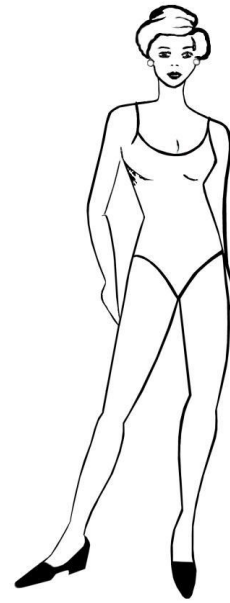


Описание модели:

Рекомендуемая ткань:

- 1.
- 2.
- 3.

Способы декорирования



Описание модели:

Рекомендуемая ткань:

- 1.
- 2.
- 3.

Способы декорирования

Карта пооперационного контроля к практической работе 7 класс «Моделирование фартука»

№ п/п	Критерии оценивания	Баллы	По факту
1	Выполнено описание моделей фартука	2	
2	Предложено не менее 3-х наименований видов ткани к каждой модели	2	
3	Предложены способы декорирования фартука	1	
4	Декоративная отделка на эскизе согласована с назначением фартука	2	
5	На эскизе представлен оптимальный подбор отделки	2	
6	Оригинальность предложенных идей	2	
7	Сложность преобразования основы конструкции фартука	2	
8	Соблюдение пропорций	2	
9	Взаимосочетаемость отдельных деталей	2	
10	Исключение перегрузки модели излишними деталями	2	
11	Гармония цвета	1	
	Итого	20	