

**Тестовые задания**  
**муниципального этапа олимпиады школьников по технологии**  
**2017/2018 уч. год**  
**Раздел «Культура дома. Декоративно-прикладное творчество»**  
**10-11 класс**  
**Кулинария**

*В строчку для ответа запишите правильный ответ.*

1. Назовите, о каком виде кулинарной обработки продуктов идёт речь? Вид кулинарной обработки пищевого продукта и одновременно консервации, родственной сушке. Он применим к овощам, фруктам, мясу, рыбе.

*Ответ:* \_\_\_\_\_

*В строчку для ответа запишите правильный ответ*

2. Назовите способ механической обработки продуктов, заключающийся в частичном разрушении структуры однородной эластичной массы, который применяется для ускорения процесса тепловой обработки продукта в приготовлении кондитерских изделий.

*Ответ:* \_\_\_\_\_

*Впишите пропущенные слова:*

3. Правильно питаться – значит сочетать \_\_\_\_\_ и \_\_\_\_\_ пищу в соответствии с возрастом, характером труда, состоянием здоровья.

*Ответ:* \_\_\_\_\_

4. Заполните таблицу, используя слова для справок в соответствии с видом обработки пищевых продуктов.

Химическая обработка пищевых продуктов	Физическая обработка пищевых продуктов

--	--

Слова для справок: очисткой, поваренной солью, квашением, сахаром, вывариванием, шпикованием.

### **Материаловедение**

Запишите правильный ответ.

5. Назовите технологический процесс заключительного этапа производства – их отделки, придающий тканям жесткость, безусадочность с помощью крахмала, декстрина, клея; упругость и глянец с помощью масла касторового, хлопкового и др., олеиновой кислоты и т. д.

Ответ:

--	--	--	--	--	--	--	--	--	--	--	--	--	--

Запишите правильный ответ в строчку для ответа.

6. Объясните, что произойдет с праздничным платьем из вискозного шелка после стирки в горячей воде и отжима в стиральной машине?

Ответ: \_\_\_\_\_

\_\_\_\_\_

\_\_\_\_\_

### **Машиноведение. Технология**

Вставьте пропущенное слово в четверостишие стихотворения.

7. Определите название какого швейного приспособления использует О. Мандельштам в образном выражении в стихотворении «Я вздрагиваю от холода» (1912 г):

«...Что, если, над модной лавкою,

Мерцающая всегда,

Мне в сердце длинной \_\_\_\_\_

Опустится вдруг звезда?»

Запишите в таблицу правильные ответы.

8. Выберите из представленного ниже списка названия текстильной и швейной фурнитуры, установите соответствие с их описанием, впишите в таблицу.

№	Наименование	Описание вида фурнитуры
1		Фасонная втулка, предназначенная для упрочнения краёв отверстий кожгалантерейных, швейных и обувных изделий.
2		Застежка, предназначенная для соединения деталей изделия через петлю.
3		Искусственный драгоценный камень; стекло для имитации драгоценных камней, подцветенное металлическими оксидами. Используется для украшения одежды и аксессуаров.
4		Вид тонкой тесьмы, служащей для отделки одежды, для макраме и пр. Выпускается различных цветов.
5		Заклёпка, состоящая из двух частей для закрепления швов, предназначена для неразъёмного соединения деталей при

Слова для справок: косая бейка, сутаж, хольнитен, люверс, страз, пайетка, блочка, пуговица, кнопка.

### **Проектирование и изготовление швейного изделия**

Впишите в предложение пропущенное слово.

9. Эргономические требования определяют соответствие изделия \_\_\_\_\_

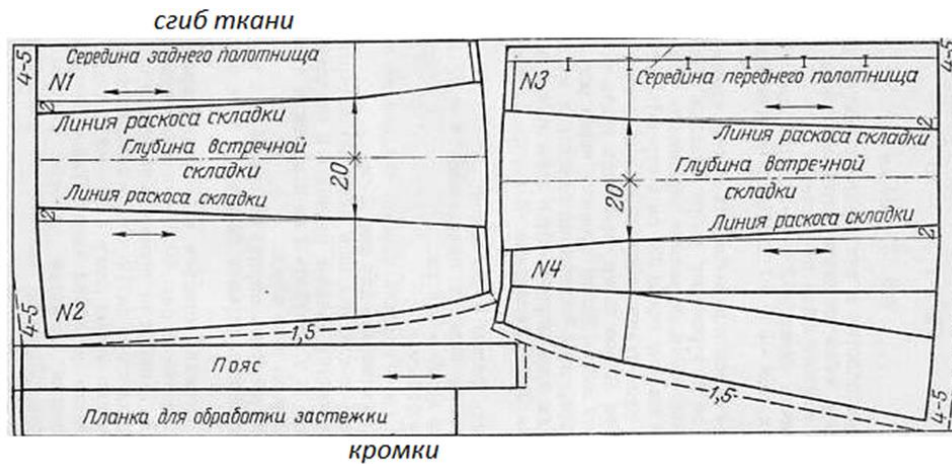
\_\_\_\_\_ данным (параметрам) человека: типичные размеры и форма человеческого тела и его отдельных частей (головы, рук и т.д.), распределение его массы тела.

Запишите ответ в строчку для ответа.

10. Ниже представлена раскладка выкроек на ткани юбки двухшовной, с поясом, встречными складками (спереди и сзади) и застежкой на пуговицах спереди.

При построении чертежа была допущена ошибка: мерка **Об** внесена неверно. Она оказалась меньше на 6 см, чем **Об** заказчика. Закройщик задумался: как решить эту проблему, сохранив модель заказчика. Предложите вариант решения проблемы.

Выполните расчет для исправления ошибки закройщика.



Ответ: \_\_\_\_\_  
 \_\_\_\_\_  
 \_\_\_\_\_

Запишите ответ в строчку для ответа.

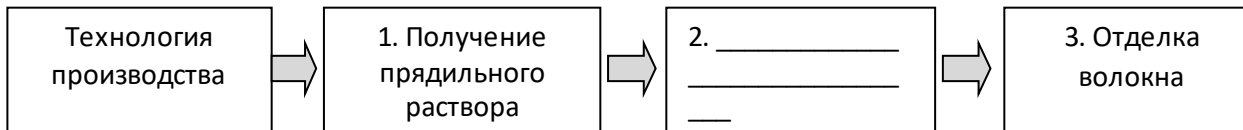
11. Объясните понятие.

Современная индустрия моды использует в проектировании и изготовлении одежды эффект «жлоке».

Ответ: \_\_\_\_\_  
 \_\_\_\_\_

Заполните схему.

12. Заполните в схеме пропущенный этап технологии производства химических волокон.

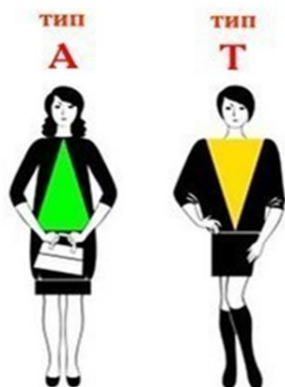


Отметьте знаком + правильный ответ.

13. Автором кроя «по косой» принято считать ...

- а) Коко Шанель;
- б) Эльза Скьяпарелли;
- в) Мадлен Вионе;
- г) Поля Пуаре.

14. Напишите рекомендации по подбору силуэта одежды для типов женских фигур, изображённых на рисунке.



Фигура типа А. \_\_\_\_\_  
 \_\_\_\_\_

Фигура типа Т. \_\_\_\_\_

### **Интерьер**

Отметьте знаком + правильный ответ.

15. Впервые в России крупные оранжереи и зимние сады появились в:

- а) XVIII веке;
- б) XV веке;
- в) XIX веке.

### **Рукоделие**

Запишите ответ в строчку для ответа.

16. Назовите, разновидность какой технологии представлена техникой текстильного коллажирования.

Ответ: \_\_\_\_\_

Запишите ответы в таблицу.

17. Выберите из представленного ниже списка слов орнаменты, установите соответствие с их описанием, впишите в таблицу.

№	Наименование	Описание вида декоративного орнамента, элемента
1		Монограмма
2		Европейское название орнамента, построено по принципу бесконечного развития и ритмического повтора геометрических, растительных, или эпиграфических мотивов
3		Виньетка в виде не совсем развёрнутых свитков, с пустым пространством в середине для надписи цифры, эмблемы и т.д.

Слова для справок: арабеска, вензель, картуш.

### **Семейная экономика, предпринимательство**

Запишите ответ в строчку для ответа.

18. Поясните, почему в XXI веке информацию считают одним из факторов производства?

Ответ: \_\_\_\_\_

Запишите в ответ в строчку для ответа.

19. Впишите слово, ответьте на вопрос и аргументируйте свой ответ.

В противовес сети фастфуд (fastfood), представленной, например, ресторанами Макдональд, сеть слоу – фуд (slow–food) эногастрономическое движение за медленную, полезную и правильную традиционную еду началось в 1986 году. Его инициатором стала страна: \_\_\_\_\_

\_\_\_\_\_ . Является ли сеть slow–food конкурентоспособной сети fastfood?

Ответ: \_\_\_\_\_

### **Электротехника**

Запишите ответ в строчку для ответа.

20. Какими элементами оснащены электронные устройства:

- виды световой рекламы (вывески, щиты, световые короба и др.),
- дорожные знаки и светофоры;
- фрагменты вертикальных и горизонтальных площадей в дизайне помещений и дизайне мебели,
- одноцветные дисплеи с бегущей строкой.

Ответ: \_\_\_\_\_

Запишите ответ в строчку для ответа.

21. Объясните, можно ли охладить помещение кухни, открыв дверцу холодильника

Ответ: \_\_\_\_\_

В строчку для ответа запишите правильный ответ.

22. Выберите тип светильника в качестве источника освещения для гостиной, если Вам необходимо зрительно увеличить объём помещения.

Ответ: \_\_\_\_\_

### **Профессиональное самоопределение**

Запишите ответ в строчку для ответа.

23. Составьте формулу своего успеха.

Важным условием удачной карьеры является вера в собственный успех. Проанализируйте самооценку и уровень притязаний, считая, что уровень притязаний определяется как степень трудности достижения цели.

«Приравнивай свои притязания к нулю, и целый мир будет у твоих ног». Уильям Джеймс.

Ответ: **Успех**= \_\_\_\_\_

Запишите ответ в строчку для ответа.

24. Вам надо открыть мини-пекарню по выпечке пирогов с последующей реализацией.

Перечислите персонал профессионалов (по профессиям), который необходим для функционирования новой мини-пекарни.

Ответ: \_\_\_\_\_

---

---