

ХІХ ВСЕРОССИЙСКАЯ ОЛИМПИАДА ШКОЛЬНИКОВ ПО ТЕХНОЛОГИИ
2017-2018 г.
МУНИЦИПАЛЬНЫЙ ЭТАП
7 – 8 классы

Номинация «Культура дома и декоративно-прикладное творчество»

Время выполнения тестовых заданий - 90 минут.

Время выполнения творческого задания - 30 минут.

За каждое верно выполненное задание тестовой части начисляется 1 балл.

Творческое задание – 6 баллов.

Постарайтесь выполнить как можно больше заданий и набрать максимально возможное количество баллов – 25.

1. Отгадайте загадку:

«И зелен, и густ

На грядке вырос куст.

Покопай немножко:

Под кустом...»

Ответ: _____

2. Какую обработку нужно произвести с отгадкой загадки:

«Сидит девица темнице, а коса на улице», чтобы использовать этот продукт для приготовления винегрета?

Ответ: _____

3. Отметьте элемент, необходимый для роста костей и зубов:

а) натрий

б) йод

в) калий

г) кальций

д) магний

4. Для каких работ используется отгадка загадки:

«Для дела на пальце одном надето ведёрко вверх дном»?

Ответ: _____

5. Расположите перечисленные ниже материалы в порядке увеличения прочности волокна:

хлопок, лён, шерсть, шёлк.

Ответ: _____

6. Установите последовательность операций при производстве ткани:

а) ткачество

б) отделка

в) прядение

Ответ: _____

7. Соотнесите названия волокон и относящиеся к ним характеристики:

1) хлопок;	а) волокна, расположенные вдоль стебля растений;
2) лен;	б) волосяной покров животных;
3) шерсть;	в) получают из семенных коробочек растений;
4) шелк;	г) тонкая нить, сматываемая с коконов тутового шелкопряда.

Ответ: 1- ; 2- ; 3- ; 4-

8. Установите соответствие между представленными на эскизах силуэтами одежды и временными периодами моды.

Силуэт



1



2



3



4

Время

А) 1936 г.

Б) 1890 г.

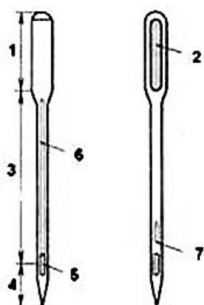
В) 1912 г.

Г) 1850 г

Ответ: 1- ; 2- ; 3- ; 4-

9. Вставьте пропущенное слово в известную поговорку: «Не сердись на _____, коли сам с изъязном». Как влияют на зрительное восприятие размера помещения эти предметы, расположенные на стенах?

10. Назовите конструктивные элементы машинной иглы, отмеченные цифрами на рисунке.



Ответ: 1. _____

2. _____
3. _____
4. _____
5. _____
6. _____
7. _____

11. Какой простой механизм используется для изменения положения прижимной лапки швейной машины?

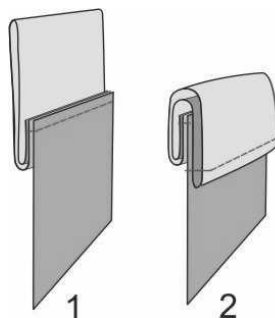


Ответ: _____

12. Отметь правильный ответ. При конструировании поясного изделия мерку Сб снимают:

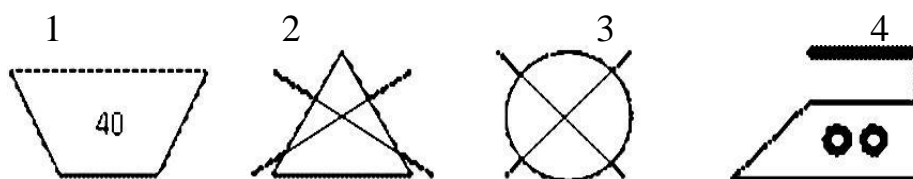
- а) для определения длины пояса
- б) для определения длины изделия
- в) для определения ширины изделия

13. Как называется операция, изображённая на эскизах выполнения шва?



Ответ: _____

14. Маша купила блузку, на ярлычке были нарисованы следующие значки, что они означают?



Ответ: 1. _____
 2. _____
 3. _____

15. Отметь правильный ответ. Прожиточный минимум в данном регионе равен 6000 рублей. Каковы должны быть доходы семьи, состоящей из отца, матери и двух детей (зарплата, пенсии и др.), в месяц?

- а) 6000 рублей
- б) 12 000 рублей
- в) 18 000 рублей
- г) 24 000 рублей

16. Отметь правильный ответ. Энергосберегающая лампа является:

- а) источником электрической энергии
- б) потребителем электрической энергии
- в) изолятором

17. Установите соответствие между рисунками, изображающими старинные приборы и современные устройства, удовлетворяющие ту же потребность. Для чего служат эти устройства?

Старина



Современность



А

Б

В

Ответ: 1- ; 2- ; 3- ; 4-

18. Декоративная деталь из ткани в верхней части дверных и оконных проёмов называется:

- а) штора
- б) карниз
- в) ламбрекен
- г) занавеска



д) ширма

19. Отметь правильный ответ. Проектная деятельность состоит из таких этапов как:

- а) вводный, текущий, заключительный;
- б) поисковый, конструкторский, технологический, заключительный;
- в) теоретический, практический, аналитический;
- г) учебно-познавательный, технологический, заключительный.