



**ВСЕРОССИЙСКАЯ ОЛИМПИАДА ШКОЛЬНИКОВ 2017/2018 гг.
МУНИЦИПАЛЬНЫЙ ЭТАП
ТЕХНОЛОГИЯ
КУЛЬТУРА ДОМА И ДЕКОРАТИВНО-ПРИКЛАДНОЕ ТВОРЧЕСТВО
7 КЛАСС**

Шифр участника _____

Критерии оценки вопросов с 1 по 19 – 1 балл за правильный ответ,
творческое задание (20 вопрос) – 6 баллов.

Технология





Выберите правильный ответ

1. К миру технологий относятся:





- | | |
|---------------------|-----------------|
| а) тепло от солнца; | в) рыба в море; |
| б) дождь; | г) консервы; |

Кулинария

2. Какой прибор необходимо выбрать, чтобы заварить кофе во французском прессе?

(а)	(б)	(в)	(г)
			

3. Семья собралась перекусить. Мама для всех сделала его любимый бутерброд. Раздай бутерброды, если папа любит закрытый бутерброд, мама – открытый простой бутерброд, сын – открытый сложный бутерброд, дочь – закусочный.

(1) папа	(2) мама	(3) сын	(4) дочь
А) 	Б) 	В) 	Г) 

Ответ: 1 - _____, 2 - _____, 3 - _____, 4 - _____.

4. Чай получится вкуснее, если....

- | | |
|----------------------------------|----------------------------------|
| а) заваривать в железном чайнике | в) использовать мягкую воду |
| б) использовать жесткую воду | г) заваривать в глиняном чайнике |



ВСЕРОССИЙСКАЯ ОЛИМПИАДА ШКОЛЬНИКОВ 2017/2018 гг.
МУНИЦИПАЛЬНЫЙ ЭТАП
ТЕХНОЛОГИЯ
КУЛЬТУРА ДОМА И ДЕКОРАТИВНО-ПРИКЛАДНОЕ ТВОРЧЕСТВО
7 КЛАСС

Шифр участника _____

8. Терморегулятор утюга установлен в определенное положение (см. рисунок). Можно ли в этом положении утюжить льняную скатерть? Поясните ответ.



Швейная машина


9. Укажите правильную последовательность операций при заправке шпульного колпачка:

- а) поместите шпульку в шпульный колпачок;
- б) протяните нить под пружиной натяжения и выведите в отверстие колпачка;
- в) вытяните нить сквозь щель шпульного колпачка;
- г) оставьте около 10 см свободной нити.

Ответ: 1 – «___», 2 – «___», 3 – «___», 4 – «___».

10. В каких случаях используется двойная игла?

Ответ:



Конструирование и моделирование швейных изделий

11. Как называется операция переноса нагрудной вытачки? _____

12. Почему чертеж строят на одну половину фигуры?

Ответ: _____





ВСЕРОССИЙСКАЯ ОЛИМПИАДА ШКОЛЬНИКОВ 2017/2018 гг.
МУНИЦИПАЛЬНЫЙ ЭТАП
ТЕХНОЛОГИЯ
КУЛЬТУРА ДОМА И ДЕКОРАТИВНО-ПРИКЛАДНОЕ ТВОРЧЕСТВО
7 КЛАСС

Шифр участника _____

Технология изготовления швейных изделий

13. Очень часто швейные изделия декорируются сутажем. Предложите способы настрачивания сутажного шнура.

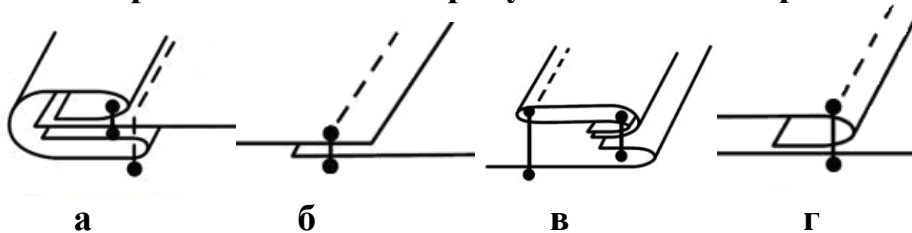


Ответ:

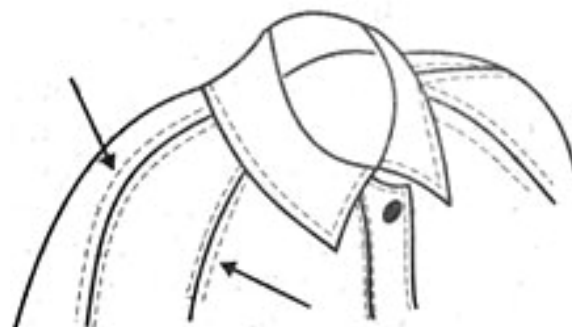
1 способ _____

2 способ _____

14. Из представленных на рисунке швов выберите соединительные швы:



15. Прокладывание машинных строчек на деталях для закрепления припусков шва, направленных в противоположные стороны, называется





ВСЕРОССИЙСКАЯ ОЛИМПИАДА ШКОЛЬНИКОВ 2017/2018 гг.
МУНИЦИПАЛЬНЫЙ ЭТАП
ТЕХНОЛОГИЯ
КУЛЬТУРА ДОМА И ДЕКОРАТИВНО-ПРИКЛАДНОЕ ТВОРЧЕСТВО
7 КЛАСС

Шифр участника _____

История костюма

16. Установите соответствие внешнего вида изделия его названию (худи, водолазка, свитшот, пуловер, кардиган, джемпер):



1 - _____; 2 - _____; 3 - _____;



4 - _____; 5 - _____; 6 - _____.

17. Что явилось прототипом представленного на рисунке жакета:

- а – польский контуш,
- б – гусарский ментик,
- в – казацкий чекмень,
- г – кавказский архалук,
- д – гренадерский мундир?





ВСЕРОССИЙСКАЯ ОЛИМПИАДА ШКОЛЬНИКОВ 2017/2018 гг.

МУНИЦИПАЛЬНЫЙ ЭТАП

ТЕХНОЛОГИЯ

КУЛЬТУРА ДОМА И ДЕКОРАТИВНО-ПРИКЛАДНОЕ ТВОРЧЕСТВО

7 КЛАСС

Шифр участника _____

Технологии домашнего хозяйства

18. В жилом помещении поклеены обои фиолетового оттенка, ковёр на полу синего цвета и портьеры жёлтого оттенка. Какие элементы интерьера сочетаются по цветовой гамме?

а) Ковёр и обои

в) Обои и портьеры

б) Ковёр и портьеры

г) Ковёр, обои и портьеры

19. По описанию определи, о каком виде обоев идёт речь. Напиши название.

а. Натуральный материал. Выраженная текстура. Оттенки коричневого, бежевого, песочного, золотистого. Долговечность. Толщина составляет около 2 мм. Высокие теплоизоляционные, звукоизоляционные свойства: _____

б. Заготовки в виде стеклянных кубиков. Тянут тонкие нити. Полотно. Стеклоткань. Добавки на основе крахмала: _____

в. Основной компонент целлюлоза. Декоративные волокна. Блёстки. Не имеют стыков. Срок службы 6-8 лет. Необычная рельефная структура: _____

г. Натуральный материал: шелк, лен, хлопок, джут, велюр. Бумажная или флизелиновая основа. Используют в интерьерах в восточном стиле. Бесшовное покрытие. Низкая устойчивость к пыли, грязи, запахам, влаги и воздействию домашних животных: _____

20. Творческое задание:

Ваша подружка купила новую юбку, но не знает, с чем ее надеть. Помогите подружке – нарисуйте эскиз плечевого изделия, подходящего к юбке на рисунке на 7 странице. Поясните свое решение.



ВСЕРОССИЙСКАЯ ОЛИМПИАДА ШКОЛЬНИКОВ 2017/2018 гг.

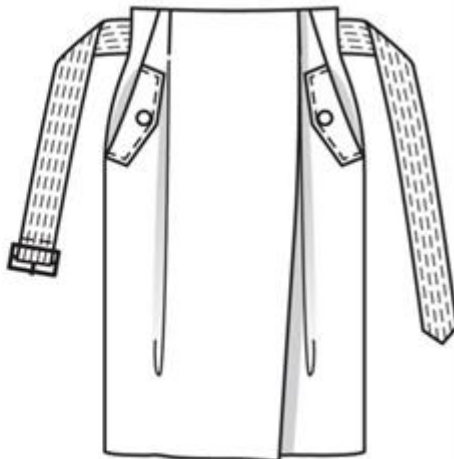
МУНИЦИПАЛЬНЫЙ ЭТАП

ТЕХНОЛОГИЯ

КУЛЬТУРА ДОМА И ДЕКОРАТИВНО-ПРИКЛАДНОЕ ТВОРЧЕСТВО

7 КЛАСС

Шифр участника _____



Эскиз юбки

Эскиз плечевого изделия