

**Комплект примерных олимпиадных заданий  
для проведения муниципального этапа всероссийской олимпиады школьников 2017-  
2018 года по номинации «Культура дома и декоративно-прикладное творчество»  
для 7-11 классов**

**Теоретический тур**

**7 класс**

**1. Для одежды строителей, дорожных полицейских используют оранжевый цвет. Отметьте пункты, характеризующие этот цвет:**

- - а) хроматический цвет;
- - б) ахроматический цвет;
- - в) теплый;
- - г) холодный;
- - д) яркий
- - е) мягкий;
- - ж) светлый;
- - з) насыщенный.

**2. Впишите в пирамиду питания % потребления данных продуктов, необходимых для ежедневного употребления в пищу.**

Правильное питание - основа здоровья человека:



**3. Рассчитайте и вставьте пропущенные цифры в таблице приготовления полдника на 2 человека:**

Блюдо	Продукты	Количество продуктов на двух человек	Количество продуктов на пять человек
Салат из сырых овощей	Помидоры		5 шт.
	Огурцы		5 шт.
	Зелень		250 г
	Сметана		250 г
Бутерброд	Хлеб		5 ломтиков
	Колбаса		150 г
	Сыр		150 г

**4. Назовите швейную операцию, изображенную на рисунке, и укажите ее применение в изделии:**



**Ответ:**

---

5. Подпишите швы (а, б, в), изображённые в задании 4:

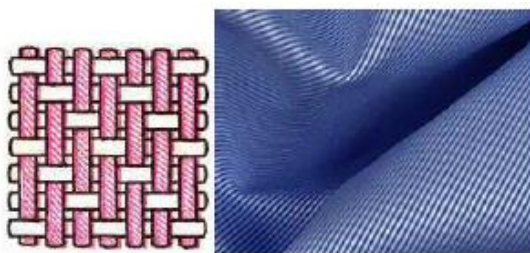
а \_\_\_\_\_; б \_\_\_\_\_;  
в \_\_\_\_\_

6. Напишите, как назывался сборник наставлений, по ведению домашнего хозяйства с учётом времён года и всех видов домашних работ, составленный в середине XVI века по распоряжению Ивана Грозного.

--	--	--	--	--	--	--	--	--

7. Вставьте пропущенное слово в предложение, связанное с текстильным производством.

Ткани \_\_\_\_\_ переплетения благодаря гладкой поверхности устойчивы к трению, хорошо скользят и поэтому применяются в качестве подкладки.



8. Какие приемы размещения комнатных растений использованы на рисунке?

Ответ: \_\_\_\_\_

\_\_\_\_\_

\_\_\_\_\_

\_\_\_\_\_

\_\_\_\_\_



9. Изобразите условные обозначения символов правильного ухода за изделиями из ткани, используя ряд предложенных символов.



а) профессиональная сухая чистка - \_\_\_\_\_;

б) стирка ручная - \_\_\_\_\_;

в) отбеливание разрешено любыми окисляющими отбеливателями - \_\_\_\_\_;

г) глажение при максимальной температуре утюга до 100°C - \_\_\_\_\_.

10. Отметьте знаком «+» все правильные ответы:

Назовите свойства эстетических требований к одежде:

1 -  - учёт внешности и возраста человека;

- 2 -  - соответствие современным требованиям моды;
- 3 -  - создание благоприятного микроклимата;
- 4 -  - учёт особенностей телосложения человека;
- 5 -  - красота.

**11. Назовите не менее восьми названий тканей из натуральных волокон животного происхождения:**

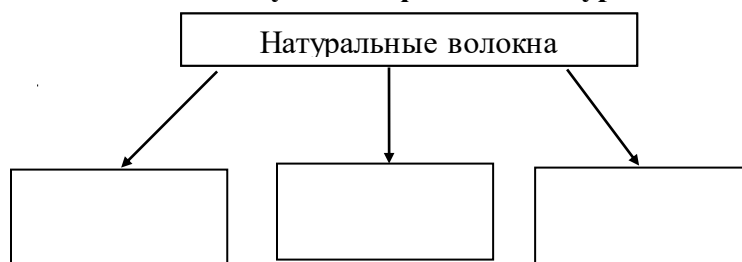
Ответ: \_\_\_\_\_  
 \_\_\_\_\_  
 \_\_\_\_\_  
 \_\_\_\_\_

**12. Отметьте знаком «+» все правильные ответы:**

К гигиеническим свойствам тканей не относятся:

- 1 -  - теплозащитность;
- 2 -  - прочность;
- 3 -  - сминаемость;
- 4 -  - гигроскопичность;
- 5 -  - усадка.

**13. Составьте схему классификации натуральных волокон:**



**14. Как по-другому называют двигатель ткани?**

Ответ: \_\_\_\_\_

**15. Отметьте знаком «+» все правильные ответы:**

Челночный комплект находится:

- 1 -  - на платформе;
- 2 -  - на стойке рукава;
- 3 -  - на рукаве;
- 4 -  - под платформой;
- 5 -  - на головке рукава.

**16. Обозначьте цифрами от 1 до 5 правильную последовательность образования двухниточного челночного стежка:**

- А -  - соскальзывание петли;
- Б -  - образование и захват петли носиком челнока;
- В -  - затягивание стежка;
- Г -  - расширение петли;
- Д -  - перемещение ткани зубчатой рейкой.

**17. Отметьте знаком «+» все правильные ответы:**

Причиной пропуска стежков швейной машиной может быть:

- 1 -  - неправильная установка иглы;
- 2 -  - несоответствие номера иглы номеру нити;
- 3 -  - повреждение иглы;
- 4 -  - сильное натяжение нижней нити;
- 5 -  - сильное натяжение верхней нити.

**18. Отметьте знаком «+» все правильные ответы:**

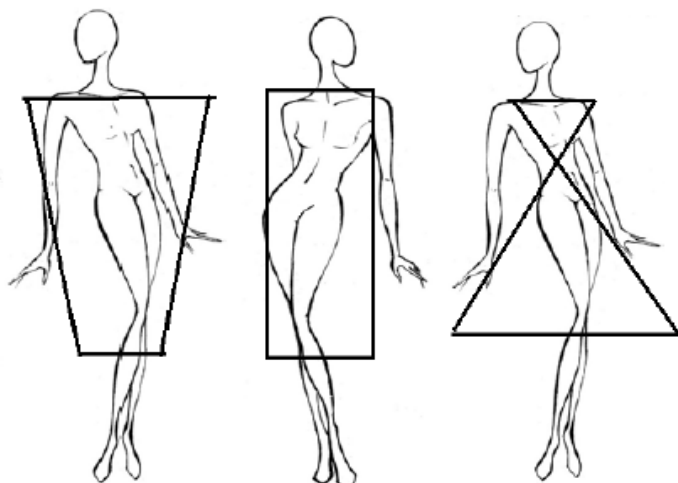
Юбки по конструкции бывают:

- 1 -  - прямая;
- 2 -  - клиньевая;
- 3 -  - диагональная;
- 4 -  - коническая;
- 5 -  - трапеция.

**19. Предложите вариант рисунка обоев, если вам необходимо визуально раздвинуть пространство, при этом высоту потолка зрительно уменьшить:**

Ответ: \_\_\_\_\_  
 \_\_\_\_\_

**20. Творческое задание: Вам дана женская фигура с указанием силуэта:**



а) \_\_\_\_\_ б) \_\_\_\_\_ в) \_\_\_\_\_

Рекомендуемые ткани:

а) \_\_\_\_\_

б) \_\_\_\_\_

в) \_\_\_\_\_

**Задание:**

1. Создайте свою модель, добавив отделочные линии, детали, цвет;
2. Определите силуэты модели (подпишите эскизы);
3. Предложите, из какой ткани можно их сшить.