

Всероссийская олимпиада по технологии
Муниципальный этап
Номинация «Культура дома и декоративно-прикладное творчество»
8 класс
(Тестовые задания 1-24 оцениваются в 1 балл, задание 25 – в 11 баллов)

1. Какие технологии можно отнести к технологиям индустрии моды?

- а) лазерное гильоширование;
- б) фудпейринг;
- в) 3D-печать.

2. Поясните название блюда.

В дореволюционной России широкую известность изготовлением расстегаев приобрел трактир И.Я. Тестова. Ежедневно в меню подавалось по десять новых пирожков и расстегаев. Самым вкусными, по мнению современников, были расстегаи «пополамные» (из стерляди и налильных печенок). Что означает название расстегай?

Ответ: _____

3. Впишите ответ.

Различные виды продуктов обрабатывают на отдельных разделочных досках. Доски различают по буквенным обозначениям. Что означает буквенное обозначение на ребре доски НХ?

Ответ: _____

4. Выберите все правильные ответы.





В кулинарии по консистенции различают следующие виды каш:

- а) рассыпчатые каши;
- б) кремообразные каши;
- в) вязкие каши;
- г) жидкие каши.

5. Какая страна является родиной огурца?

Ответ: _____

6. Какие ягоды изображены на картинках?

			
А _____	Б _____	В _____	Г _____

7. Определите слово.

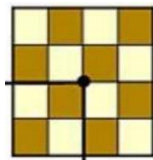
Составьте буквы в правильном порядке, чтобы получилось слово, означающее такое свойство ткани, которое позволяет противостоять ряду разрушающих факторов: СОЗОНЙОТСИТОКЪС.

Ответ: _____


8. Какие волокна не относятся к синтетическим (выберите несколько вариантов ответов)?

- а) акрил;
- б) вискоза;
- в) ацетат;
- г) нейлон;
- д) эластан.


9. Запишите раппорт ткацких переплетений, представленных на рисунках:



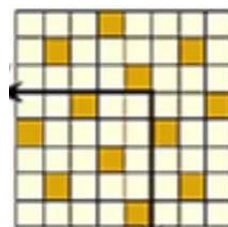
А _____



Б _____



В _____



Г _____

10. Установите соответствие между элементами правого и левого столбца.

Вид ткани	Признаки ткани
1. Льняная ткань	а) имеет гладкую, блестящую поверхность
2. Хлопчатобумажная ткань	б) прочная, рвется с трудом
	в) мягкая, легкая, теплая
	г) имеет шероховатую поверхность
	д) нити толстые, неодинаковой толщины

1 - _____; 2 - _____.

11. Какие текстильные волокна получают из целлюлозы?

- а) искусственные;
- б) синтетические;
- в) химические;
- г) капроновые.

12. Допишите определение.

Единая образная система в одежде, основанная на единстве идейного содержания, элементов художественной формы и выразительных средств, это: _____.

13. Определить название машинной операции:

Пояс к юбке _____




14. Для обметывания срезов деталей из сильноосыпающихся тканей выбирают зигзагообразную строчку:

- а) с большой шириной стежка и малой длиной стежка;
- б) с большой шириной стежка и большой длиной стежка;
- в) с маленькой шириной стежка и большой длиной стежка;
- г) с маленькой шириной стежка и маленькой длиной стежка.

15. Как называется мужская юбка, национальная одежда шотландских горцев?

Ответ: _____

16. Подпишите названия народных промыслов, которые представлены на рисунках:

		
А _____	Б _____	В _____

17. Для ограничения растекания краски в технике свободной росписи ткань пропитывают:

- а) раствором сахара;
- б) раствором поваренной соли;
- в) мыльным раствором;
- г) расплавленным воском;
- д) растительным маслом.

18. Вставьте пропущенное слово:

_____ — это обобщенное название различных типов занавесей, которые могут различаться по типу полотна, по стилю.

19. Что означает данный символ по уходу за одеждой?



20. Определите виды рабочей одежды

			
А _____	Б _____	В _____	Г _____

21. Какие комнатные растения можно использовать в лечебных целях?

- а) алоэ
- б) диффенбахия;
- в) каланхоэ;
- г) плющ;
- д) герань.

22. Напишите названия профессий, относящихся к сфере услуг.

1. _____
2. _____
3. _____
4. _____
5. _____

23. Вставьте пропущенное слово, выбрав его из представленного ниже списка.

Под «умным» домом следует понимать систему, которая обеспечивает _____, ресурсосбережение и комфорт для всех пользователей.

Слова для выбора: стабильность, надежность, безопасность, эстетичность.

24. Перед выбором оптимальной идеи реализации проекта необходимо:

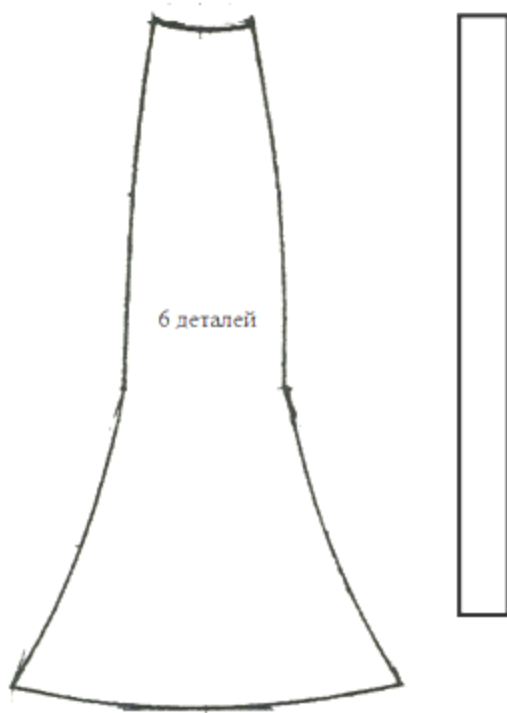
- а) обосновать выбор оборудования для выполнения проекта;
- б) собрать информацию о возможных путях реализации проекта;
- в) выбрать материалы для изготовления проектного изделия;
- г) составить план пояснительной записки.

25. Творческое задание.

Даны детали кроя юбки.

1. Проставьте номера на деталях кроя. В соответствии с номерами подпишите названия и количество деталей кроя.
2. Выполните эскиз модели в соответствии с деталями кроя.
3. Опишите внешний вид модели по предложенной форме.

1. Детали кроя



- 1 - _____
- 2 - _____

2. Эскиз модели