

Ключ 10-11 класс

Муниципальный тур Всероссийской олимпиады школьников по предмету «Технология» (Технология ведения дома).

Тесты. 10 – 11 клас

(Технология ведения дома)

№ ответ

1 В

2 А

3 Г

4 В

5 В

6 Б

7 Б

8 Б,Г,Д,З

9 А,Г,Д

10 А

11 Б

12 Г

13 В

14 1-б;2-г;3-в;4-д;5-а

15 дрожжевое,песочное,
слоёное,бисквитное
пресное,заварное и др

16 Б

17 Г

№ ответ

18 Чтобы не получить
ожог от пара

19. 1-в;2-д;3-е;4-б;5-ж;6- г;7-а

20 А

21 Б

22 Волан


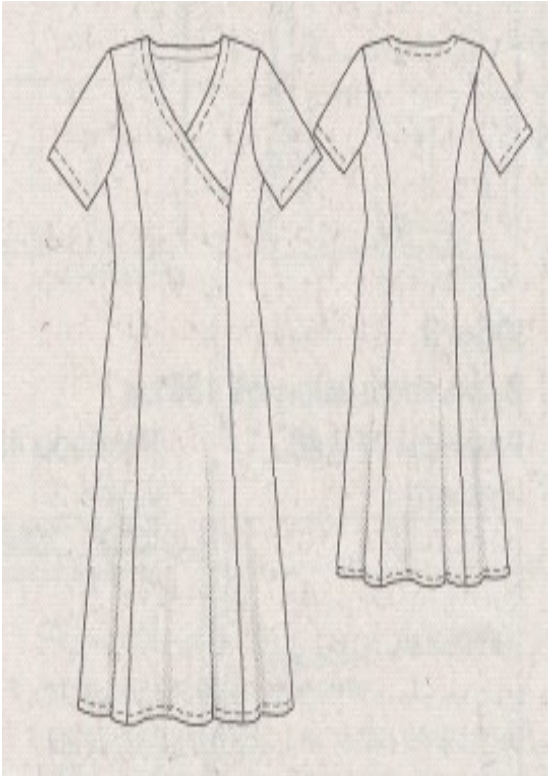
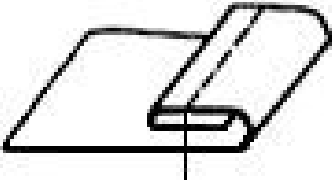
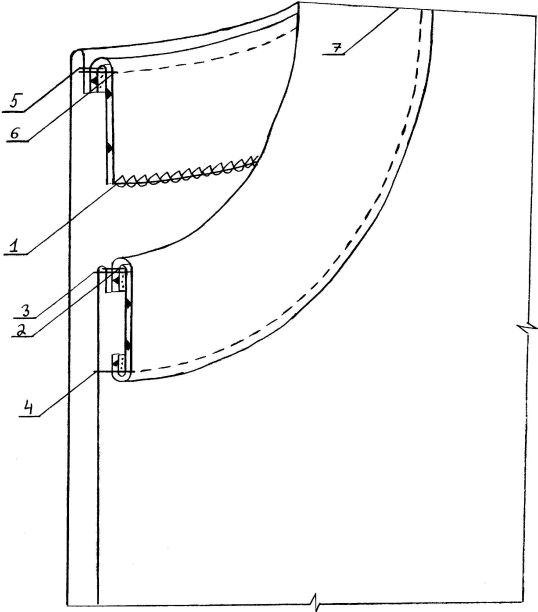
23 1-в;2-б;3-г;4-а

24. В

25.Творческое задание.

Дан эскиз модели платья:

- 1) выполните зарисовку схем применяемых швов и узлов швейного изделия;
- 3) предложите ткань для представленной модели.

Схемы применяемых швов(для изготовления изделия)	эскиз модели платья
<p>1. Схема обработки плечевых швов</p>  <p>The diagram shows a rectangular piece of fabric with a shoulder seam. The seam is shown as a series of overlapping layers, with a vertical line indicating the fold and stitching area.</p>	 <p>The sketch shows two dress models. The model on the left is a long-sleeved dress with a V-neckline and a gathered waist. The model on the right is a short-sleeved dress with a round neckline and a gathered waist. Both dresses have a simple, elegant design.</p>
<p>• Схема обработки низа рукава</p>  <p>The diagram shows a rectangular piece of fabric with a cuff. The cuff is shown as a series of overlapping layers, with a vertical line indicating the fold and stitching area.</p>	
<p>3. Схема обработки горловины обтачкой</p>  <p>The diagram shows a neckline with a bias binding. The binding is shown as a series of overlapping layers, with a vertical line indicating the fold and stitching area. The diagram is labeled with numbers 1 through 7, indicating the steps of the process.</p>	

3. Рекомендуемые ткани для изготовления платья: шелковые (искусственные или натуральные), хлопчатобумажные (плательные).