

**Всероссийская олимпиада школьников по технологии, муниципальный этап**  
**Задания теоретического конкурса по номинации**  
**«Культура дома и декоративно-прикладное творчество»**  
**7 класс**  
**Технология**

**1. Какой толщины должен быть нарезан хлеб для закусочных бутербродов?**

- a. 1,5-2,5 см
- b. 0,5-0,8 см
- c. 1-1,5 см
- d. 1-2 см

**2. Почему при приготовлении салатов нельзя соединить тёплые и холодные продукты?**

---

*Салат быстро испортится*

**3. С какой стороны от тарелки и каким способом кладут вилку при сервировке стола к обеду:**

- a. справа от тарелки зубцами вверх
- b. слева от тарелки зубцами вверх
- c. справа от тарелки зубцами вниз
- d. слева от тарелки зубцами вниз

**4. Пища, готовая к употреблению называется**

---

блюдо

**5. Что обозначает данный условный знак?**



- a. нормальная стирка при 30<sup>0</sup>
- b. щадящая стирка при 30<sup>0</sup>
- c. деликатная стирка при 30<sup>0</sup>

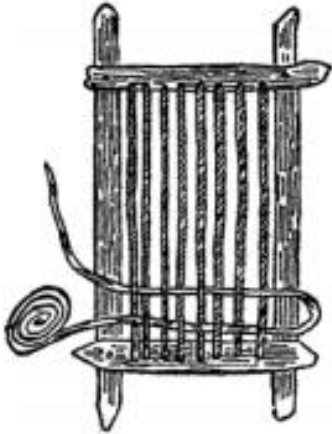
**6. Какой условный знак обозначает «Отбеливать с применением хлора»?**



7. Изобразите значок условного обозначения «Глажка до температуры 110°»



8. Какой способ плетения ткани изображен на рисунке?



---

способ плетения ткани на «раме»

9. Разделение пространства на отдельные зоны - это:

- a. планирование
- b. проектирование
- c. зонирование

10. Требование эстетичности к интерьеру подразумевает:

- a. гармония вещей и пространства, их целостность и согласованность
- b. пригодность вещи в различных ситуациях
- c. мебель не должна занимать много места

11. Как называется неосыпающийся край ткани?

- a. кромка
- b. шов
- c. срез

12. Волокна животного происхождения это:

- a. хлопок
- b. джут
- c. шелк

13. Выберите условное обозначение, соответствующее «лайкре»

- a. Ly
- b. Li
- c. LO

14. От чего зависит выбор машинной иглы?

---

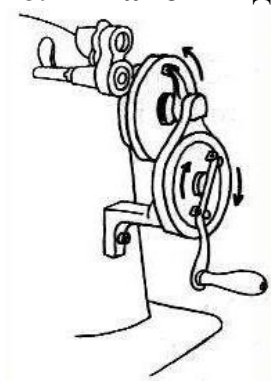
от вида ткани

15. Под цифрой 1 обозначена



- a. желобок
- b. колба
- c. фаска
- d. нерабочая зона

16. Какой вид швейной машины изображен на рисунке



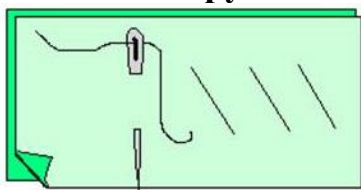
- a. с ручным приводом
- b. с ножным приводом
- c. в электроприводе

17. Старинный русский будничный головной убор у крестьянок, прежде обычно у замужних, в виде платка, полотенца, повитого вокруг головы ?



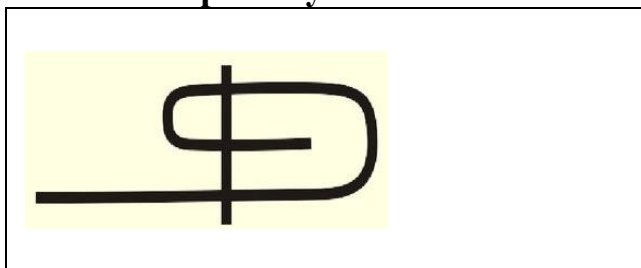
- a. 1 — венец
- b. 2 — кокошник
- c. 3 — повойник

18. Какой ручной шов изображен на рисунке



- a. ровная наметка
- b. неровная наметка
- c. косая наметка

19. Начертите условное обозначение шва вподгибку с закрытым срезом



20. Начертите схему саржевого переплетения. Изготовьте макет переплетения, используя полоски бумаги двух цветов

