

Тест

1. Назовите отрасли легкой промышленности, обеспечивающие население тканями, одеждой и обувью.

Ответ: _____

2. Выберите правильный ответ. Для фарширования используют овощи:

- а) кабачки, перец, помидоры, капусту, баклажаны;
- б) кабачки, перец, капусту;
- в) кабачки, перец, капусту, баклажаны;
- г) перец, капусту.

3. Расположите продукты в порядке увеличения энергетической ценности:

- 1. Яблоки.
- 2. Сметана 30%-ной жирности.
- 3. Сосиски молочные.
- 4. Картофель.

4. Назовите сырье, из которого получают крупу:

- а) булгур _____
- б) перловая крупа _____
- в) гречка _____
- г) пшено _____

5. В настоящее время на прилавках в магазине можно встретить разные виды молока. Какие отличия нормализованного молока от цельного? Какое молоко лучше купить?

Ответ: _____

6. Вам предстоит приготовить картофель фри. Предложите простые формы нарезки картофеля. Как нужно солить картофель фри?

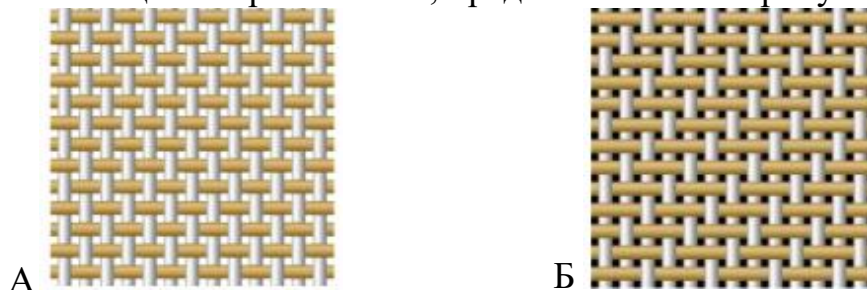
7. Каждый день в походе чай пьют 3 раза в день. Поход длится 2 дня. Чай продаётся в пачках по 100 пакетиков. Сколько пачек чая нужно купить на весь поход для группы из 35 человек?

8. Имя создателя – фламандского мастера XIII в. Батиста де Шамбре – носит тонкая ткань. Назовите эту ткань.

9. Объясните, для чего производится такая операция как декотировка?

Ответ: _____

10. Назовите ткацкие переплетения, представленные на рисунках.



Ответ: _____

11. Предложите исходное сырьё, в процессе преобразования которого можно получить ткани: капрон, нитрон, лавсан.

Ответ: _____

12. Выберите правильный ответ. Смешанными называют ткани:

а) имеющие в составе основы и утка различные волокна, соединенные в процессе прядения;

б) имеющие разные по волокнистому составу основу и уток;

в) имеющие в составе основы и утка разные по цвету волокна;

г) имеющие одинаковые по волокнистому составу основу и уток.

Ответ: _____

13. Определите последовательность установки машинной иглы.

а) закрепить винт иглодержателя;

б) повернуть маховое колесо, поднять игловодитель в верхнее положение;

в) ослабить винт иглодержателя;

г) ввести иглу в иглодержатель до упора;

д) поднять и опустить иглу в отверстие игольной пластины.

14. Верны ли следующие утверждения (отметьте +)?

№ п/п	Утверждения	Да	Нет
1	Орнамент – это узор, основанный на повторе и чередовании составляющих его элементов		
2	Символ птицы в орнаменте, олицетворял		

	женское начало-образ матери, образ трудолюбивой хозяйки		
3	Для девочек на юбке обязательно вышивали символы огня и солнца		
4	Мальчиков охраняли растительные орнаменты		
5	Вышивка на детской одежде всегда была красного цвета		

15. Назовите знаменитый древний промысел вязания пуховых платков на Урале. В чем уникальность изделий этого промысла?

Ответ: _____

16. Дополните. Персидское название женских шерстяных платков – это _____ . Назовите техники рукоделия для их изготовления.

Ответ: _____

17. Определите по рисунку вид рукоделия. Кратко раскройте сущность технологии.



Ответ: _____

18. Маша – девочка невысокого роста. Джинсы, которые она купила, требуется укоротить. Она взяла специальные нитки (по толщине соответствующие №40) и машинную иглу. Какой номер машинной иглы выбрала Маша?



- а) № 70
- б) № 90
- в) № 110

19. Выберите правильный ответ: Эстетическое оформление функциональных изделий – сфера деятельности:

- а) технолога;
- б) дизайнера;
- в) конструктора;
- г) проектировщика.

20. **Творческое задание.** Даны детали кроя швейного изделия:

1. Выполните эскиз изделия согласно предложенным деталям кроя.
2. Опишите внешний вид модели по предложенной форме.
3. Предложите тип фигуры, для которой подойдет конструкция данной модели.
4. Предложите материалы и варианты декоративного оформления (отделки) данного изделия.

Детали кроя	Эскиз
	

Описание внешнего вида модели:

Название изделия и рекомендуемый тип фигуры _____

Силуэт, длина _____

Детали _____

Вид отделки _____

Материалы _____