

9. К искусственным волокнам относятся:

- а) нитрошелк б) вискоза в) ацетатный шелк г) нейлон д) капрон

10. К элементам традиционного женского поморского костюма относятся:

- а) понёва б) сарафан- «синяк» в) рубаха г) галифе

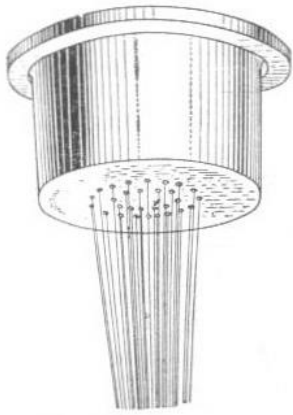
III. Закончите фразу (Задания в открытой форме)

11. Комплекс мероприятий, направленных на выбор подходящей профессии, называется _____

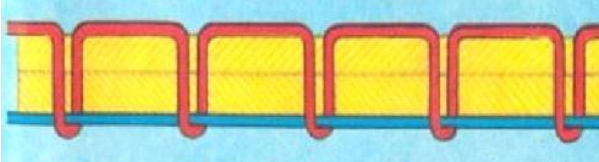
12. Прикрепление клеевого прокладочного материала к основной детали с помощью горячего утюга называют _____

13. Работник, занимающийся изготовлением ткани на ткацком станке, называется _____

14. На определенной стадии производстве химических волокон используются фильеры. Рассмотрите рисунок и ответьте на вопросы.

	<p>а) Назначение фильер _____</p> <p>_____</p> <p>б) Приведите название тканей (не менее 3), полученных с помощью этой детали _____</p> <p>_____</p>
--	--

15. Напишите регулировку швейной машины, если машинная строчка выглядит как на рисунке.

<p>_____</p> <p>_____</p>	
---------------------------	--

IV. Задания на установление соответствия

16. Установите соответствие между овощами и содержащимися в них веществами.

Овощи		Полезные вещества	
1	Свекла	а	Крахмал
2	Капуста	б	Каротин
3	Картофель	в	Сахар
4	Морковь	г	Витамин С






1 - ____, 2 - ____, 3 - ____, 4 - ____

17. Установите соответствие между неполадкой в работе швейной машины и ее причиной.

Неполадка		Причина	
1	Тяжелый ход машины	а	Тупая игла
2	Выбивание нити из ткани	б	Неправильная заправка верхней нити
3	Обрыв верхней нити	в	Длительное отсутствие смазки

1 - ____, 2 - ____, 3 - ____

18. Найдите соответствие между фрагментами орнаментов по изобразительным мотивам и их названиями.

				
1	2	3	4	5
а) зооморфный	б) геометрически й	в) антропоморфны й	г) растительный	д) тератологически й

1 - ____, 2 - ____, 3 - ____, 4 - ____, 5 - ____

19. Найдите соответствие свойств в интерьере.

1	Гигиенические	а	Гармония пространства и вещей. Их согласованность
---	---------------	---	---

2	Эстетические	б	Обеспечение акустической изоляции, хорошего воздухообмена, нормальной тепло – воздушной среды
3	Функциональные	в	Разделение пространства на отдельные зоны
4	Зонирование	г	Рациональность планировки, удобство расстановки мебели и оборудования

1- ____, 2- ____, 3- ____, 4 - ____

VI. Творческое задание

20. Схематично постройте пищевую пирамиду правильного питания. Запишите:

- название основных продуктов от основания пирамиды до верха,
- суточную норму продуктов в %.

