

Тестовые задания

Задания теоретического тура олимпиады по технологии оцениваются следующим образом: за каждое верно выполненное задание 1–24 начисляется один балл. За творческое задание (№25) начисляется 11 баллов. Баллы суммируются. Максимально возможное количество баллов – 35.

Постарайтесь выполнить как можно больше заданий и набрать как можно больше баллов.

1. Какой из перечисленных объектов может быть назван наноструктурой?

а) маковое зерно; б) вязальный крючок; в) молекула полиэтилена; г) туфелька Дюймовочки.

2. Кушанье из мелко нарезанных овощей, яиц, мяса или рыбы, фруктов _ .

3. Национальным блюдом какого народа являются щи?

а) украинского;
б) белорусского;
в) русского;
г) башкирского.

4. Что означает термин «обвалка мяса»?

а. обмывание мяса б. обсушивание мяса в. оттаивание мяса г. отделение мяса от костей

5. Разрыхлитель для бисквитного теста:

а) дрожжи; б) сода; в) мука; г) вода; д) взбитые яичные белки.

6. Наилучшую драпируемость имеют ткани, изготовленные переплетением:

а) сатиновым; б) креповым; в) атласным; г) полотняным.

7. Направление долевой нити учитывают:

а) чтобы изделие меньше сминалось; б) для наиболее экономного раскроя ткани;
в) чтобы избежать деформации изделия в процессе носки; г) просто так принято.

8. Кто и в каком веке предложил первый проект машины для пошива одежды?

9. При выкраивании подкройной обтачки ее долевую нить располагают:

а) перпендикулярно долевой нити основной детали; б) по направлению долевой нити основной детали;
в) под углом 45 градусов; г) поперек обтачки.

10. Установите соответствие: 1 - _____ 2 - _____ 3 - _____ 4 - _____

1. Прокалывает ткань, проводит через неё нитку А) зубчатая рейка
2. Перемещает ткань Б) игла
3. Прижимает ткань к игольной пластине В) челнок
4. Захватывает петлю иглы, осуществляя переплетение верхней и нижней нити Г) лапка


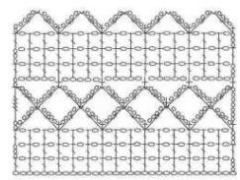
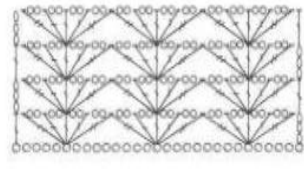





11. Тесьма-молния в женской одежде втачивается в _____ боковой шов.

12. Ремонт разрыва одежды без наложения заплата – это:

а) штопка; б) роспись; в) вышивка.

13. Объемную буклированную поверхность можно получить с помощью: а) тамбурного шва;
б) стебельчатого шва; в) штриховой глади; г) шва «узелки»; д) двусторонней глади.

14. Составьте пары, подобрав название для различных видов вязания крючком:

1. 	2. 	3. 	4. 
А. 	Б. 	В. 	Г. 

15. Ресурсы семьи – это денежные, материальные и производственные , ценности, запасы, возможности, источники средств и доходов.

а) связи; б) нормы; в) средства; г) возможности.

16. Постоянные расходы семьи – это расходы, которые нужно осуществить или запланировать в начале какого-либо периода, и они к его концу.

а) изменяются; б) стабилизируются; в) балансируют; г) не изменяются.

17. Тепловое действие электрического тока используется в:

а) электроутюгах; б) выпрямителях; в) лампах накаливания; г) асинхронных двигателях; д) двигателях постоянного тока.

18. Деталь аппаратуры для подсоединения к источнику электроэнергии:

а) розетка; б) вилка; в) предохранитель; г) выключатель.

19. Сознательный процесс выявления и утверждения собственной позиции в выборе будущей профессии называется _____

20. Запишите виды труда человека:

- _____.
- _____.
- _____.
- _____.
- _____.
- _____.

21. Форма общественного сознания, регулирующая действия людей в обществе с помощью выработанных норм, - это _____

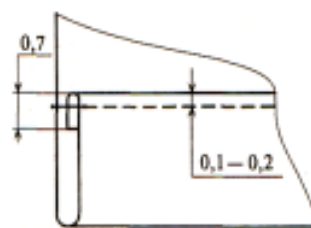
а) духовная культура; б) юриспруденция; в) гражданский кодекс; г) право; д) мораль.

22. Из предложенных терминов выберите термины, соответствующие графическому изображению

1. Притачать
2. Настрочить
3. Застрочить
4. Обтачать
5. Стачать
6. Подшить



А)



Б

Ответ А) _____ Б) _____

23. Как называется процесс одноразового нагревания жидких продуктов или веществ до 60 °С в течение 60 минут или при температуре 70—80 °С в течение 30 минут?

а) Консервирование б) Пастеризация в) Стерилизация

24. Установите соответствие оборудования, которое использовалось представителями этой профессии в старину и которое используется сейчас. Ответ: А - ____; Б - ____; В - ____

В старину:

А. 	Б. 	В. 
---	---	---

Сейчас:

1 	2 	3 
---	--	--

25. Творческое задание. Вам предложены силуэты фигур.

1. Предложите по одной модели платья в разных стилях: классическом и романтическом. Используя цветные карандаши, выполните эскизы этих моделей.
2. Опишите внешний вид моделей по предложенной форме.
3. Рекомендуйте ткани (волокнистый состав) для каждой модели.



Модель 1

Изделие _____

Стиль _____

Силуэт _____

Ткань _____

Модель 2

Изделие _____

Стиль _____

Силуэт _____

Ткань _____