



**ТЕХНОЛОГИЯ**  
**ВСЕРОССИЙСКАЯ**  
**ОЛИМПИАДА**  
**ШКОЛЬНИКОВ**

**2021-2022 уч.год**

**ШИФР**

--	--	--	--	--	--

**Муниципальный этап ВсОШ 2021**  
**по предмету «Технология»**

**Фамилия, имя, отчество полностью:**

**Число, месяц, год рождения (ДД.ММ.ГГГГ):**

**Класс учащегося:**

**За какой класс учащийся пишет работу:**

**Полное название образовательной организации:**

**Название района или города:**

**ФИО педагогического работника, подготовившего к олимпиаде**

# ВСЕРОССИЙСКАЯ ОЛИМПИАДА ШКОЛЬНИКОВ ПО ТЕХНОЛОГИИ

2021–2022 уч. год

## МУНИЦИПАЛЬНЫЙ ЭТАП

Номинация «Культура дома, дизайн и технологии»

Теоретический тур

7-8 класс

**Максимальное количество баллов -25**

Время выполнения заданий теоретического тура 2 академических часа (90 минут).

Выполнение теоретических (письменных, творческих) заданий целесообразно организовать следующим образом:

- не спеша, внимательно прочитайте задание и определите, наиболее верный и полный ответ;

- отвечая на теоретический вопрос, обдумайте и сформулируйте конкретный ответ только на поставленный вопрос;

- если Вы выполняете задание, связанное с заполнением таблицы или схемы, не старайтесь детализировать информацию, вписывайте только те сведения или данные, которые указаны в вопросе;

- особое внимание обратите на задания, в выполнении которых требуется выразить Ваше мнение с учетом анализа ситуации или поставленной проблемы. Внимательно и вдумчиво определите смысл вопроса и логику ответа (последовательность и точность изложения). Отвечая на вопрос, предлагайте свой вариант решения проблемы, при этом ответ должен быть кратким, но содержать необходимую информацию;

- после выполнения всех предложенных заданий еще раз удостоверьтесь в правильности выбранных Вами ответов и решений.

Выполнение тестовых заданий целесообразно организовать следующим образом:

- не спеша, внимательно прочитайте тестовое задание;

- определите, какой из предложенных вариантов ответа наиболее верный и полный;

- напишите букву, соответствующую выбранному Вами ответу;

- продолжайте, таким образом, работу до завершения выполнения тестовых заданий;

- после выполнения всех предложенных заданий еще раз удостоверьтесь в правильности ваших ответов;

- если потребуется корректировка выбранного Вами варианта ответа, то неправильный вариант ответа зачеркните крестиком, и рядом напишите новый.

Предупреждаем Вас, что:

- при оценке тестовых заданий, где необходимо определить один правильный ответ, 0 баллов выставляется за неверный ответ и в случае, если участником отмечены несколько ответов (в том числе правильный), или все ответы;

- при оценке тестовых заданий, где необходимо определить все правильные ответы, 0 баллов выставляется, если участником отмечены неверные ответы, большее количество ответов, чем предусмотрено в задании (в том числе правильные ответы) или все ответы.

Задание теоретического тура считается выполненным, если Вы вовремя сдаете его членам жюри.

**Максимальная оценка – 25 баллов.**



4. (1 балл) Что началось раньше – массовое использование персональных компьютеров или общение в сети Интернет?

Ответ: \_\_\_\_\_  
\_\_\_\_\_  
\_\_\_\_\_

5. (1 балл) Из какой ткани по волокнистому составу изготовлена блуза, если на ярлычке по уходу за изделием изображены такие значки?




Ответ: \_\_\_\_\_

6. (1 балл) Портные используют сокращения для обозначения мерок. Как портной для кошек запишет мерку «длина хвоста»?

Ответ: \_\_\_\_\_

7. (1 балл) Как называется ткацкое переплетение, схема которого изображена на рисунке?



Ответ: \_\_\_\_\_

8. (1 балл) К какой группе относится волокно, из которого производится шёлк?

Ответ: \_\_\_\_\_  
\_\_\_\_\_  
\_\_\_\_\_

9. (1 балл) Отметьте правильный ответ. К дефектам тканей не относится:

А. несовпадение красителя с контуром рисунка;

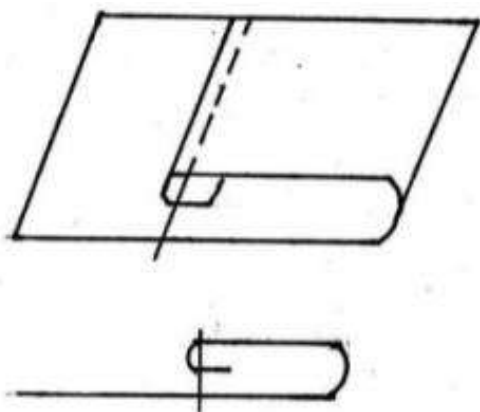
Б. порванный участок ткани;

В. маркировка завода-изготовителя;

Г. загрязнение отдельных участков ткани


Ответ: \_\_\_\_\_

10. (1 балл) Каким швом обрабатывают нижний срез фартука из хлопчатобумажной ткани? Сделайте графическое изображение и нарисуйте схему такого шва.



Ответ: \_\_\_\_\_  
\_\_\_\_\_  
\_\_\_\_\_

11. (1 балл) У Наташи есть бусины пяти видов: квадратные белые и чёрные, круглые белые и чёрные, чёрные треугольные. Девочка решила сделать браслет и стала нанизывать их в таком порядке:



Какая бусина будет на 23-м месте, если Наташа сохранит начатый порядок?

Ответ: \_\_\_\_\_

12. (1 балл) Расположите буквы в правильном порядке, разгадайте зашифрованное слово, получите название места возникновения русского народного промысла.

***а о о л м х х***

Ответ: \_\_\_\_\_

**13. (1 балл)** Как называется вид рукоделия, для которого используются материалы и оборудование, изображённые на рисунках?



**Ответ:** \_\_\_\_\_

**14. (1 балл)** На какое максимальное количество кусков обоев по 265 см можно разрезать рулон длиной 10 м? Запишите решение и ответ.

**Решение:** \_\_\_\_\_

\_\_\_\_\_

**Ответ:** \_\_\_\_\_

**15. (1 балл)** Как называются пищевые продукты, о которых говорится в отрывке из стихотворения?

«В коровьем молоке богатство ваше, А также в сыре, масле, простокваше. И вы, конечно, отрицать не станете: В кефире молодость, а красота – в сметане»?

**Ответ:** \_\_\_\_\_

**16. (1 балл)** Для приготовления рассола в 1 литре пресной воды растворили 50 г соли. Определите концентрацию соли в рассоле. Запишите решение и ответ. Ответ округлите до десятых.

**Решение:** \_\_\_\_\_

\_\_\_\_\_

**Ответ:** \_\_\_\_\_

17. (1 балл) Какие обои визуально увеличивают размер помещения?

Ответ: \_\_\_\_\_  
\_\_\_\_\_  
\_\_\_\_\_

18. (1 балл) Доход семьи складывается из зарплаты мужа и жены и составляет 80 000 рублей в месяц. Какую зарплату получает жена, если зарплата мужа в 1,5 раза больше зарплаты жены? Запишите решение и ответ.

Решение: \_\_\_\_\_  
\_\_\_\_\_  
\_\_\_\_\_

Ответ: \_\_\_\_\_

19. (1 балл) О какой профессии идёт речь в отрывке из стихотворения?

...Хотелось праздничных одежд.  
Но есть слова про это дело:  
Семь раз примерь, один – отрежь.

Ответ: \_\_\_\_\_

20. (1 балл) Выберите оборудование, которое использовалось представителями профессии, загаданной заданием выше, в старину и которое используется сейчас.

В старину



А



Б



В

Сейчас



1



2

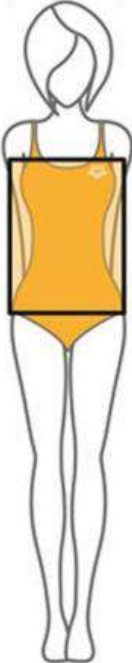


3

Ответ: \_\_\_\_\_

**21. (5 баллов) Творческое задание. На рисунке представлен тип женской фигуры Прямоугольник**

1. Выполните рядом с рисунком эскиз модели для фигуры Прямоугольник.
2. Опишите внешний вид модели по предложенной форме.
3. Дайте рекомендации по подбору одежды и аксессуаров для данной фигуры.

	<p><b>эскиз модели для фигуры Прямоугольник</b></p>
--	---

Описание внешнего вида изделия

Наименование изделия \_\_\_\_\_

Характеристика ткани \_\_\_\_\_

Силуэт \_\_\_\_\_

Покрой \_\_\_\_\_

Застежка \_\_\_\_\_

Описание деталей \_\_\_\_\_

\_\_\_\_\_

Отделка \_\_\_\_\_

Цвет \_\_\_\_\_

Рекомендации \_\_\_\_\_

**Оценка выполнения творческого задания:**

№ п/п	Вид работ	Кол-во баллов
1	Эскиз платья в цвете	2 балла
2	Описание модели платья по эскизу	1 балл
3	Выбор декоративной отделки	1 балл
4	Выбор ткани	1 балл
	<b>ИТОГО:</b>	<b>5 баллов</b>