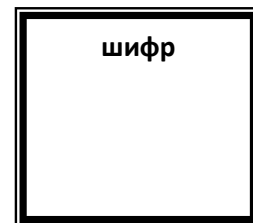


# ВСЕРОССИЙСКАЯ ОЛИМПИАДА ПО ТЕХНОЛОГИИ.

## РЕГИОНАЛЬНЫЙ ЭТАП



### Теоретический тур

*номинация*

*«Культура дома и декоративно-прикладное творчество»*

**возрастная группа 7 - 8 класс**

Уважаемый участник олимпиады!

Вам предстоит выполнить теоретические и тестовые задания. Время выполнения заданий теоретического тура 2 академических часа (90 минут).

Выполнение теоретических (письменных, творческих) заданий целесообразно организовать следующим образом:

– не спеша, внимательно прочитайте задание и определите, наиболее верный и полный ответ;

– отвечая на теоретический вопрос, обдумайте и сформулируйте конкретный ответ только на поставленный вопрос;

– если Вы выполняете задание, связанное с заполнением таблицы или схемы, не старайтесь детализировать информацию, вписывайте только те сведения или данные, которые указаны в вопросе;

– особое внимание обратите на задания, в выполнении которых требуется выразить Ваше мнение с учетом анализа ситуации или поставленной проблемы. Внимательно и вдумчиво определите смысл вопроса и логику ответа (последовательность и точность изложения). Отвечая на вопрос, предлагайте свой вариант решения проблемы, при этом ответ должен быть кратким, но содержать необходимую информацию;

– после выполнения всех предложенных заданий еще раз удостоверьтесь в правильности выбранных Вами ответов и решений.

Выполнение тестовых заданий целесообразно организовать следующим образом:

– не спеша, внимательно прочитайте тестовое задание;

– определите, какой из предложенных вариантов ответа наиболее верный и полный;

– обведите букву, соответствующую выбранному Вами ответу или установите соответствие в задании, или впишите правильный ответ;

– продолжайте, таким образом, работу до завершения выполнения тестовых заданий;

– после выполнения всех предложенных заданий еще раз удостоверьтесь в правильности ваших ответов;

– если потребуется корректировка выбранного Вами варианта ответа, то неправильный вариант ответа зачеркните крестиком, и рядом напишите новый.

Предупреждаем Вас, что:

– при оценке тестовых заданий, где необходимо определить один правильный ответ, 0 баллов выставляется за неверный ответ и в случае, если участником отмечены несколько ответов (в том числе правильный), или все ответы;

– при оценке тестовых заданий, где необходимо определить все правильные ответы, 0 баллов выставляется, если участником отмечены неверные ответы, большее количество ответов, чем предусмотрено в задании (в том числе правильные ответы) или все ответы.

Задание теоретического тура считается выполненным, если Вы вовремя сдаете его членам жюри.

Максимальная оценка – 25 баллов.

## ЗАДАНИЯ ТЕОРЕТИЧЕСКОГО ТУРА

**1. Возможные или действительные попытки завладеть защищаемыми информационными ресурсами называется**

*Ответ* \_\_\_\_\_

**2. Перечислите способы противоправных действий получения доступа к защищаемой информации**

*Ответ* \_\_\_\_\_

**3. Соотнесите сферы производства и примеры**

1. Производство	a. Доставка хлеба в магазин
2. Распределение	b. Употребление хлеба по время приема пищи
3. Обмен	c. Выпечка хлеба
4. Потребление	d. Продавец продает хлеб, покупатель платит деньги

1	2	3	4

**4. Экологическая мораль – это...**

- a. система представлений о мире и отношений к природе
- b. восприятие природных объектов
- c. стремление к балансу во взаимодействие человека с окружающей средой
- d. способность ограничивать свои потребительские аппетиты в природе

**5. Перечислите виды текстильных волокон**

*Ответ* \_\_\_\_\_

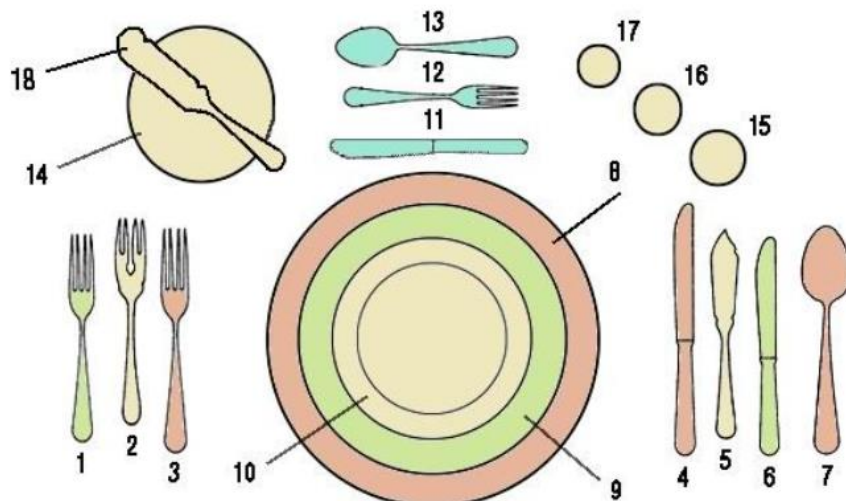
**6. Назовите процесс получение узорчатых расцветок на белой или окрашенной ткани**

*Ответ* \_\_\_\_\_

**7. Разновидность декоративного искусства, орнаментальная или изобразительная роспись сосудов различного назначения, форм и материалов**

- a. Буккеро
- b. Вазопись
- c. Фаянс

**8. Укажите номера столовых приборов**



Ответ

---

**9. Припускание предварительно обжаренного или пассированного продукта с добавлением специй и жидкости**

- a. тушение
- b. запекание
- c. копчение
- d. пассерование

**10. Что обозначает данный условный знак?**




Ответ




---

**11. Изобразите значок условного обозначения «Сушка на горизонтальной поверхности»?**

ответ






**12. Соотнесите виды ручных швов с их изображением**

1. Вперед иголку	 <p>a.</p>
2. Назад иголку	 <p>b.</p>
3. Стебельчатый	 <p>c.</p>

1	2	3

**13. Соотнесите обозначение видов швов на машинках с их изображением**




1. Кромочная строчка	 <p>a.</p>
2. Прямая строчка	 <p>b.</p>
3. Зигзаг	 <p>c.</p>

1	2	3

**14. Назовите виды стачного шва**

*Ответ* \_\_\_\_\_


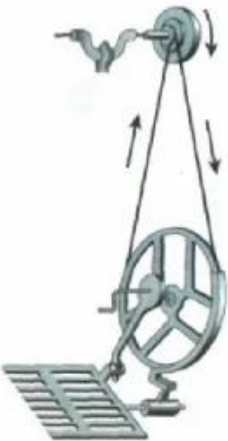

15. Соотнесите виды игл с их изображением

 <p style="text-align: right;">1</p>	а) для кожи
 <p style="text-align: right;">2</p>	б) для трикотажа
 <p style="text-align: right;">3</p>	с) универсальная


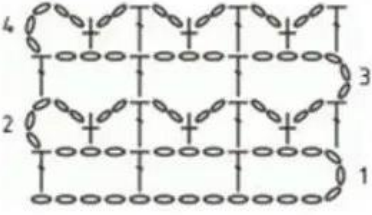

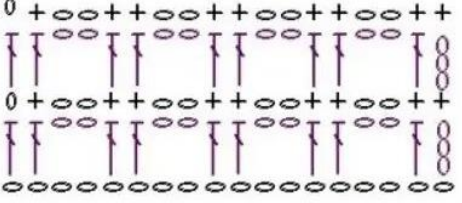

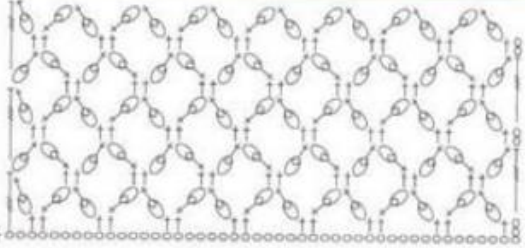
Ответ:

1	2	3

16. Подпишите, какой привод швейной машины изображен на рисунках




**17. Установите соответствие схем и образцов**

 <p>1</p>	 <p>a)</p>
 <p>2</p>	 <p>b)</p>
 <p>3</p>	 <p>c)</p>

Ответ:

1	2	3

**18. История костюма. Соотнесите картинки с названиями колье**

 <p>1</p>	 <p>2</p>	 <p>3</p>
--	---	--

a) чокер	b) коллар	c) матине
----------	-----------	-----------

Ответ:

1	2	3

**19. Начертите условное обозначение настрочной шов с двумя открытыми срезами**



**20. Предложите вариант узора из прямоугольных полосок для изготовления прихватки в технике «Лоскутная пластика». Дайте ему название. Подберите цвета, используя сочетания цветового круга. Обоснуйте выбор цветовой гаммы**