

Всероссийская олимпиада школьников по технологии
2023/2024 учебный год

Муниципальный этап

Теоретический тур

Профиль «Культура дома, дизайн и технологии»

7-8 классы

ЗАДАНИЯ

Уважаемый участник олимпиады!

Вам предстоит выполнить **20** теоретических и тестовых заданий и **1** кейс-задание.

Время выполнения заданий теоретического тура **2** академических часа (**90** минут).

Выполнение **тестовых заданий** целесообразно организовать следующим образом:

- не спеша, внимательно прочитайте тестовое задание;
- определите, какой из предложенных вариантов ответа наиболее верный и полный;
- напишите букву, соответствующую выбранному Вами ответу;
- продолжайте, таким образом, работу до завершения выполнения тестовых заданий;
- после выполнения всех предложенных заданий еще раз удостоверьтесь в правильности ваших ответов;
- если потребуется корректировка выбранного Вами варианта ответа, то неправильный вариант ответа зачеркните крестиком, и рядом напишите новый.

Выполнение **теоретических (письменных, творческих) заданий** целесообразно организовать следующим образом:

- не спеша, внимательно прочитайте задание и определите, наиболее верный и полный ответ;
- отвечая на теоретический вопрос, обдумайте и сформулируйте конкретный ответ только на поставленный вопрос;
- если Вы выполняете задание, связанное с заполнением таблицы или схемы, не старайтесь детализировать информацию, вписывайте только те сведения или данные, которые указаны в вопросе;
- особое внимание обратите на задания, в выполнении которых требуется выразить Ваше мнение с учетом анализа ситуации или поставленной проблемы. Внимательно и вдумчиво определите смысл вопроса и логику ответа (последовательность и точность изложения). Отвечая на вопрос, предлагайте свой вариант решения проблемы, при этом ответ должен быть кратким, но содержать необходимую информацию;
- после выполнения всех предложенных заданий еще раз удостоверьтесь в правильности выбранных Вами ответов и решений.

Предупреждаем Вас, что:

- при оценке тестовых заданий, где необходимо определить **один** правильный ответ, **0** баллов выставляется за неверный ответ и в случае, если участником отмечены все предложенные ответы;
- при оценке тестовых заданий, где необходимо определить **все** правильные ответы, **0** баллов выставляется, если участником отмечены неверные ответы и в случае, если участником отмечены все предложенные ответы.

Задание теоретического тура считается выполненным, если Вы вовремя сдаете его членам жюри.

Максимальная оценка – 25 баллов (из них творческое кейс-задание оценивается в 5 баллов).

ЗАДАНИЯ ВЫПОЛНЯЮТСЯ НА БЛАНКЕ ОТВЕТОВ.

Общие вопросы

1. Как называется бытовое оборудование изображенное на рисунке?



2. Какой формат является самым маленьким:

а) А0; б) А1; в) А2; г) А3; д) А4

3. Назовите профессии двух сестер – злодеек из «Сказки о царе Салтане» А.С. Пушкина?

4. *Завершите предложение.*

Вид строительных отделочных материалов для облицовки стен и потолков внутри помещений – это...

5. Приведение в порядок отдельных покрытий и материалов, восстановление или ремонт инженерного оборудования внутри помещения – водо-, газо-, теплоснабжения и электропроводки. Как называют вид данный вид ремонтных работ?

Специальные вопросы

6. Выберите правильный ответ.

Орнаменты подразделяются на следующие виды:

- а) растительный, зооморфный, арифметический, антропологический;
- б) геометрический, растительный, зооморфный, антропоморфный;
- в) геометрический, узорчатый, зигзагообразный, антропоморфный.

7. Какой образ наиболее традиционен для богородской игрушки?

- а) Матрёшка.
- б) Медведь.
- в) Конь.
- г) Ангел.

8. Определите соответствие.

Отгадайте названия мебели.

1. В нём — старинная посуда Или новенький сервиз, Без него не кухне пусто, Свысока он смотрит вниз, Важный и солидный очень, Он помочь хозяйке хочет.	А. Диван
2. Похож на шкаф, но только ниже, И каждый ящик в нем подвижен. Белья в нем много поместиться И ничего с ним не случится.	Б. Буфет
3. Ни калитка, ни домик Двери есть и есть замок. В нём живут: костюм с кармашком, Брюки, платья и рубашки. Он высок и величав – Гладкий и красивый	В. Шкаф
4. Этот предмет у нас дома один — Всеми домашними очень любим. Дедушка хочет на нем хоть чуть-чуть После обеда прилечь и вздремнуть. Бабушка к вечеру очень устала: Сядет и будет смотреть сериалы.	Г. Комод

**7-8 классы. МЭ ВсОШ. Технология. КДТ. Республика Башкортостан
2023-2024 учебный год**

9. Выберите верный ответ.

Что такое «красный угол»?

- | | |
|--|---|
| 1. Угол, где размещалась икона. | 3. Угол, который завешивали красной шторой. |
| 2. Угол, который красили красным цветом. | 4. Угол, где красна девица сидит. |

10. Выберите верный ответ.

Первые пуговицы появились:

- а) на Востоке; б) в Германии; в) во Франции.

11. Выберите верный ответ.

Моделирование – это:

- | | |
|---|-----------------------|
| а) выполнение расчета и построение чертежа; | в) снятие мерок; |
| б) создание различных фасонов; | г) все варианты верны |

12. Установите соответствие между названием мерки и ее обозначением.

1) Высота сидения	а) Ст
2) Полуобхват талии	б) Сrll
3) Полуобхват груди второй	в) Дгс
4) Полуобхват бедер	г) Оп
5) Длина спины до талии	д) Сб
6) Обхват плеча	е) Вс

13. Расположите перечисленные ниже материалы в порядке увеличения прочности волокна:

- а) хлопок, б) лён, в) шерсть, г) шёлк.

14. Прочитайте приведённые ниже утверждения. Укажите то или те, которые являются верными. Если в задании есть неверное утверждение, то объясните, почему оно неверное.

- а) Чем больше площадь поперечного сечения волокна, тем больше его плотность.
б) Из длинных волокон можно получить более прочную пряжу.

15. Выберите правильный ответ.

Винт в шпульном колпачке нужен:

- а) для регулирования натяжения верхней нити;
- б) для регулирования натяжения нижней нити;
- в) для соединения деталей челнока в единое целое.

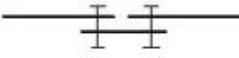

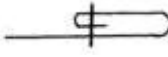

16. Выберите правильный ответ.

Выбор длины стежка при изготовлении швейного изделия зависит от:

- а) толщины нити;
- б) назначения строчки;
- в) назначения швейного изделия;
- г) положения регулятора длины стежка.

17. Каким образом получают стерилизованное молоко?

18. Установите соответствие между названием шва и его условным обозначением

1	двойной	А	
2	Вподгибку с закрытым срезом	Б	
3	Шов встык	В	
4	Стачной шов вразутюжку	Г	

19. Выберите верный ответ.

Техника и вид изобразительного искусства, заключающиеся в создании живописных или графических произведений путем наклеивания на какую-либо основу материалов, различных по цвету и фактуре. Допускает возможность применения объемных элементов в композиции.

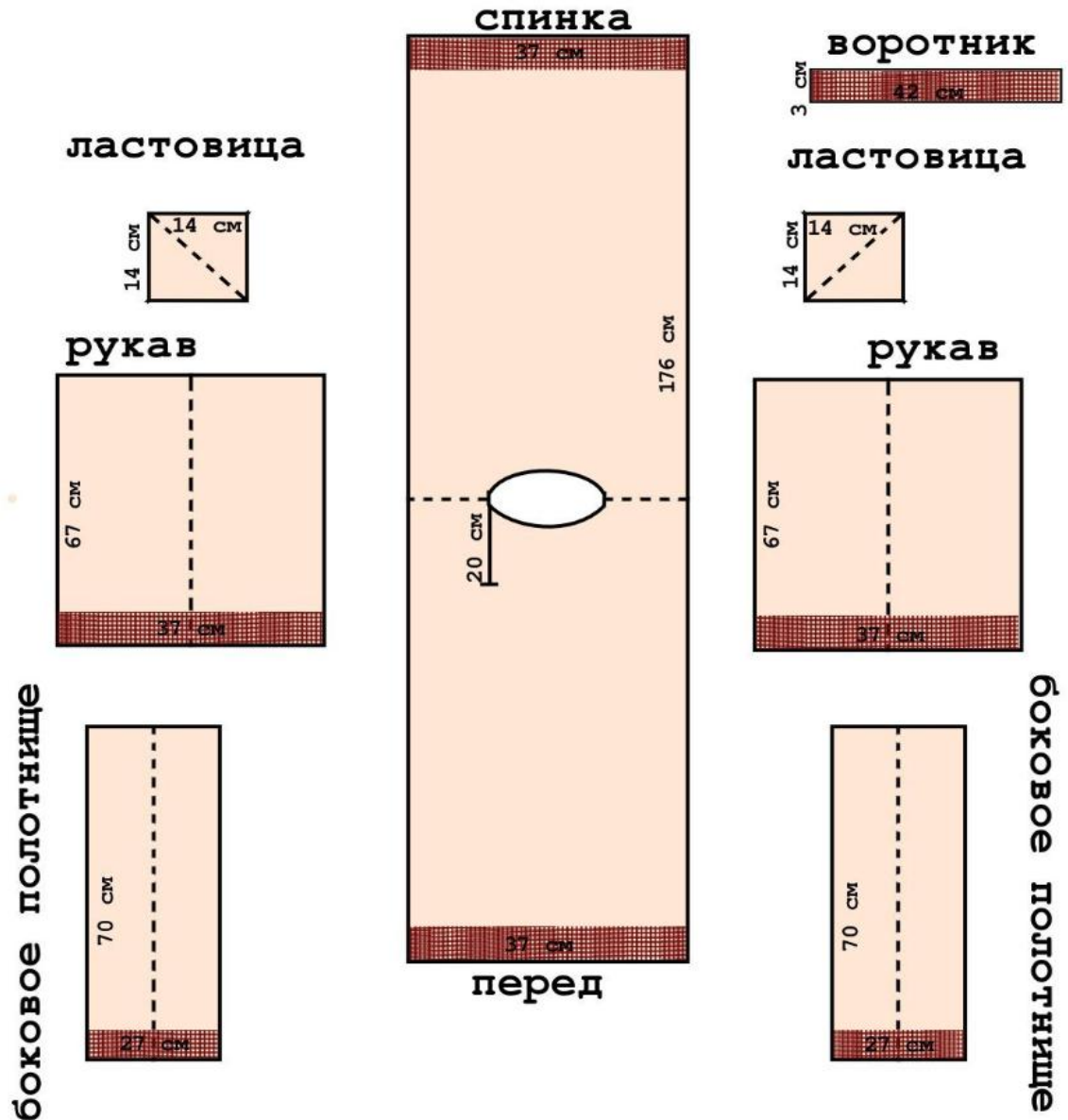
- а) Мозаика.
- б) Коллаж.
- в) Витраж.
- г) Аппликация.

20. Как называется цветовая основа красок?

- а) Пигмент.
- б) Растворитель.
- в) Связующее вещество.

Кейс-задание

21. Вам предложены детали кроя одежды.



- 21.1. Определите, какое это изделие и выполните эскиз модели согласно деталям кроя (вид спереди).
- 21.2. Сделайте описание модели по эскизу.
- 21.3. Предложите вариант декоративной отделки.
- 21.4. Предложите ткани (или волокнистый состав) для этой модели швейного изделия.

Задания выполните на бланке ответов.