

**Задания теоретического конкурса по номинации  
«Культура дома и декоративно-прикладное творчество»**

**9 класс**

**Технология**

Шифр \_\_\_\_\_

**Общая часть**

1. Назовите современную технологию, позволяющую создать подобие текстильного материала. Изделия из этого материала не имеют ни швов, ни стыков. Материал также усиливает звукоизоляционные свойства.

Технологию можно применять на любых поверхностях: плоских, объёмных и других.

Ответ: \_\_\_\_\_



2. Определите, что относится к производственному процессу. Выберите один правильный ответ

а) законченная часть операции, характеризующаяся постоянством применяемого инструмента и обрабатываемых поверхностей;

б) совокупность всех действий людей и орудий производства для превращения полуфабрикатов в изделия;

в) предмет, являющийся продуктом конечной стадии производства

Ответ: \_\_\_\_\_

**Кулинария**

3. Решите задачу.

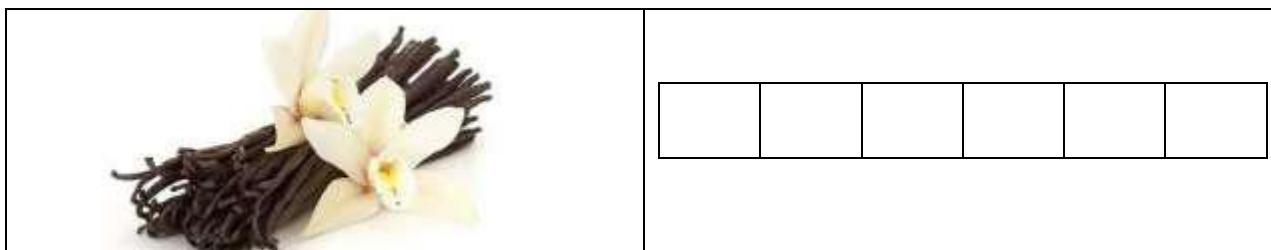
При разделке туши в условиях производства масса мякоти составляет 82,3%, отходы составляют 17 %, в потери при разделке уходит 0,8%. Определите массу мякоти готовой продукции, если на производство поступает туша массой 112 кг. Ответ округлить до целых долей.

Решение \_\_\_\_\_

4. Объясните, как влияет излишнее количество сахара на свойства сдобного теста при выпечке?

Ответ: \_\_\_\_\_

5. Назовите растение, которое произрастает в Южной Америке, является «родственником» орхидеи, имеет жёлто-белые цветы. После цветения на растении остаются зеленые стручки, которые подвергаются определённой технологии высушивания. После высыхания стручков на них образуются белые кристаллы, указывающие на готовность семян, из которых впоследствии получают ингредиент с приятным запахом, активно применяемый в приготовлении десертов.



### Материаловедение

6. Прочитайте текст. Определите, о производстве какой ткани идёт речь. Вставьте название ткани в текст.

Мануфактурщик XIX века Томас Барберри в 1880 году изобрёл способ плетения шерсти, благодаря которому ткань приобрела способность отталкивать капли дождя.

Первоначально для производства \_\_\_\_\_ использовали только тонкую шерсть овец- мериносов. Волокна основы крепко скручивали вдвое, в то время как более толстые нити пускали по утку одинарными. Их сплетали саржевым способом под острым углом (45-63°). В результате получалась ткань, абсолютно гладкая с изнанки, но имеющая оригинальный рельеф в виде мелких диагональных полосок на лицевой поверхности.

7. Вам предложены два образца ткани с разной плотностью. Сравнив образцы по весу, закончите утверждение:


«Ткань с большей плотностью переплетения нитей \_\_\_\_\_».

8. Объясните, какой способ изготовления ткани явился причиной возникновения фразеологизма, дошедшего до наших дней: «...положить зубы на полку».

Ответ: \_\_\_\_\_

9. Рассмотрите схему переплетения нитей, определите наименование переплетения, опишите внешний вид ткани.

Схема	Наименование	Описание внешнего вида
-------	--------------	------------------------

	переплетения	ткани
		

10. Используя ответ вопроса 9, укажите волокнистый состав для тканей данного переплетения и их область применения:

Ответ: \_\_\_\_\_

11. В Древней Греции носили одежды, в конструкцию которой входило плиссе. Используя слова для справок, предположите каким приспособлением добивались эффекта плиссе.

Слова для справок:

а) металлический прут; б) молоток.

Ответ: \_\_\_\_\_

12. Прочитайте текст. Назовите 2 - 3 технические характеристики, которыми следует руководствоваться при выборе бытового прибора.

Из истории развития бытового оборудования известно, что в 1868 году запатентовали музыкальный утюг, издающий при глажке мелодичные звуки.

Это милосердное изобретение было призвано сделать работу белошвеек и гладильщиц менее изнурительной. В 1903 году американец Эрл Ричардсон уговорил нескольких домохозяек опробовать его новое изобретение – облегченный утюг с электрическим нагревом.

Ответ: \_\_\_\_\_

### Проектирование и изготовление швейного изделия

13. Вашему вниманию предложен проект моделей спортивной одежды Варвары Степановой (1925г), в котором использованы основные принципы конструктивизма, способствовавшего становлению современного художественного конструирования одежды. Назовите принципы, использованные модельером при проектировании

данной одежды.



Ответ: \_\_\_\_\_

14. Что объединяет костюмы разных народов, названия которых перечислены ниже: Армяк (Россия), архалук (Кавказ), бачкон (Армения), бешмет (Средняя Азия), бэрн (Англия), веста (Франция), аба (Ближний восток)

Ответ: \_\_\_\_\_

15. Вам надо создать объём в швейном изделии. Предложите способ получения из плоской детали изделия на выкройке необходимого объема, соответствующего фигуре человека в процессе проектирования.

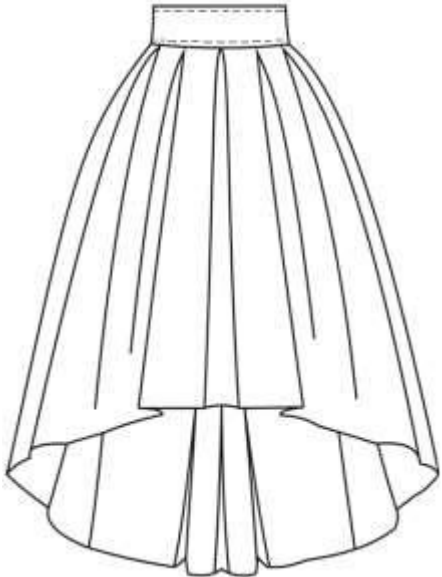
Ответ: \_\_\_\_\_

16. Для одежды строителей, дорожных полицейских используют оранжевый цвет. Отметьте пункты, характеризующие этот цвет:

- - а) хроматический цвет,
- - б) ахроматический цвет;
- - в) теплый;
- - г) холодный;
- - д) яркий
- - е) мягкий;
- - ж) светлый;
- - з) насыщенный.

17. Зарисуйте схему обработки пояса для данной модели, укажите цифрами

последовательность этапов выполнения.

Эскиз модели	Схема обработки пояса
	

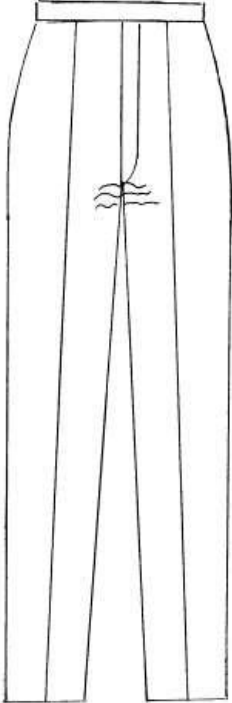
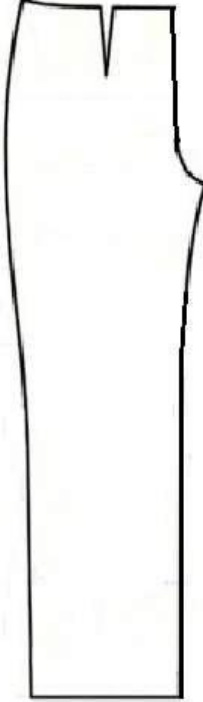
18. Рассмотрите эскизы и модели, приведенные в таблице, назовите метод проектирования одежды, который пришёл в Индустрию моды из театра и символизирует гротескный образ, широко используемый в современном модном эскизе, а также в моделях некоторых современных дизайнеров одежды: японского дизайнера Иссея Мияке (Issey Miyake), английского дизайнера Александра Мак-Куина (McQueen), бельгийского кутюрье Дрис Ван Нотена (Dries Van Noten) и др.



Ответ:

---

19. При примерке изделия обнаружен дефект: напряженные горизонтальные складки под передним швом брюк. Укажите причины возникновения дефекта. Предложите (напишите) алгоритм решения исправления дефекта (на выкройке).

Эскиз	Способ устранения
	

### История костюма

20. Определите, какой стиль явился прототипом коллекции всемирно известного британского дизайнера Джона Гальяно (John Galliano).

С первого взгляда на костюмы из коллекции Джона Гальяно, становится ясно, что для создания его моделей сарафанов, блузок, юбок, платьев, головных уборов и прочих деталей гардероба потрачено немало часов - как на исследования традиций народных костюмов, так и на вышивку и отделку ручной работы. Этот стиль может быть женственным и бунтарским, элегантным и небрежным, но неизменно одно – этот стиль притягивает взгляды и всегда смотрится свежо и оригинально.



Ответ: \_\_\_\_\_

21. Назовите имя одного из лучших в истории России художника - модельера, создателя русской модной школы.

Среди известных работ этого художника особое место занимают костюмы для театральных постановок режиссёра театра К.С. Станиславского.

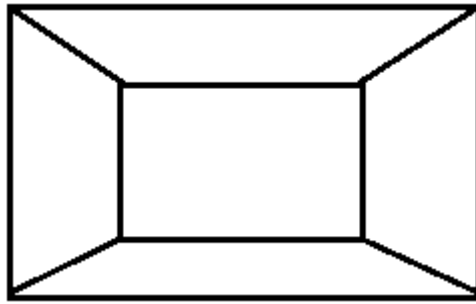


Ответ: \_\_\_\_\_

### Интерьер

22. Вы ремонтируете квартиру малой площади. Предложите вариант решения, которое поможет Вам создать иллюзию удлинения помещения. Заштрихуйте нужные части

помещения, изображённого в перспективе, которые следует изменить, используя строительные материалы (обои, краску, пластик и другие).



### Рукоделие

23. Определите и напишите при вывязывании какого изделия из пряжи, наблюдается определённая закономерность. Известно, что в третьем ряду петель в 2 раза меньше, чем в пятом, а в седьмом ряду в 3 раза больше, чем в третьем. Сумма петель в этих трёх рядах составляет 36 петель. Сколько петель содержит каждый перечисленный ряд? В какой конструкции изделия может наблюдаться такая закономерность?

Ответ:

---

### Предпринимательство

24. Решите задачу.

После удержания налога на доходы, шеф-повар кафе получил 69600 руб. Определите заработную плату шеф-повара с учётом ставки НДФЛ (налог на доходы физических лиц) в РФ.

Решение: \_\_\_\_\_

---

25. Решите задачу.

При последовательном сочетании операций обработка партии деталей одежды на каждой последующей операции начинается после завершения обработки партии на предыдущей операции. Определите, сколько времени потребуется на выпуск партии из 4-х деталей, которые обрабатываются на 4-х операциях с длительностью обработки одной детали:  $t_1=5$  мин;  $t_2= 5$  мин;  $t_3 = 6$  мин;  $t_4= 8$  мин.

Решение: \_\_\_\_\_