

**Муниципальный этап
Всероссийской олимпиады школьников
по Искусству (мировой художественной культуре)
2017/2018 учебного года**

7-8 класс

Номер задания	Баллы
1	
2	
3	
4	
5	
6	
Общий балл	

Задание 1

Перед Вами 4 слова, в которых буквы переставлены местами. Каждому слову соответствует одно из 6 изображений.

1.Расшифруйте написанные слова. Впишите их в таблицу вместе с номером соответствующего изображения.

2.Кратко поясните в таблице смысл понятия и предназначения, выраженного расшифрованным словом.

3.Напишите, к какому виду искусства относятся расшифрованные понятия.

ОБМЕРБТЛ

РОТАБНМ

АНКЧАКЕ

САЙЕРЦИН



Таблица ответов

№ соответствующего изображения	Расшифрованное слово	Значение понятия	Вид искусства
1			
2			
3			
4			

Баллы

Задание 2

1. Познакомьтесь с приметами произведения искусства, приведенными в тексте

1. Определите произведение по перечисленным приметам.
2. Укажите вид искусства, к которому оно принадлежит.
3. Обоснуйте выбор названия произведения, выделив в тексте сведения, которые помогают Вам найти ответ.
4. К культуре какого народа произведение принадлежит?
5. Укажите век или эпоху, когда он был создан.
6. Если возможно, укажите место его нахождения.

Текст.

Сооружен на главной торговой площади, Его построили русские зодчие Барма и Постник в честь взятия Казани и Астрахани по указу царя Ивана Грозного.

Архитектура собора уникальна и удивительна, она привлекает внимание историков, культурологов, искусствоведов и туристов.

Собор представляет собой ансамбль из восьми различных по форме церквей, увенчанных куполами-луковицами, традиционными для русской архитектуры. Каждая церковь названа в честь святого, в чей памятный день произошло важное событие во время походов царя Ивана Грозного на Казань. Центральная церковь посвящена православному празднику Покрова Божией Матери.

Таблица ответов

1	
2	
3	
4	
5	
6	

Баллы

Задание 3

Объедините понятия и термины в группы. Дайте определение каждой группе.

Живопись. Менуэт. Готика. Графика. Портрет. Роман. Модерн. Натюрморт. Повесть. Пейзаж. Барокко. Скульптура. Вальс. Пьеса. Сарабанда.





Таблица ответов

№	Ряд	Определение
1		
2		
3		
4		
5		

Баллы

Задание 4

Перед вами объекты культуры

1	2	3
		
4	5	6
		
7	8	9
		

Распределите репродукции в следующем порядке:

1. памятники, находящиеся в Москве;
2. памятники, находящиеся в Санкт-Петербурге;
3. памятники, находящиеся в Тамбове;
4. памятники, находящиеся в Тамбовской области;
5. определите их название и по возможности авторов.
6. В каких музеях находятся произведения под №3, №5, №9?
7. В каких видах искусства Вы сталкивались с сюжетом произведения №3?
Дайте комментарий-пояснение своему выбору.

Таблица ответов

Вопрос	№	Название и автор
Памятники, находящиеся в Москве		

Памятники, находящиеся в Санкт-Петербурге		
Памятники, находящиеся в Тамбове		
Памятники, находящиеся в Тамбовской области		
В каких музеях находятся произведения? под №3, №5, №9?		
В каких видах искусства Вы сталкивались с сюжетом произведения №3? Дайте комментарий-пояснение своему выбору		

Баллы

Задание 5

По фрагментам определи:

фрагмент	названия произведений	страну создания и время
<p>1. Гнев, о богиня, воспой Ахиллеса Пелеева сына, Грозный, который ахейнам тысячи бедствий содеял: Многие души могучие славных героев низринул В мрачный Аид и самих распростер их в корысть плотоядным Птицам окрестным и псам (совершалася Зевсова воля).</p>		
<p>2. </p>		

3.				
----	---	--	--	--

Задание 6.

Посмотри видеофрагмент и ответь на вопросы, занесенные в таблицу.

Таблица ответов

вопрос	ответы
Определите вид искусства.	
Определите название произведения и автора.	
Назовите основных героев произведения.	
Что исполнялось в музыкальном видеофрагменте?	
Напишите не менее 5 определений для характеристики собственного эмоционального состояния от увиденного фрагмента.	

Баллы