







**Задания муниципального этапа Всероссийской олимпиады школьников по искусству (МХК) 2019-2020 учебный год 11 класс.**

**Время выполнения заданий: 180 минут (3 часа)**

**Максимальное количество баллов: 100 баллов**

**Задание 1.** Соотнесите каждую эпоху с работами 3-х художников, которые творили в данной эпохе. Выберите нужную картинку и поставьте ее номер под каждой стрелкой из таблицы, которая соответствует этой эпохе. Средневековье – картинки из Таблицы 1. Возрождение – из Таблицы 2. Зарубежное искусство XVII века – из Таблицы 3. Рядом укажите имя художника:

Таблица 1.

		
1	2	3
		
4	5	6

**СРЕДНЕВЕКОВЬЕ**



Таблица 2.

		
1	2	3
		
4	5	6

ВОЗРОЖДЕНИЕ


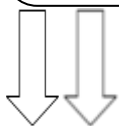


Таблица 3.

		
1	2	3
		
4	5	6

## ЗАРУБЕЖНОЕ ИСКУССТВО XVII ВЕКА



2. Дайте определение эпохи (не менее 2-3-х предложений).

Таблица 4.

Возрождение	
-------------	--


За каждый правильный ответ ставится по 2 балла.





Максимальное количество баллов	20 баллов
Получено	

**Задание 2.**

1. Угадайте названия известных художественных и исторических музеев, в основу которых легли коллекции известных меценатов-предпринимателей или сами меценаты способствовали созданию музейных объектов. Укажите имена их создателей и названия городов, в которых эти музеи сегодня находятся.

Таблица 5.

А			
---	---	--	--

	1) Имя мецената	2) Укажите название музея	3) Укажите название города
Б.			
	1) Имя мецената	2) Укажите название музея	3) Укажите название города
В.			
	1) Имя мецената	2) Укажите название музея	3) Укажите название города

2. Укажите какой из вышеперечисленных музейных объектов сравнивают с Пизанской башней \_\_\_\_\_

*За каждый правильный ответ ставится по 2 балла.*

Максимальное количество баллов	20 баллов
Получено	







### Задание 3.

Внимательно посмотрите на портреты представителей русской интеллигенции – писателей и поэтов XIX – начала XX вв. Угадайте:

- 1) их имена и фамилии;
- 2) имена художников, которые их изобразили;
- 3) названия произведений писателей и поэтов;

Таблица 6.

1	Имена художников (нужное подчеркнуть)	Имена писателей и поэтов (нужное подчеркнуть)	Их произведения (нужное подчеркнуть)
			
	А. Орест Кипренский; Б. Василий Тропинин В. Иван Айвазовский;	А. Юрий Лермонтов; Б. Александр Пушкин; В. Вильгельм Кюхельбекер;	А. Вечера на хуторе близ Диканьки; Б. Мертвые души; В. Борис Годунов;

2			
	<p>С. Василий Перов; Б. Василий Polenov; D. Исаак Левитан;</p>	<p>А. Юрий Лермонтов; Б. Александр Пушкин; В. Федор Достоевский;</p>	<p>А. Дубровский; Б. Братья Карамазовы; В. Евгений Онегин;</p>
3			
	<p>А. Федор Васильев; Б. Иван Крамской; В. Иван Шишкин;</p>	<p>А. Лев Толстой; Б. Федор Достоевский; В. Николай Гоголь;</p>	<p>А. Демон; Б. Шинель; В. Война и мир;</p>

4			
	А. Марк Шагал; Б. Константин Коровин; В. Натан Альтман;	А. Марина Цветаева; Б. Анна Ахматова; В. Вера Инбер;	А. Реквием; Б. Царь-Девница; В. Соловей и роза;

*За каждый правильный ответ ставится по 2 балла.*

Максимальное количество баллов	24 баллов
Получено	

#### **Задание 4.**

1. Соотнесите конкретного зарубежного и отечественного художника, писателя (поэта) и композитора с конкретным художественным направлением, в стилистике которого они работали. Выберите имена из таблицы 7. Обратите внимание, что имена не повторяются.

2. Угадайте название данного художественного направления, которое объединило всех нижеперечисленных представителей.

*Таблица 7.*

Виктор Гюго	Теодор Жерико	Иван Айвазовский	Рихард Вагнер	Василий Жуковский
Фредерик Шопен	Александр Скрябин	Эжен Делакруа	Вальтер Скотт	Стиль???



Таблица 8.


<b>Название направления (вписать)_____</b> - это художественное направление XIX века, которое с помощью выразительных средств старается выразить глубину и богатство внутреннего мира человека.		
<b>В живописи</b>	<b>В литературе</b>	<b>В музыке</b>
3 имени художника	По 3 имени писателя	По 3 имени композитора
1)	1)	1)
2)	2)	2)
3)	3)	3)

*За каждый правильный ответ ставится по 1 баллу.*

*За название направления – 7 баллов.*

Максимальное количество баллов	16 баллов
Получено	

## Задание 5.



Определите произведение по фрагменту:

- 1) автора работы, ее название.
- 2) к какому художественному направлению относится? какие художественные средства и материалы использовал художник?
- 3) содержание работы,
- 4) кто изображен на представленном фрагменте работы? Что они означают?
- 5) Назовите круг художников, которые изобразили подобную тему.

Таблица 9.

1.	Название работы, автор	
----	------------------------	--

<b>2.</b>	<b>Художественное направление/Художественные средства и материалы</b>	
<b>3.</b>	<b>Содержание работы</b>	
<b>4.</b>	<b>Фрагмент/основные символы</b>	

5.	<b>Круг художников с подобной темой</b>	

*За каждый правильный ответ ставится по 4 балла.*

Максимальное количество баллов	20 баллов
Получено	