



ИСКУССТВО (МХК)
ВСЕРОССИЙСКАЯ
ОЛИМПИАДА
ШКОЛЬНИКОВ

2021-2022 уч.год

ШИФР

| | | | | | |
|--|--|--|--|--|--|
| | | | | | |
|--|--|--|--|--|--|

**Муниципальный этап ВсОШ 2021
по предмету «Искусство»**

Фамилия, имя, отчество полностью:

Число, месяц, год рождения (ДД.ММ.ГГГГ):

Класс учащегося:

За какой класс учащийся пишет работу:

Полное название образовательной организации:

Название района или города:

ФИО педагогического работника, подготовившего к олимпиаде

ВСЕРОССИЙСКАЯ ОЛИМПИАДА ШКОЛЬНИКОВ ПО ИКУССТВУ
(МИРОВОЙ ХУДОЖЕСТВЕННОЙ КУЛЬТУРЕ)
(МУНИЦИПАЛЬНЫЙ ЭТАП)

ТЕОРЕТИЧЕСКИЙ ТУР

возрастная группа (10 класс)

Уважаемый участник олимпиады!

Вам предстоит выполнить теоретические (письменные) и тестовые задания. Время выполнения заданий теоретического тура 5 академических часов (225 минут).

Выполнение теоретических (письменных) заданий целесообразно организовать следующим образом

- не спеша, внимательно прочитайте задание и определите наиболее верный и полный ответ;
- отвечая на теоретический вопрос, обдумайте и сформулируйте конкретный ответ только на поставленный вопрос;
- если Вы отвечаете на задание, связанное с заполнением таблицы или схемы, не старайтесь детализировать информацию, вписывайте только те сведения или данные, которые указаны в вопросе;
- особое внимание обратите на задания, в выполнении которых требуется выразить Ваше мнение с учетом анализа ситуации или поставленной проблемы. Внимательно и вдумчиво определите смысл вопроса и логику ответа (последовательность и точность изложения). Отвечая на вопрос, предлагайте свой вариант решения проблемы, при этом ответ должен быть кратким, но содержать необходимую информацию;
- после выполнения всех предложенных заданий еще раз удостоверьтесь в правильности выбранных Вами ответов и решений. Выполнение заданий целесообразно организовать следующим образом:
 - не спеша, внимательно прочитайте задание;
 - напишите букву (цифру), соответствующую выбранному Вами ответу (в случае использования заданий с выбором ответа из предложенных);
 - продолжайте таким образом работу до завершения выполнения заданий;
 - после выполнения всех предложенных заданий еще раз удостоверьтесь в правильности ваших ответов;
 - если потребуется корректировка выбранного Вами варианта ответа, то неправильный вариант ответа зачеркните крестиком и рядом напишите новый.

Задание теоретического тура считается выполненным, если Вы вовремя сдаете его членам жюри.

Максимальная оценка за задания теоретического тура – 218 баллов.

шифр

| | | |
|--|--|--|
| | | |
|--|--|--|

 баллов

ВСЕРОССИЙСКАЯ ОЛИМПИАДА ШКОЛЬНИКОВ ПО ИСКУССТВУ
(МХК)

Муниципальный этап

10 класс

Задание №1. (маx. 18 баллов)

Рассмотрите иллюстрации. Укажите названия литературных произведений. Назовите их авторов.



Иллюстрация №1



Иллюстрация №2.



Иллюстрация №3.

Бланк для ответов:

1. _____

2. _____

3. _____

| | |
|--|--|
| | |
|--|--|

 баллов

Задание №2. (max. 24 балла)

Рассмотрите изображение. Напишите название, автора и время создания произведения.

Напишите не менее 15-ти определений (слов) которые понадобятся для его описания.



Задание №3. (маж. 39 баллов)

Рассмотрите и проанализируйте картину В. Серова «Девочка с персиками».

1. Опишите общую композицию работы.
2. Назовите значимые и запоминающиеся детали, их место в композиции и роль.
3. Определите общее настроение картины.
4. Укажите 3 известные работы этого художника.



Задание №4. (max. 27 баллов)

Даны 3 произведения искусства. Напишите:

1. Названия изображенных на иллюстрациях произведений.
2. К какому виду искусства относятся.
3. К какой стране они относятся.
4. Назовите время создания.

Заполните таблицу.



1



2









3

| № | название произведения | вид искусства | страна | век или эпоха |
|---|-----------------------|---------------|--------|---------------|
| 1 | | | | |
| 2 | | | | |
| 3 | | | | |

баллов

Задание № 6. (max. 54 балла)

Даны фотографии архитектурных сооружений разных эпох. Определите эпохи и расположите их в таблице в хронологическом порядке. Напишите названия сооружений в соответствии с эпохой.

| | |
|--|---|
|  <p>1</p> |  <p>2</p> |
|  <p>3</p> |  <p>4</p> |
|  <p>5</p> |  <p>6</p> |

Заполните таблицу:

| № | название эпохи | номер картинки | название сооружения |
|----|----------------|----------------|---------------------|
| 1. | | | |
| 2. | | | |
| 3. | | | |
| 4. | | | |
| 5. | | | |
| 6. | | | |

баллов

Задание № 7. (max. 21 баллов)

Даны 12 имен, понятий и терминов, связанных с искусством. Объедините имена, понятия и термины в группы. Дайте название этим группам.

Романтизм. Колорит. Осип Мандельштам. Новелла. Реализм. Палитра. Анна Ахматова.
Символизм. Оттенок. Роман. Александр Блок. Баллада.

Заполните таблицу:

| Название группы | Имена, понятия, термины. |
|-----------------|--------------------------|
| | |
| | |
| | |
| | |

баллов