

Муниципальный этап всероссийской олимпиады школьников
2021/2022 учебный год
**ТЕСТОВЫЕ ЗАДАНИЯ ПО ПРЕДМЕТУ
ИСКУССТВО (МИРОВАЯ ХУДОЖЕСТВЕННАЯ КУЛЬТУРА)**
7-8 класс

1 тур (теоретический)

Время выполнения 225 минут

Максимальное количество баллов – 124.

ЗАДАНИЕ 1. Максимальное количество баллов за задание – 12.

Даны 3 изображения памятников искусства. Напишите:

1. Названия и имена авторов (если они известны) изображенных на иллюстрациях памятников.
2. К какой стране или культуре они относятся.
3. Время их создания.
4. Местонахождение указанных памятников искусства в настоящее время.



1.



2.




3.

ЗАДАНИЕ 2. Максимальное количество баллов за задание - 38.

Даны 5 архитектурных сооружений. Рассмотрите работы.

1. Расставьте номера работ в хронологической последовательности эпох, стилей или направлений, к которым они принадлежат.
2. Назовите до 5 черт каждой эпохи, стиля или художественного направления, позволивших Вам принять решение о датировке работ.
3. Если знаете, напишите имена авторов и названия работ.


1.



2.



3.



4.




5.



ЗАДАНИЕ 3. Максимальное количество баллов за задание –11.

Определите художественное полотно по фрагменту.

1. Напишите, что на нем изображено.
2. Напишите название работы и имя ее автора.
3. Какую часть в композиции занимает представленный фрагмент?
4. Опишите общую композицию работы и укажите количество изображенных на ней фигур.
5. Определите общее настроение работы.
6. Укажите время его создания и характерные черты искусства этого времени.



ЗАДАНИЕ 4. Максимальное количество баллов за задание – 10.

1. Объедините имена, понятия и термины в группы.
2. Дайте определение каждой группе.

Фриз, карниз, Веласкес, Рубенс, Фидий, фронтон, Джорджоне, Пракситель, Эль Греко, Тициан, Леонардо, база, Микеланджело, антаблемент, Лисипп, Тинторетто, Караваджо.

ЗАДАНИЕ 5. Максимальное количество баллов за задание – 5.

Соотнесите музыкальные произведения и имена композиторов. Ответ запишите в виде комбинации цифр и букв:

1. В пещере горного короля	А). А. Вивальди
2. Полет шмеля	Б). В.А. Моцарт

3. Времена года	В). П. Чайковский
4. Танец феи Драже	Г). Э. Григ
5. Турецкий марш	Д). Н. Римский-Корсаков

ЗАДАНИЕ 6. Максимальное количество баллов за задание – 10.

Прочитайте текст.

1. О каком театре идет речь?
2. Назовите страну, где мог находиться такой театр?
3. Какой драматург прославил этот театр?
4. Какие его пьесы этого драматурга Вы знаете (назовите 5 пьес)?

«Театр имел форму башни (восьмиугольника). Состоятельная публика занимала сидячие места в двух верхних ярусах галереи, а в нижнем располагались музыканты. Основная часть зрителей смотрела представление стоя на земляном полу в партере. Придворные и светские щеголи за высокую плату сидели прямо на сцене. Окон в театре не было, спектакли разыгрывались только в дневное время прямо под открытым небом. Над частью сцены иногда натягивали тент – голубой, если разыгрывалась комедия, и черный с золотыми звездами, если играли трагедию. Около входа в театр располагалась фигура Геркулеса, который держал сферу, символизирующую земной шар, со словами Петрония: «Весь мир играет».

ЗАДАНИЕ 7. Максимальное количество баллов – 18.

Рассмотрите репродукцию.

1. Если узнали произведение, напишите его название, автора и время создания.
2. Напишите не более 15 определений или содержащих их словосочетаний, которые понадобятся для описания запечатленного на репродукции образа. Распределите записанные определения по группам. Объясните принцип группировки.



ЗАДАНИЕ 8. Максимальное количество баллов – 20.

Выберите ответ, который наилучшим образом, по вашему мнению, характеризует современный театр (театр XXI века). Обоснуйте свой выбор (с примерами и характеристиками). Постарайтесь написать связный текст в жанре эссе.

- А) театр-храм В) театр-развлечение
Б) театр-трибуна; Г) театр-лаборатория