

**Муниципальный этап всероссийской олимпиады школьников
по искусству
2022-2023 учебный год
7-8 класс
Максимальный балл – 127 баллов**

Задание 1. (16 баллов). Перед Вами три словосочетания:

Софийский собор в Новгороде, Фрески Софии Киевской, «Поучение» Владимира Мономаха.

1. Кратко поясните в таблице смысл каждого словосочетания.
2. Напишите, с какой культурно-исторической эпохой ассоциируются эти словосочетания. Дайте краткую характеристику (3 черты).
3. Приведите ОДИН яркий пример культурного наследия определенной Вами эпохи. Дайте его краткую характеристику. Поясните выбор.

Таблица для ответа:

Словосочетание	Значение
Софийский собор в Новгороде	
Фрески Софии Киевской	
«Поучение» Владимира Мономаха	
Название культурно-исторической эпохи	
Характеристика культурно-исторической эпохи	
Свой пример	

Задание 2. (16 баллов). Прочитайте поэтические строки и ответьте на вопросы.

Возвращает преданий прибор
Чудеса, что ушли безвозвратно,
И как будто ведет за собой
В лабиринты времен Ариадна.
А.Немировский

Вопросы:

1. Какой культурно-исторической эпохе посвящены поэтические строки?
2. Выпишите из стихотворения ключевые слова, относящиеся к этой эпохе.
3. Из приведенного ниже иллюстративного ряда отберите иллюстрации, имеющие отношение к данному культурно-историческому периоду. Иллюстрации подпишите, обозначив название произведения.
4. Сформулируйте основные черты данной культурно-исторической эпохи.

А.



Б.



В.



Г.




Д.



Е.



Ж.



З.




Таблица для ответа:

1. Название эпохи	
2. Ключевые слова из стихотворения	
3. Номера иллюстраций	
Черты культурно-исторической эпохи	

Задание 3. (23 балла). Дан фрагмент живописного произведения.

1. Узнайте произведение по фрагменту. Напишите название произведения, фамилию, имя, отчество автора (художника).



- Опишите, что окружает данный фрагмент на картине, что находится справа и слева от него.
- Напишите 5-6 слов или словосочетаний, передающих настроение картины.

Таблица для ответа:

Автор, название	
Описание картины, обязательна ссылка на место фрагмента в картине	
Настроение картины	

Задание 4. (10 баллов). Рассмотрите изображения и выполните задания.


- Что объединяет все четыре изображения?
- Дайте определение понятию, объединяющему все четыре произведения.
- Приведите два произведения искусства, которые смогли бы продолжить представленный ряд.



1



2



3



4

Таблица для ответа:

1.
2.
3.

Задание 5. (26 баллов). Посмотрите видеофрагмент.

1. Напишите фамилию, имя, отчество писателя и название литературного произведения, которое лежит в основе данного мультипликационного фильма.
2. Определите и напишите эмоциональную доминанту фрагмента мультипликационного фильма.
3. Напишите, с помощью каких средств выразительности создается художественный образ во фрагменте.
4. Назовите другие мультипликационные фильмы на основе литературных произведений

Таблица для ответа:

Автор и название литературного произведения	
Эмоциональная доминанта	

Средства выразительности	
Другие мультипликационные фильмы	

Задание 6. (22 балла). В таблице перепутаны понятия и их определения.

1. Соотнесите понятия с их определениями.
2. Внесите в таблицу ответа буквы, соответствующие цифрам.
3. Дайте определение оставшимся понятиям.
4. Из представленных терминов укажите те, которые возникли в архитектуре Древнего Рима. Приведите примеры памятников древнеримской архитектуры, в которых использованы данные элементы.



Понятия	Определения
1. Контрфорс	а. Верхняя, несомая часть ордера
2. Базилика	б. Декоративная башенка с остrokонечным верхом
3. Купол	в. Криволинейное перекрытие между двумя опорами
4. Антаблемент	г. Тип строения прямоугольного плана
5. Арка	д. Вертикальная опора, поддерживающая часть внешней стены
6. Портик	
7. Пинакль	

Таблица для ответа:

№	1	2	3	4	5	6	7
Буквы							
Определения							
Архитектура Древнего Рима							

Задание 7. (14 баллов). В таблице перепутаны местонахождения памятников архитектуры.

1. Соотнесите архитектурное сооружение и его местонахождение (позиции 1-4, А-Г)
2. Внесите в таблицу ответа буквы, соответствующие цифрам.
3. Определите название оставшимся изображениям

Местонахождение памятника	Изображение
1. Киев	 А
2. Стамбул	 Б





3. Москва			
4. Рим	В		
5			
6			

Таблица для ответа:

1	2	3	4	5	6