


ВСЕРОССИЙСКАЯ ОЛИМПИАДА ШКОЛЬНИКОВ ПО ИСКУССТВУ (МИРОВОЙ ХУДОЖЕСТВЕННОЙ КУЛЬТУРЕ)

РАЙОННЫЙ ЭТАП
9 КЛАСС



23 ноября 2022 года

ЗАДАНИЕ №1 (1.1.-1.5)

- 1.1.** Вверху фрагмент известной картины (№1). Напишите автора, название и дату создания произведения.
- 1.2.** Ниже фрагменты других произведений этого же художника. Напишите, какой фрагмент нижнего ряда относится к картине, фрагмент которой вверху (№1).
- 1.3.** Напишите названия двух других картин, фрагменты которых в нижнем ряду.
- 1.4.** На сюжет какой древнерусской поэмы написана картина, представленная фрагментом №1. Напишите её название.
- 1.5.** Напишите, какое событие древнерусской истории описывает эта поэма (не более пяти предложений).

1



1.1. Вверху фрагмент известной картины (№1). Напишите автора, название и дату создания произведения.

1.2. Ниже фрагменты других произведений этого же художника. Напишите, какой фрагмент нижнего ряда относится к картине, фрагмент которой вверху(№1).

1.3. Напишите названия двух других картин, фрагменты которых в нижнем ряду.



2



3



4



1.4. На сюжет какой древнерусской поэмы написана картина , представленная фрагментом №1. Напишите её название.

1.5. Напишите, какое событие древнерусской истории описывает эта поэма (не более пяти предложений)



ЗАДАНИЕ №2 (2.1.-2.4)


Перед Вами фото трех архитектурных сооружений и три плана зданий.

2.1. Напишите, как называется круглое в плане здание.

2.2. Соотнесите план здания и соответствующий архитектурный объект. Приведите по 2-3 аргумента в пользу Вашего выбора каждой пары.

2.3. Напишите архитектора (если известен), название и даты создания каждого здания.

2.4. Напишите, к какому стилю или культурной эпохе относится каждое здание.



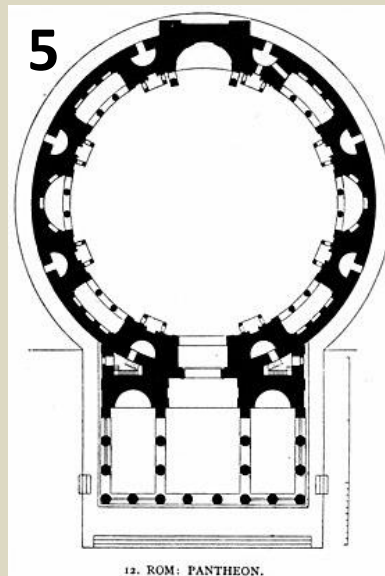
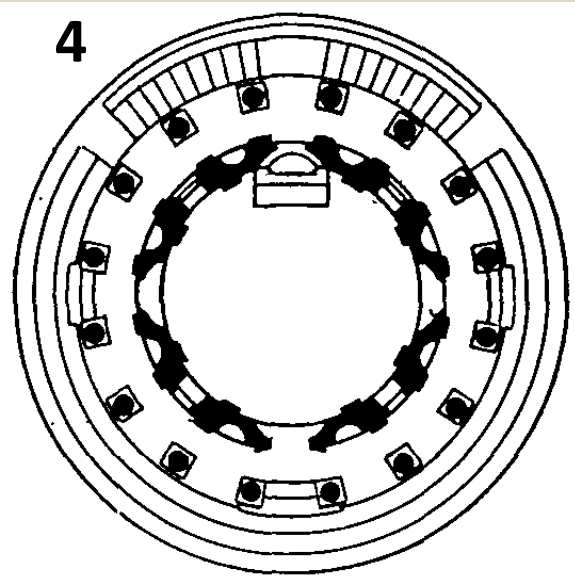
Перед Вами фото трех архитектурных сооружений и три плана зданий.

2.1. Напишите, как называется круглое в плане здание.

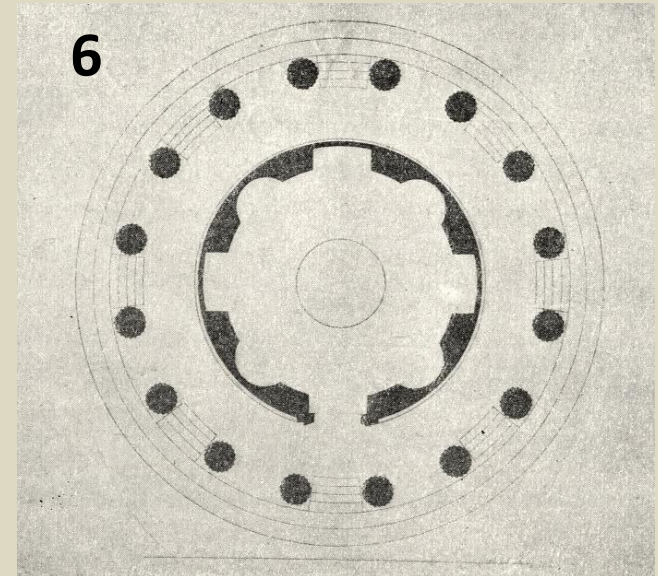
2.2. Соотнесите план здания и соответствующий архитектурный объект. Приведите по 2-3 аргумента в пользу Вашего выбора каждой пары.

2.3. Напишите архитектора (если известен), название и даты создания каждого здания.

2.4. Напишите, к какому стилю или культурной эпохе относится каждое здание.



12. ROM: PANTHEON.



ЗАДАНИЕ №3 (3.1.-3.3)



В 2023 году в нашей стране будет отмечаться 150-летие со дня рождения выдающегося певца, портреты которого Вы видите на слайде. Оба портрета находятся в музеях Санкт-Петербурга.

3.1. Напишите фамилию, имя и отчество оперного певца.

3.2. Напишите фамилии, имена и отчества художников, создавших эти портреты.

3.3. В каких музеях находятся эти портреты.

3.4. На следующем слайде представлены фотографии певца в различных оперных спектаклях. Напишите названия спектаклей.



В 2023 году в нашей стране будет отмечаться 150-летие со дня рождения выдающегося певца, портреты которого Вы видите на слайде. Оба портрета находятся в музеях Санкт-Петербурга.




3.1. Напишите фамилию, имя и отчество оперного певца.

3.2. Напишите фамилии, имена и отчества художников, создавших эти портреты.

3.3. В каких музеях находятся эти портреты.

3.4. На слайде представлены фотографии певца в различных оперных спектаклях. Напишите названия спектаклей.






Опера Н. Римского-Корсакова.



Опера М.П. Мусоргского.



Опера М.И. Глинки.



Опера Шарля Гуно.

3.3. На слайде представлены фотографии певца в различных оперных спектаклях. Напишите названия спектаклей.

ЗАДАНИЕ №4 (4.1.-4.5)



ГРАЖДАНИНУ МИНИНУ И КНЯЗЮ ПОЖАРСКОМУ
БЛАГОДАРНАЯ РОССИЯ. ЛЬТА 1818

Совсем недавно, в преддверии Дня народного единства, завершились работы по реставрации этого памятника.

4.1. Напишите фамилию, имя и отчество автора скульптурной группы.

4.2. Напишите кого изобразил скульптор и какому событию в отечественной истории посвящен монумент.

4.3. Укажите дату установки монумента.

4.4. К какому стилю искусства Вы бы отнесли это произведение. Напишите, какие черты стиля вы отметили в работе (композиция, силуэт, выразительность поз героев, работа с формой и пропорциями, материалом, светом, степень детализации....)

4.5. Какова, по Вашему мнению, главная идея монумента. Аргументируйте своё мнение в 4-5 предложениях.



ЗАДАНИЕ №5 (5.1.-5.2)

В этом году масштабные выставки работ М.А. Врубеля прошли в Третьяковской Галерее и Русском музее.

Перед вами декоративное блюдо «Садко» (1899-1900) работы М.А. Врубеля.

5.1. Назовите не менее 5 произведений других видов искусства, героем которых также является Садко. Укажите вид искусства.

5.2. Назовите авторов этих произведений (если известны). Оформите ответ в таблицу.



№п/п	АВТОР	НАЗВАНИЕ ПРОИЗВЕДЕНИЯ	ВИД ИСКУССТВА
1.			
2.			
3.			
4.			
5.			

ЗАДАНИЕ №6 (6.1.-6.3)

В январе 2022 года исполнилось 190 лет со дня рождения английского писателя, математика, философа и фотографа, написавшего удивительную сказку, героиня которой попадает в воображаемый мир, населённый странными антропоморфными существами. Книга считается одним из лучших образцов литературного произведения в жанре абсурда.

В 2010 году режиссер Том Бёртон снял фильм, который можно считать переосмыслением одноименного литературного произведения. Кадр из этого фильма вы видите на слайде.

6.1. Напишите имя английского писателя и название этой сказки.



6.2. Напишите, кого из героев сказки вы видите на иллюстрациях Тенниела, представленных на слайде (если образ повторяется, называем только 1 раз).

6.3. Напишите, к какому виду искусства относятся иллюстрации Тенниела.

1



2



3



4

