

Пермский край
2023-2024 учебный год
**ВСЕРОССИЙСКАЯ ОЛИМПИАДА ШКОЛЬНИКОВ
ПО ИСКУССТВУ (МХК)
МУНИЦИПАЛЬНЫЙ ЭТАП
10 КЛАСС**

Уважаемый участник олимпиады!

Вам предстоит выполнить теоретические (письменные) и тестовые задания.

Время выполнения заданий теоретического тура 5 академических часов (225 минут).

Выполнение заданий целесообразно организовать следующим образом:

- не спеша, внимательно прочитайте задание;
- напишите букву (цифру), соответствующую выбранному Вами ответу (в случае использования заданий с выбором ответа из предложенных);
- продолжайте, таким образом, работу до завершения выполненных заданий;
- после выполнения всех предложенных заданий еще раз удостоверьтесь в правильности ваших ответов;
- если потребуется корректировка выбранного Вами варианта ответа, то неправильный вариант ответа зачеркните крестиком и рядом напишите новый.

Задание теоретического тура считается выполненным, если Вы вовремя сдаете его членам жюри.

Максимальная оценка за задания теоретического тура – 186 баллов:

номер задания	максимальные баллы за каждое задание	время выполнения	баллы, полученные участником
1	18	25 мин.	
2	26	30 мин.	
3	26	35 мин.	
4	28	35 мин.	
5	40	45 мин.	
6	30	35 мин.	
7	18	20 мин.	
Итого	186	225 мин.	

Максимальное количество баллов за творческий и теоретический тур – 286 баллов.

ТЕОРЕТИЧЕСКИЙ ТУР

Задание № 1. Пространственное искусство

Перед Вами пять слов: *Монферран, коллонада, фасад, балюстрада, портал.*

1. Запишите их в таблицу
2. Дайте им лаконичное пояснение, определение.
3. Напишите вид искусства, объединяющего все слова.
4. Приведите ОДИН яркий пример культурного наследия, относящегося к определенному Вами виду искусства. Поясните выбор.

Максимальный балл - 18 баллов.

Задание № 2. Знаменитое произведение изобразительного искусства

Вам дано описание известного произведения искусства. Необходимо определить:

1. полное имя автора произведения искусства;
2. его название;
3. вид искусства, к которому оно относится;
4. жанр;
5. выписать слова или словосочетания, которые помогают определить название произведения;
6. эпоху создания или век;
7. место нахождения произведения;
8. другие три произведения автора.

«Художник долго обдумывал композицию картины. На первом эскизе опальную боярыню в оковах везут мимо царских палат по кремлевскому двору. Вокруг толпится народ, но она смотрит поверх голов на кого-то в здании или на крыльце, возможно на царя. За первым эскизом последовало множество других, действие из Кремля было перенесено на московскую улицу, и в окончательном варианте сани с боярыней вклиниваются в толпу. Боярыня и народ – такова тема картины. Бледное лицо героини со впалыми щеками и фанатичным блеском глаз прекрасно и страшно одновременно. Во всем облике боярыни, которая левой рукой вцепилась в сани и высоко подняла правую со сложным двоеперстием, - и огромная внутренняя сила, и невероятное нервное напряжение».

Максимальный балл - 26 баллов.

Задание № 3. Музыкальное произведение

Вам предлагается для просмотра видеофрагмент известного музыкального произведения без названия, которое предстоит определить.

При совместном просмотре рекомендуется задание выполнять первым, чтобы Вы могли в дальнейшем самостоятельно распределить время, работая в своем темпе.

1. Напишите название музыкального произведения и его жанр.
 2. Полное имя композитора.
- Подсказка. Вам дан портрет композитора (см. иллюстративный ряд).
3. Назовите культурно-историческую эпоху, в которой происходит действие.
 4. Выделите доминирующее настроение музыки.
 5. Напишите, с помощью, каких средств выразительности создается художественный образ во фрагменте.

Максимальный балл - 26 баллов.

Задание № 4. Пермская деревянная скульптура

Перед Вами представлена скульптурная композиция.

1. Предложите название данной композиции.
2. Поясните, выбранное вами название.
3. Составьте описание данной композиции.
4. Опишите свое эмоциональное впечатление о скульптурной композиции в публицистической форме.

Максимальный балл - 28 баллов.

Задание № 5. Живопись

Перед Вами четыре репродукции картин известного русского художника (см. иллюстративный ряд). Его творчество чрезвычайно разнопланово: он занимался живописью, сценографией, скульптурой и книжной графикой. Любимой темой мастера всегда оставалась провинциальная Россия с её ярмарками и шумным масленичным весельем.

1. Напишите полное имя художника.
2. Укажите жанры живописи, в которых он работал.
3. Назовите общую тему репродукций картин №№1,2,3,4.
4. Напишите названия работ автора №№1,2,3,4.
5. Внимательно просмотрите репродукцию картины под № 3. Опишите и проанализируйте общую композицию. При описании и построении анализа используйте искусствоведческую терминологию.

Максимальный балл - 40 баллов.

Задание № 6. Архитектура

Вам даны изображения 6 архитектурных сооружений 2 разных стилей (см. иллюстративный ряд).

1. Соберите номера сооружений в группы по стилям и расположите группы в хронологической последовательности. Ответ запишите в таблице.
2. Напишите отличительные характерные признаки каждого архитектурного стиля.
3. Представьте свой вариант концепции парка архитектуры на основе данных примеров.

Максимальный балл - 30 баллов.

Задание № 7. Театральный лекторий

Вам предложили составить программу Театрального лектория, посвященного творчеству известного русского драматурга Александра Николаевича Островского.


1. Дайте название Театральному лекторию.
2. Афиша мероприятия.
 - 2.1. Опишите предполагаемую композицию и что, на Ваш взгляд, необходимо в нее включить.
3. Фрагменты, каких пьес А.Н. Островского Вы включите в программу? Ответ обоснуйте.
4. Напишите предполагаемых участников мероприятия.

Максимальный балл - 18 баллов.


Пермский край
2023-2024 учебный год
**ВСЕРОССИЙСКАЯ ОЛИМПИАДА ШКОЛЬНИКОВ
ПО ИСКУССТВУ (МХК)
МУНИЦИПАЛЬНЫЙ ЭТАП
10 КЛАСС**

ИЗОБРАЗИТЕЛЬНЫЕ РЯДЫ К ЗАДАНИЯМ

Изобразительный ряд к заданию № 3.



Изобразительный ряд к заданию № 4.



Изобразительный ряд к заданию № 5.

1.




2.



3.



4.



Изобразительный ряд к заданию № 6.

1.



2.



3.



4.



5.



6.

