

## Ответы теоретического тура

**Матрица ответов тестовых заданий для 7-8 классов (мальчики)**  
(максимальный балл за выполнение задания – 22 балла)

<b>№ вопроса</b>	<b>1</b>	<b>2</b>	<b>3</b>	<b>4</b>	<b>5</b>	<b>6</b>	<b>7</b>	<b>8</b>	<b>9</b>	<b>10</b>	<b>11</b>
<b>№ ответа</b>	б	б	а	г	г	а	б	б	в	б	а
<b>№ вопроса</b>	<b>12</b>	<b>13</b>	<b>14</b>	<b>15</b>	<b>16</b>	<b>17</b>	<b>18</b>	<b>19</b>	<b>20</b>	<b>21</b>	<b>22</b>
<b>№ ответа</b>	в	г	а	а	б	б	г	а	б	г	а

### II. Задания, в которых необходимо завершить высказывание.

За каждый правильный ответ 2 балла.  
Максимальная сумма баллов – 8 баллов.

№ вопроса	Ответ
<b>21</b>	пионербол
<b>22</b>	физические упражнения
<b>23</b>	тренер
<b>24</b>	Фосбери-флоп

### III. Задания на установление соответствия между понятиями.

- 1. Сопоставьте вид спорта с количеством полевых игроков одной команды (с учетом вратарей)**

За каждое правильное соответствие в таблице 1 балл.  
Максимальная сумма баллов – 16 баллов.

	№ вопроса			
	1	2	3	4
ответ	г	в	а	б

- 2. Установите соответствия между видами спортивных игр и используемым инвентарём.**

	№ вопроса					
	1	2	3	4	5	6
ответ	д	б	в	е	г	а

- 3. Установите соответствия между видами спорта и специальными терминами.**

	№ вопроса					
	1	2	3	4	5	6
ответ	а	г	в	б	е	д




#### IV. Задание, связанные с графическим изображением


За каждый правильный ответ 2 балла.

Максимальная сумма баллов – 8 баллов.

Изобразите графически:

- а) Стойка, руки на пояс.
- б) Стойка ноги врозь, руки в стороны.
- в) Стойка на коленях.
- г) Стойка на лопатках

<p>а)</p> 
<p>б)</p> 
<p>в)</p> 



### Ответы теоретического тура

Матрица ответов тестовых заданий для 7-8 классов (девочки)  
(максимальный балл за выполнение задания – 22 балла)

№ вопроса	1	2	3	4	5	6	7	8	9	10	11
№ ответа	б	б	а	г	г	а	б	б	в	б	а
№ вопроса	12	13	14	15	16	17	18	19	20	21	22
№ ответа	в	г	а	а	б	б	г	а	б	г	а

### II. Задания, в которых необходимо завершить высказывание.

За каждый правильный ответ 2 балла.  
Максимальная сумма баллов – 8 баллов.

№ вопроса	Ответ
21	пионербол
22	физические упражнения
23	тренер
24	Фосбери-флоп

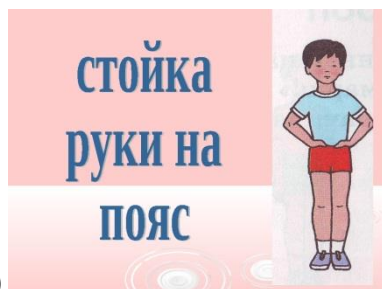
### III. Задание, связанные с графическим изображением

За каждый правильный ответ 2 балла.

Максимальная сумма баллов – 8 баллов.

**Изобразите графически:**

- а) Стойка, руки на пояс.
- б) Стойка ноги врозь, руки в стороны.
- в) Стойка на коленях.
- г) Стойка на лопатках



а)



б)



в)



г)